

二年级秋季班周周练第十讲：植树问题

巩固篇:

1. 一队男生 8 人。老师要求在 2 名男生中间插进 1 名女生，问可插进多少女生？
2. 小冬用 12 张纸订成一个本子。从头数起，每隔 3 纸夹进一片树叶，问这个本子内共放进多少片树叶？
3. 在一条 20 米长的小路两旁种小松树，如果每隔 5 米种一棵，而且两头都种树，问这段小路上共种多少棵？
4. 一根钢管长 6 米，每分钟锯下 1 米，几分钟锯完？
5. 一根木头锯成 4 段，要付锯工费 1 元。如果要把这根木头锯成 13 段，要付锯工费多少元？
6. 小明与爸爸一同上楼。小明上得快、爸爸上得慢，小明上 2 层，爸爸上 1 层。问小明上到五楼时，爸爸上到几楼？
7. 沿着跑道插着 11 面旗，旗与旗离得一样远，第一面旗插在起点。运动员从起点起跑经过 6 秒钟到达第 6 面旗，问运动员到达第 11 面旗时，需要跑 11 秒钟吗？
8. 三点钟时，挂钟打响三下，用了 12 秒。到六点钟时，挂钟打响六下，要用几秒钟？

附加题:

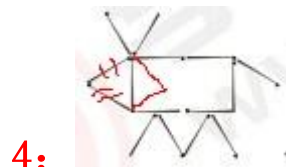
- 1、把一根钢管锯成小段，一共花了 28 分钟，已知每距开一段需要 4 分钟，这根钢管被锯成了多少段啊？
- 2、在一条公园的小路旁边放一排花。每两盆花之间距离 10 米，共放了 24 盆。现在要改成每 6 米放一盆，需要再搬来几盆花？

二年级秋季班周周练第九讲答案:

1: D;

2: B;

3: A;



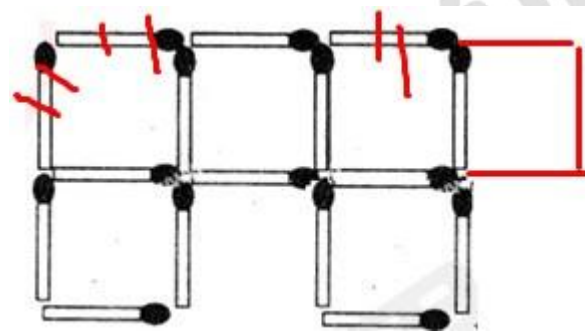
去掉前面两根，放在身子左端。

5: B, 变成 $1+1=2$;

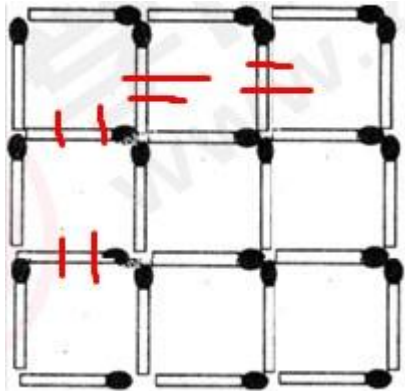
6: C, 变成 $14-7+4=11$;

附加题:

1、



2、(1)



(2)

