

一年级秋季班周周练第 13 讲：思维游戏（答案）

知识点

本节课从多角度锻炼学生的能力，主要培养学生灵活、敏捷的思维能力。

巩固篇

1、在每组中圈出不同的。

(1)

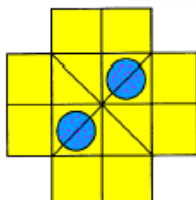
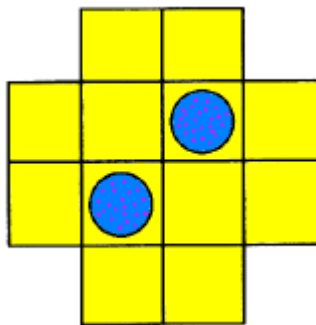


(2)



分析：狗；鱼。

2、把下面的这个饼分成一样大小的四块，每块还必须分到半个鸡蛋，请你分一分（蓝色圆表示鸡蛋）。



分析：

3、图中哪一行规律与其他三行不相同? 你能一眼看出来吗?

(1)

(2)

(3)

2	4	6	8
1	3	5	7
4	6	8	10
3	4	5	6

10	7	4	1
12	9	6	3
15	13	11	9
13	10	7	4

7	5	3	1
6	4	2	0
2	4	6	8
9	7	5	3

分析: (1)第一、第二、第三行上的数都是每次逐渐增加2, 但第四行上的数是逐渐增加1, 所以第四行与其它三行不相同. (2)第一、第二、第四行上的数都是每次逐渐减少3, 但第三行上的数是逐渐减少2, 所以第三行与其它三行不相同. (3)第一、第二、第四行上的数都是每次逐渐减少2, 但第三行上的数是逐渐增加2, 所以第三行与其它三行不相同.

提高篇

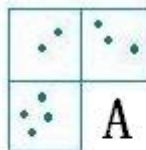
4、单人椅只坐1个小朋友, 双人椅能坐2个小朋友, 当这些椅子坐满时, 还有 () 个小朋友没有座位.



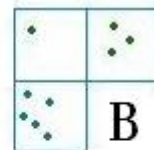
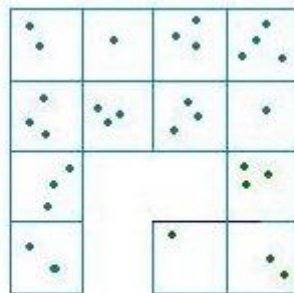
分析: 2 (可以列式计算, 可以连线, 方法不唯一).

挑战篇

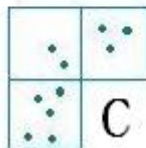
5、找找看, 哪个图形适合填在空白的部分?



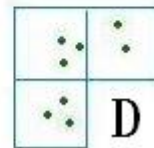
A



B



C



D

分析: 规律是每行的点的个数和为10, 所以选 B.