

数学一年级（下）期中综合检测题

班级_____姓名_____成绩_____

一、直接写得数。（20 分）

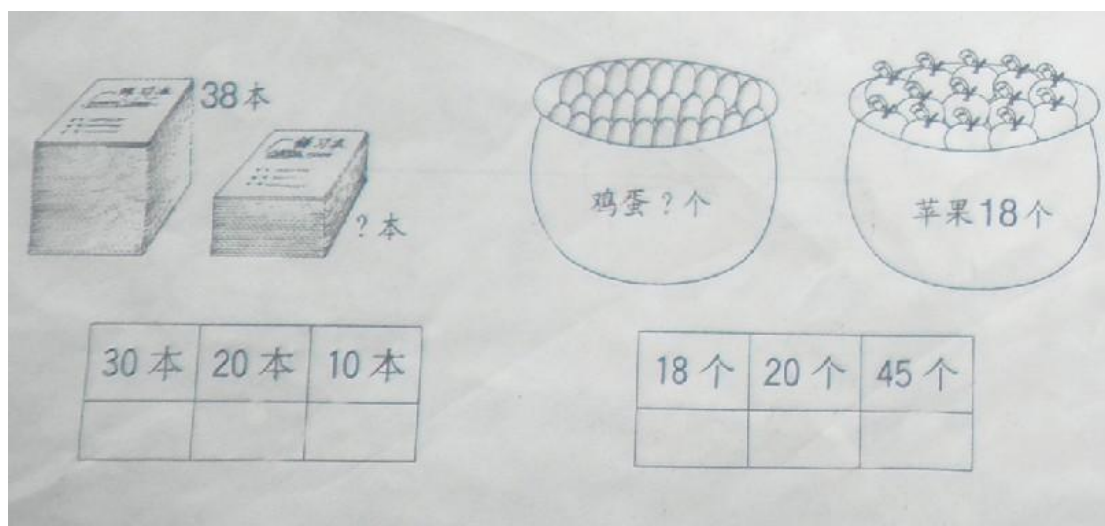
$$\begin{array}{cccc}
 16-8= & 12-4= & 11-8= & 34-4= \\
 6+40= & 9+60= & 14-9= & 40+7= \\
 87-7= & 13-5= & 50-3= & 12-7= \\
 15-8= & 40+20= & 8+6= & 25-20= \\
 50+20= & 17-9= & 18-8= & 30+8=
 \end{array}$$

二、填空。（10 分）

- (1)各位上是 0，十位上是 3，这个数是（ ）。
- (2)在 82 中，2 表示（ ），8 表示（ ）。
- (3)4 个“十”和 3 “个”一组成（ ），再加上 5 个“十”，结果是（ ）。
- (4)25 里面有（ ）个“十”和（ ）个“一”。
- (5)与 59 相邻的两个数分别是（ ）和（ ）。

- (6)  有 71 个， 有 67 个， 比  少，比  多， 可能有（ ）个。

三、 在你认为合适的答案下面画上√。(4分)



四、先找出下面数字里的规律，再在方框中填上合适的数。(11分)

	28	38	
		48	
31			33
41			43
51			53

	42	
	52	53

43	
	54
63	

五、 数一数，填一填。（8分）

正方形有（ ）个，

长方形有（ ）个，

圆形有（ ）个，

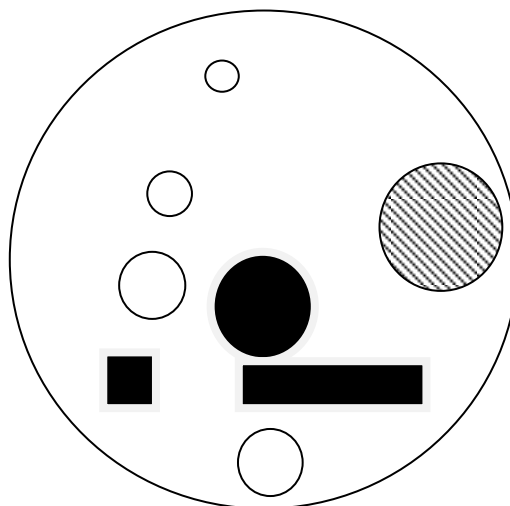
三角形有（ ）个，

平行四边形有（ ）个，


（ ）的个数最多，

平行四边形和三角形一共有（ ）个，

长方形再有（ ）个就和圆一样多了。



六、 在下面的钉子上画一个正方形和一个平行四边形。（6分）



七、 先计算，再按照得数大小，把算式填在口里。（5分）

16-7= 20+6= 100-50= 4+30= 72-2=

--	--	--	--	--

八、在○里填上“<”“>”“=”。(6分)

$97-7 \bigcirc 85 \quad 45 \bigcirc 55-5 \quad 18+20 \bigcirc 40$

$9+40 \bigcirc 54 \quad 69 \bigcirc 9+60 \quad 8+50 \bigcirc 60$

九、在○填上“+”或者“-”。(6分)

$60 \bigcirc 40 = 100 \quad 53 \bigcirc 50 = 3 \quad 42 \bigcirc 2 = 40$

$17 \bigcirc 9 = 8 \quad 50 \bigcirc 1 = 49 \quad 69 \bigcirc 1 = 70$

十、下列哪些算式的得数比50小？在□画上√。(16分)

$65-5 \square \quad 90-50 \square \quad 49+1 \square \quad 40+9 \square \quad 90-40 \square \quad 50-1 \square$

十一、小鸟学本领。(18分)

(1)



我今年 7 岁

再过多少年就 14 岁了？



_____ (年)

(2)

我 3 天看了 30 页，还剩 8 页

一共多少页？





(页)

(3)

我们俩一共有 17 个气球



我有 8 个

小姐姐有多少个？



_____ (个)

(4)



我第一次做了 30 朵小花

第二次做了 7 朵

一共做了多少朵？



_____ (朵)

(5)



我拍 30 下篮球


我拍 40 下篮球

一共拍了多少下篮球



(下)

(6)



今天白天气温 26 度，夜间气温下降 10 度

今天夜间气温多少度？

_____ (度)

