

重庆一中初 2013 级 12—13 学年度上期半期考试 历史试卷 2012.11

(开卷 全卷共五个大题 满分 50 分, 与思想品德学科共用 90 分钟)

一、选择题: 本大题共 15 小题, 每小题 1 分, 共 15 分。在备选答案中只有一项是符合题目要求的。请将你认为正确的答案的英文字母代号填入答卷表格相应的方框中。

1. 下面列举的文明成果中, 属于西方文明的是:

A 象形文字 B 楔形文字 C 《几何原本》 D 《天方夜谈》

2. 在古代, 中日曾经友好交往。下列关于古代日本吸收中国先进文化的表述, 正确的有:

- ①日本派遣留学生到中国(隋、唐)学习 ②日本派遣唐使到中国友好交往
③中国佛教高僧东渡日本讲学, 传播中国先进文化
④日本照搬中国的政治制度, 实行中央集权管理

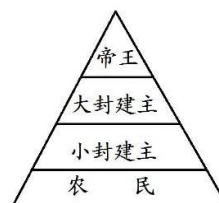
A ①③④ B ①②③ C ②③④ D ①②④

3. 下列关于阿拉伯的兴起和发展, 表述错误的是:

- A 公元 7 世纪以后, 阿拉伯社会奴隶制度发展起来 B 穆罕默德创立并发展伊斯兰教
C 阿拉伯建立的是一个政教合一的国家
D 利用伊斯兰教, 阿拉伯完成统一并走向扩张

4. 对右侧西欧封建等级制度示意图中各阶层之间关系的表述, 正确的是:

- A 大小封建主都是帝王的直接附庸
B 小封建主通过服劳役和耕种的方式向帝王效忠
C 大小封建主之间构成领主与附庸的隶属关系
D 各阶层之间没有严格的等级限制



5. 下列有关古代文明碰撞与融合的叙述, 错误的是:

- A 阿拉伯人充当了东西方文明交流的使者
B 古代战争在客观上促进了不同地区文化的交流
C 古代文明交往的方向单一, 即西方向东方学习
D 马可·波罗是促进东西文化交流的杰出代表

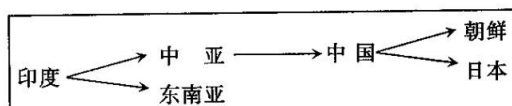
6. 右边示意图描述的是:

A 佛教传播的路线

B 亚历山大东征的路线

C 伊斯兰教传播的路线

D 马可·波罗来华的路线



7. 世界古代史上发生过许多值得探究的重大历史事件。下列历史事件按发生的时间顺序排列正确的是:

①亚历山大东征 ②罗马共和国建立 ③日本大化改新 ④希波战争

A ①②③④ B ②①③④ C ③②④① D ②④①③

8. 文艺复兴时期, 被恩格斯誉为“旧时代的最后一位诗人, 同时又是新时代的最初一位诗人”的是:

A 但丁 B 达·芬奇 C 莎士比亚 D 托尔斯泰

9. 在英国资产阶级革命过程中, 被推上断头台的英国国王是:

A 詹姆士一世 B 查理一世 C 查理二世 D 詹姆士二世

10. 下列关于右图人物的表述, 不正确的是

A 他被任命为大陆军总司令, 指挥对英作战



- B 他被称为“美国国父”
C 他维护了美国的统一，废除了黑奴制度
D 他被称为美国历史上“战争中的第一人，和平中的第一人”

11. 若把“文艺复兴运动”、“新航路开辟”、和“美国独立战争”和“法国大革命”确定为一个学习单元，下列表述最适合作为这一单元主题的是：

- A 揭开殖民序幕 B 走进近代社会 C 构建文化殿堂 D 推进工业革命

12. 下列文献中，在性质和内容上与其它几个明显不同的是：

- A 《人权宣言》 B 《独立宣言》 C 《权利法案》 D 《汉谟拉比法典》

13. 下列不属于法兰西共和国的政治口号的是：

- A 自由 B 人权 C 博爱 D 平等

14. 在殖民争霸战争中，英国先后战胜的国家排列正确的是：

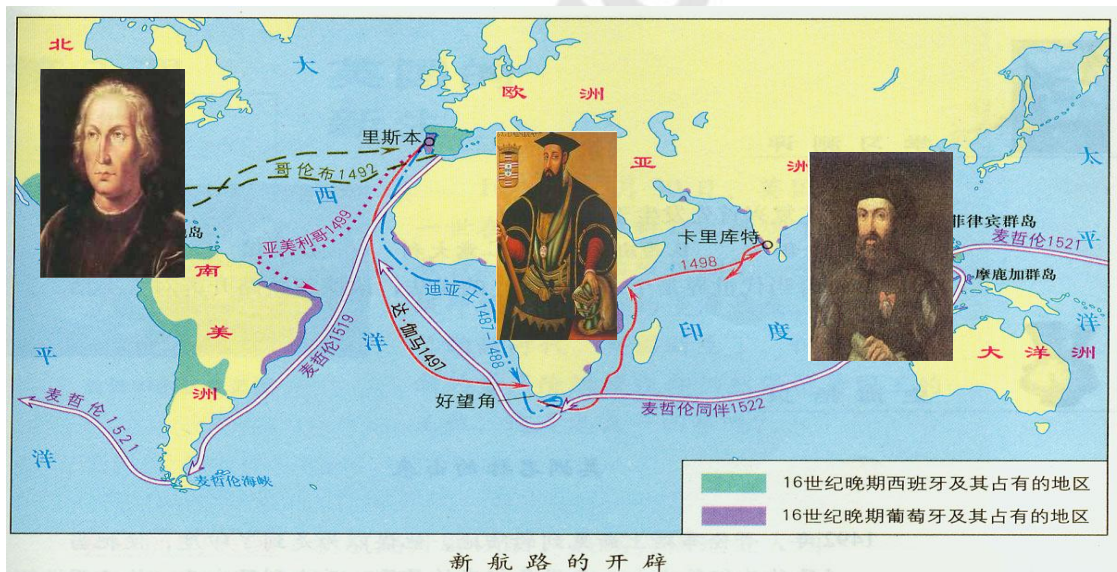
- A 西班牙—葡萄牙—荷兰 B 葡萄牙—西班牙—荷兰
C 葡萄牙—荷兰—法国 D 西班牙—荷兰—法国

15. 在美国南北战争中，起转折作用的事件是：

- A 林肯当选为总统 B 南方宣布成立“美利坚诸州同盟”
C 林肯政府颁布《宅地法》和《解放黑奴宣言》 D 北方军队攻占里士满

二、判断题：每小题 1 分，本大题共 5 分。

16. 仔细阅读下图后进行判断



以下表述是从上图信息中得出的，请在后面的括号内划“√”；违背了上图信息所表达的意思的，请在后面的括号内划“×”；是上图信息没有涉及的，请在后面的括号内划“○”。

- (1) 哥伦布横穿大西洋，最终发现新大陆——美洲。 ()
(2) 新航路探寻的时间先后排列是达伽马—哥伦布—麦哲伦。 ()
(3) 麦哲伦船队完成了人类历史上第一次环球航行。 ()
(4) 都穿过好望角的新航路是哥伦布和达伽马的航行路线。 ()
(5) 新航路的开辟引发了欧洲殖民掠夺的狂潮。 ()

三、识图题：本大题 2 小题，第 17 题 3，第 18 题 2，共 5 分。（答案直接写在答卷上）

17. 观察《美国独立战争》图，请将代表下列地点的英文字母代号填入图中相应的方框内。

- A. 第二届大陆会议召开的地方：费城
B. 大陆军取得胜利的地点：萨拉托加



18. 观察右图，请将正确的字母代号填入对应的方框里。

A 被称为“全希腊学校”的城邦

B 军事实力最强的希腊城邦

C 希腊文明的发源地



四、材料分析题。(19 题、20 题各 6 分，共 12 分)

19. 阅读下列材料回答问题

材料一 当时 (公元前 3 世纪至 2 世纪)，被征服地区的军民俘虏源源不断地流入罗马，成为罗马奴隶的主要来源。据统计，在第一次布匿战争中，罗马总共把 7.5 万名俘虏卖为奴隶。

——吴于廑、齐世荣：《世界史·古代史编》

材料二 奴隶劳动被广泛应用于矿山、大作坊、和农业中。田间劳动的奴隶白天戴着脚镣种地，夜间被关在像地牢一样的屋子里；矿山奴隶系着铁链，在兵士的监督下劳动；角斗士则被驱进角斗场，或互相厮杀，或与猛兽搏斗，以生命为代价供奴隶主哄笑取乐。奴隶主要稍不如主人意就被施以鞭抽、拳打、铁烙。为防止奴隶逃亡，有的奴隶被戴上项圈，项圈上的字是“捉住我，不要让我逃走”。

——《世界历史》九年级上册（川教版）

请回答：

(1) 根据材料一指出：罗马奴隶的主要来源有哪些？（2 分）

(2) 根据材料二，概述奴隶的处境。（2 分）

(3) 结合上述材料及所学知识，简要谈谈奴隶劳动对古罗马国家的影响。（2 分）

20. 阅读材料回答：

材料一：在《人权宣言》和《独立宣言》那闪光的大旗面前，大清龙旗显得那么古旧；在近代自从阶级议会面前，军机处已显得那么落伍；而当康熙因《南山集》案震怒之下一道圣旨

将作者戴名世凌迟处死，血洗牵连三百多人时，英国国会早已通过_____（法律名称）规定国王不得任意废止法律，一举消灭封建专制制度，确立了民主政治。

材料二：1640 年的革命和 1789 年的革命，并不是英国的革命和法国的革命，这是欧洲范围的革命。它们不是社会中某一阶级对旧政治制度的胜利；它们宣告了欧洲新社会的政治制度。资产阶级在这两次革命中获得了胜利；然而，当时资产阶级的胜利意味着新社会制度的胜利，资产阶级所有制对封建所有制的胜利……这两次革命不仅反映了它们本身发生的地区即英法两国的要求，而且在更大得多的程度上反映了当时整个世界的要求。

——《马克思恩格斯全集》第 6 卷，第 125 页

请回答：（1）材料一中英国通过的“法在王上”的法律名称是什么？它对英国历史最大的作用是什么？（2 分）

（2）根据材料二概括指出：“整个世界的要求”是指什么？早期的英、法、美等国通过哪种方式达到了“整个世界的要求”？（2 分）

（3）根据材料并结合所学知识，请比较 1640 年革命和 1789 年的革命在爆发原因和结果上的相同点。（2 分）

五、简答题：（21 题 6 分，22 题 7 分。共计 13 分）

21. 希腊人以区区数百年间，竟然创造了无比辉煌的古代文化，这无疑是人类文化史上的奇迹。希腊的文化成就决不是偶然的巧合，而是合乎历史规律的能动创造。

请回答

（1）古希腊文明与西方文明的关系是怎样的？古希腊对后来西方国家政治制度影响最深远的成就是什么？（2 分）

（2）古希腊文化辉煌灿烂，曾对世界产生重大影响。请就文学、艺术、科技三方面各举一例加以说明。（3 分）

（3）古希腊的成就决不是偶然的巧合，有其主、客观多方面的原因。请你总结其最主要的原因是什么？（1 分）

22. 世界近代史是 16 世纪前后至 20 世纪初的这段历史。在这一历史阶段中，世界各地

的相对孤立和相互隔绝状态，被广阔的资本主义世界市场和血腥的殖民扩张所打破，人类逐

渐步入相互联系、相互依赖的世界一体化阶段，进而产生了真正意义上的世界历史。

请回答：

（1）思想解放运动是历史变革的先导。请问：14-16 世纪发生在欧洲的那场思想解放运动的名称是什么？它对欧洲资本主义社会的产生起到了怎样的作用？（2 分）

（2）有人说：14-16 世纪的历史是“人和世界”被发现的历史。这里的“人被发现”具体是指“人文主义”思想的传播，那“世界被发现”又指什么事件？它对世界格局的变化有着怎样的作用？（2 分）

（3）在非洲，有两个著名的海岸，一个是象牙海岸，另一个是黄金海岸。去前者，是因为它美丽的名字。去后者，则是因为它是著名的奴隶堡。在人类历史上，没有什么比贩卖人口更为耻辱的事情了。这种“肮脏的交易”在世界历史中被称为什么？它对非洲有着怎样的恶劣影响？（2 分）

（4）请简要分析（2）、（3）提到的两个事件之间的关系。（1 分）