

巴蜀中学初 2014 级历史期末测试题

（开卷 本卷共五个大题 满分 50 分 考试时间：40 分钟）

姓名_____ 班级_____

一、选择题：本大题共 15 小题，每小题 1 分，共 15 分。在备选的答案中只有一个符合题目要求的。请将正确答案的英文字母代号填入正面表格对应题号的方框中。

题号	1	2	3	4	5	6	7	8	9	10	11	12	13	14	15
答案															

- 火是人类进化和发展的重要基础。下列哪种早期人类已经懂得人工取火？（ ）
A、元谋人 B、北京人 C、山顶洞人 D、河姆渡人
- 下列哪位是中华民族的人文始祖？（ ）
A、炎帝 B、舜 C、大禹 D、蚩尤
- 河南省安阳市小屯村本是一个再普通不过的中国乡村，但随着 20 世纪初的考古发掘，小屯村迅速成为中国乃至世界的“焦点”，请问下面哪个不属于这里的考古发现？（ ）
A、司母戊鼎 B、编钟 C、甲骨文 D、商朝殷都遗址
- 《左传》曰：“封建亲戚，以藩屏周。”这一史料反映西周的社会制度是（ ）
A、禅让制 B、王位世袭制 C、分封制 D、郡县制
- 春秋时代，社会风雷激荡，烽烟四起，战火连天。春秋霸王串联起了整个春秋时代，他们见证了这数百年的兴衰荣辱。公元前 7 世纪后期，通过城濮大战，成为中原霸主的是（ ）
A、齐桓公 B、晋文公 C、吴王阖闾 D、楚庄王
- 青铜时代，青铜在生产、军事和生活中都占有重要地位，下列哪个朝代不属于青铜时代？（ ）
A、夏朝 B、商朝 C、西周 D、东周
- 秦王灭亡六国，完成统一，掀开了中国历史崭新的一页。秦完成统一的时间是（ ）
A、公元前 2 世纪早期 B、公元前 2 世纪晚期
C、公元前 3 世纪早期 D、公元前 3 世纪晚期
- 今新疆地区自古就是中国领土，中央政府直接管辖新疆最早是（ ）
A、秦朝 B、西汉 C、东汉 D、唐朝
- 中国和日本是隔海相望、一衣带水的邻邦，中日交往有着悠久的历史。请问以下文物中属于中日友好交往见证的是（ ）




A



B



C



D

- 下列古代著名战役中，不属于“以少胜多”的战役的是（ ）
A、赤壁之战 B、城濮之战 C、巨鹿之战 D、官渡之战
- 魏晋南北朝时期，南方得到开发，以下不属于南方开发的原因的是（ ）
A、少数民族大量南迁 B、社会比较稳定
C、北方农民南迁带来先进工具和技术 D、自然条件优越
- 三国两晋南北朝时期，我国北方和西方的少数民族陆续内迁，其中，至今还存在的少数

民族是（ ）

- A、匈奴族 B、羌族 C、鲜卑族 D、氐族

13、科学技术是推动社会发展的重要生产力。下列属于东汉时期科技成果的是（ ）

- A、老百姓发明造纸术 B、酈道元著作《水经注》
C、祖冲之将圆周率计算到小数点后第 7 位 D、《九章算术》成书

14、中国的汉字博大精深，无论是隶书、楷书，还是草书、行书，追溯其发展渊源，都离不开（ ）

- A、象形文字 B、甲骨文 C、金文 D、小篆

15、请按时间先后顺序将下列事件排序（ ）

- ①佛教的传入 ②道教的创立 ③“百家争鸣”局面的出现 ④“仁”的思想的提出
A、④③①② B、①②③④ C、④③②① D、①②④③

二、判断题：每点 1 分，本大题共 5 分。

16、阅读下表内容判断：

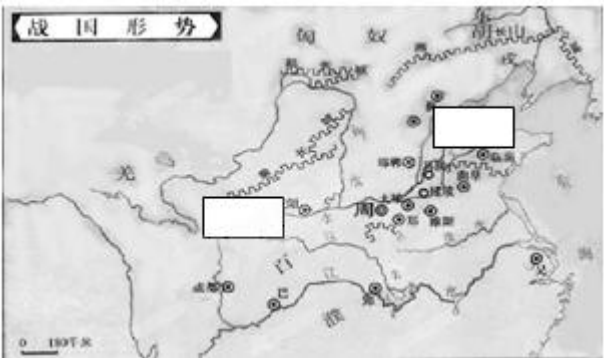
	修建时间	主持人	作用
都江堰	战国	李冰	使成都平原成为“水旱从人，不知饥馑”的天府之国。
郑国渠	战国	郑国	灌溉关中平原的 400 万亩土地，使关中平原成为粮仓。
秦长城	秦朝	蒙恬	巩固了北方边防，成为古代世界的伟大工程。

以下表述是从上表信息中得出的，请在括号内划“√”；违背了上表信息所表达的意思，请在括号内划“×”；是上表信息没有涉及的，请在括号内划“○”。

- (1) 三项工程都是战国时期秦国修建的。 ()
(2) 李冰是成都平原农业发展的重要功臣。 ()
(3) 秦长城西起临洮，东到辽东。 ()
(4) 郑国渠因主持者叫郑国而得名。 ()
(5) 这三项伟大工程表明中华民族有惊人的智慧和力量。 ()

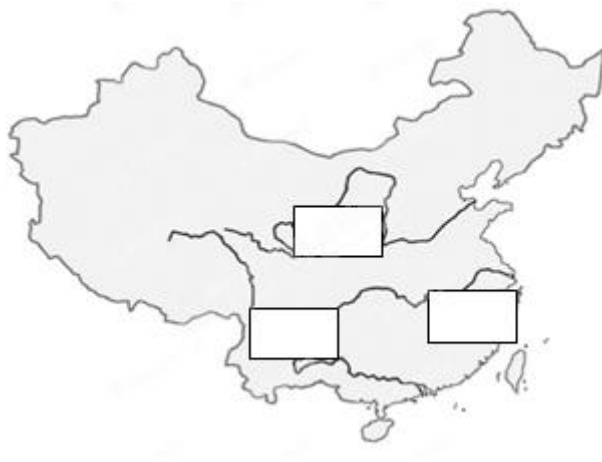
三、填图题：本大题共 2 小题，第 17 题 3 分，第 18 题 2 分，共 5 分。

17、请将 以下中国历史地名的字母代号填入相应位置



- A、统一六国的国家
B、六国中最后被灭的国家

18、请将以下中国历史地名的字母代号填入相应位置



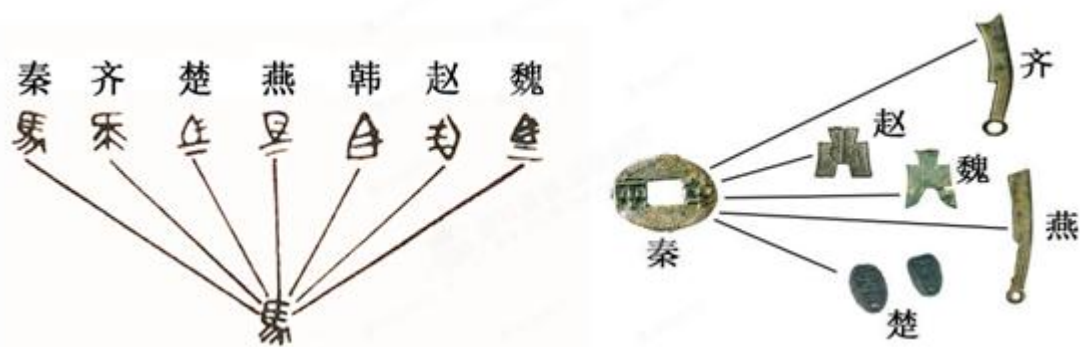
- A、种植粟的农耕文化遗址
- B、种植水稻的农耕文化遗址
- C、诸葛亮治理的地方

四、材料分析题：本大题共 2 小题，每小题 6 分，共 12 分

19、阅读下列材料：

材料一 废除土地国有制，国家承认私人的土地所有权。凡是努力从事农耕，生产粮食和布帛多的，免除徭役，作为奖励。禁止弃农经商。凡是在战场上杀敌立功的人，赏给爵位或官职。全国设 31 县，由国君直接委派官吏去治理。公布法律，实行连坐法。

材料二



材料三 陈县人对陈胜说：“将军身披坚执锐，伐无道，诛暴秦……功宜为王。”

——《史记·陈涉世家》

请回答：

(1) 据材料一，商鞅变法的主要内容中，除改革土地制度、重农抑商、严明法令之外，还有哪两项对后世影响深远的措施？（不得照抄材料原文）(2 分) 商鞅变法与秦统一天下有什么联系？（1 分）

(2) 据材料三两幅图片所示，秦朝为巩固统一采取的两项重要措施是什么？（2 分）

(3) 为什么陈县人如此高度评价陈胜？（1 分）

20、阅读下列材料：

材料一 汉初分封的诸侯国，势力逐渐膨胀，对皇权构成严重威胁。像汉武帝的叔叔梁王出行则千乘百骑，和天子一样威风。……

——人教版历史七年级上册

材料二 他上书汉武帝说，如果让各学说与儒学处于同等地位，必然要扰乱人们的思想，妨碍“大一统”的实现。因此，国家应大力倡导儒家的君权神授的思想，禁止其他学说与儒学齐驱并进。

——川教版历史七年级上册

材料三 在长达一千多年的时间里，它把黄河文明、恒河文明、两河文明和希腊文明等诸多人类文明最重要的起源地，串联在了一起，被喻为世界历史展开的主轴。

请回答：

(1) 材料一反映了汉初社会的哪一问题？汉武帝采取了什么措施来解决这一问题？（2 分）

(2) 材料二中的“他”是谁？在他的建议下，汉武帝在思想上采取了什么措施？（2 分）

(3) 材料三中“被喻为世界历史展开的主轴”是指什么道路？它由谁开凿而成？（2 分）

五、简答题：本大题共 2 小题，第 21 题 7 分，第 22 题 6 分，共 13 分。

21. 人类历史是一部改革发展史，改革是强国之路。结合所学知识回答下列问题。

(1) 春秋时期齐国进行过一场改革，它是在哪位政治家的组织下进行的？它成就了谁的首霸地位？（2 分）

(2) 北魏孝文帝改革将都城迁到哪里？历史上还有哪些王朝在此建都？（3 分）

(3) 北魏孝文帝改革促进了北方民族大融合，其主要措施是什么？（2 分）

21. 泱泱中华有着丰富多彩的文化遗产。面对优秀的民族文化，民族自信心、自豪感油然而生。请结合所学知识回答下列问题：

(1) 为什么说孔子是我国古代伟大的教育家？（2分）

(2) 被鲁迅誉为“史家之绝唱，无韵之离骚”的史学名著《史记》的作者是谁？它的体例是什么？（2分）

(3) 请举两例我国三国两晋南北朝时期的艺术成就，并说明之。（2分）