

重庆市重庆一中 2012 届九年级历史上学期期末考试试题

一、选择题：本大题共 15 小题，每小题 1 分，共 15 分。在备选答案中只有一项是符合题目要求的。请将你认为正确答案的英文字母代号填写在答卷表格的相应方格中。

1.右图是一座欧洲风格的基督教堂，到这里来膜拜的人都信仰：

- A．释迦牟尼 B．穆罕默德
C．耶稣 D．观音菩萨



2.世界古代文明百花齐放,异彩纷呈,下列搭配不正确的是:

- A.两河流域--楔形文字 B.古埃及--<<几何原本>>
C.古希腊--<<拉奥孔>> D.阿拉伯--<<一千零一夜>>

3.为迎接期末考试，小华在复习“大化改新”时整理了一组笔记，其中有误的是：

- A．背景：大和朝廷的统治出现危机 B．时间：646 年
C．内容：效仿中国隋唐制度进行了政治、经济等方面的改革
D．意义：使日本从封建社会过渡到资本主义社会

4.法兰克王国宫相查理·马特（Charles Martel）不仅是一位杰出的军事家（因作战勇猛，外号“锤子”），同时也是一位卓越的政治家，他在政治上的重大举措是：

- A．实行将土地有条件的分封给贵族的制度 B．创立基督教而赢得人心
C．将罗马附近的拉文那地区送给教皇 D．领导琅城市民争取城市自治

5.学习法国大革命的历史后，同学们对如何评价拿破仑展开了激烈争论。下列说法正确的是：

①拿破仑是军事独裁者 ②拿破仑后期的对外战争具有侵略性 ③拿破仑具有卓越的军事才能，从未打过败仗 ④颁布《法典》维护了资产阶级的利益

- A．①②③ B．②③④ C．①③④ D．①②④

6.明治维新领导人久保利通说：“大凡国之强弱，决定于人民之贫富，人民之贫富则系于物产之多寡，而物产之多寡又起因于是否鼓励人民之工业。”下列体现这一主张的措施是：

- A.消除封建割据，加强中央集权 B.改革封建军制，建立近代化军队
C.提倡文明开化，大力发展教育 D.鼓励工业发展，积极兴办新式企业

7.《权利法案》、《独立宣言》和《人权宣言》是英、美、法三国资产阶级革命中颁布的重要法律文件。其中《人权宣言》与其他两部文件相比，突出特点是：

- A．在法律上限制了君主的权利 B．宣布脱离殖民统治而获得独立
C．强调了人生而平等和自由的权利 D．提出私有财产神圣不可侵犯的原则

8.如果你是生活在 18 世纪 60 年代到 19 世纪初期的欧洲人，你有可能：

- A.试乘史蒂芬孙发明的蒸汽机车 B.使用爱迪生发明的电灯
C.在法国巴黎看到电力铁路的开通 D.从报纸看到比利时人格拉姆发明了电动机

9.在欧洲殖民者贩卖黑人奴隶的过程中形成了“三角贸易”。对“三角贸易”表述正确的是：

- ①“三角贸易”的路线是：欧洲——美洲——非洲——欧洲
②“三角贸易”的罪恶在于把黑人当商品
③“三角贸易”使非洲丧失了近亿精壮劳动力
④“三角贸易”促进了欧洲资本主义的发展

- A.①②③④ B.①③④ C.①②④ D.②③④

10.历史学习需要对历史问题的因果关系进行分析，下列没有因果关系的一组是：

- A．伊斯兰教创立——阿拉伯半岛统一 B．生产力提高——西欧城市兴起
C．《九国公约》——五四运动 D．斯巴达克起义——震撼罗马统治



11.下列图

片反映的历史场景，按发生的先后顺序排列，正确的是：

①举办音乐会的东京大学生②林肯宣读《解放黑奴宣言》③签署《独立宣言》④攻占巴士底狱

A . ①③④② B . ②④①③ C . ③④②① D . ④②③①

12.2011 年度中国“十大流行语”排行榜上，排在前列是“伤不起”、“hold 住”、“忐忑”，如果 1917 年的苏维埃俄国也有一个“年度十大流行语”排行榜，你认为排在前两位的应是：

A . 十月革命、工农苏维埃 B . 苏联成立、新经济政策
C . 农业集体化、新宪法 D . “一五”计划、赫鲁晓夫改革

13.这是流行于前苏联的一则笑话：某主妇到食品店买肉。“有肉吗？... ‘没有。...’ 那牛奶呢？”“我们只管卖肉，过街那家店看有没有牛奶卖。”这则笑话：

A . 赞扬苏联人特别有幽默感 B . 说明社会主义制度不能解放和发展生产力
C . 讽刺苏联高度集中的经济政治体制带来的物质短缺问题 D . 表明苏联人特别爱吃肉、喝牛奶

14.有人在评价凡尔赛—华盛顿体系时说：“这不是和平，这是 20 年的休战！”这一结论说明该体系：

A . 没有确立帝国主义在欧洲的新秩序 B . 矛盾重重，为二战埋下祸根
C . 确立起了一个公平、合理的战后世界新秩序 D . 充分考虑到战后各国的利益

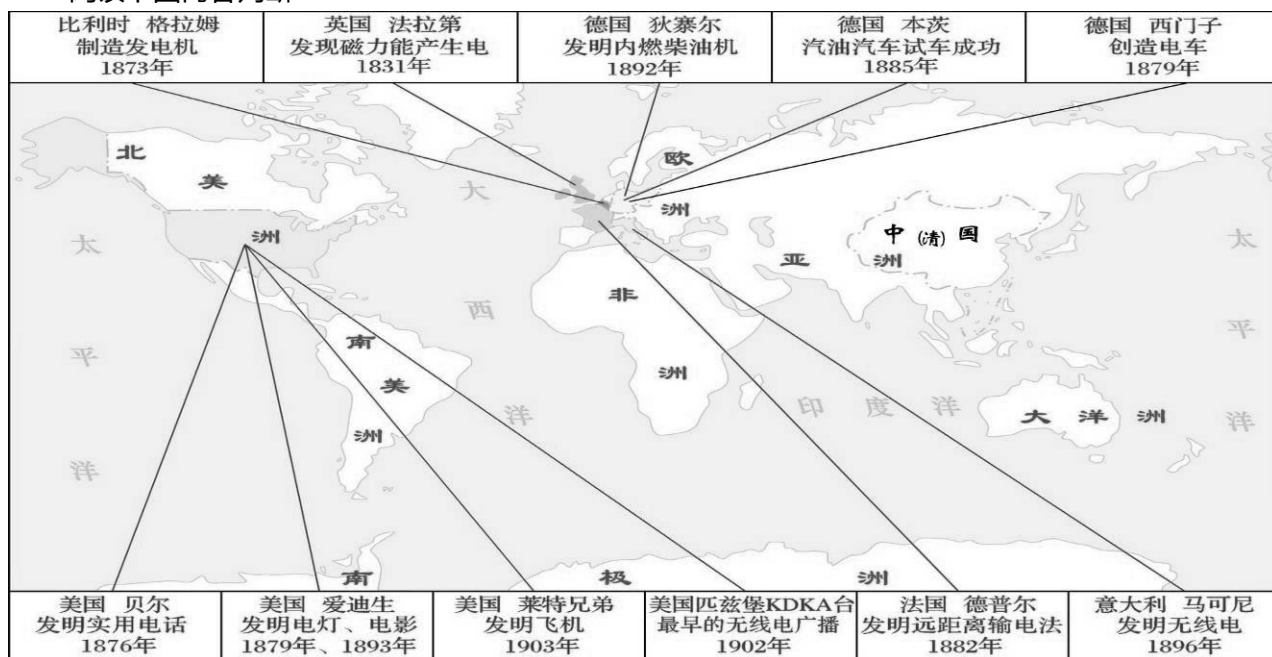
15.近来热播的电影《金陵十三钗》以 1937 年的南京大屠杀为故事背景，从另外一个角度再现了这段国难史，对此每个中国人都应该谨记。下列关于 20 世纪 30 年代以来日本对中国发动侵略战争，并成为亚洲战争策源地的原因分析不正确的是：

A.经济上日本受到经济危机的打击，必须通过对外侵略来转嫁危机
B.政治上日本的法西斯势力趁机抬头，提出了对外侵略的主张
C.经济上一战给日本的经济造成了巨大打击，日本企图用对外扩张来弥补损失

D.政治上日本的明治维新改革不彻底，保留了大量封建残余，为对外战争埋下祸根

二、判断题：每点1分，本大题共5分。

16. 阅读下图内容判断：



第二次工业革命创造发明示意图

以下表述是正确反映上图信息的，请在括号内划“√”；违背了上图信息所表达意思的，请在括号内划“×”；是上图信息没有涉及的，请在括号内划“○”。

- (1)第二次工业革命发生的时间主要是在19世纪70年代到20世纪初。()
- (2)科学与技术真正相结合是第二次工业革命的主要特征。()
- (3)第二次工业革命几乎同时在欧美一些主要的资本主义国家发生。()
- (4)第二次工业革命的重要影响是大大提高了资本主义的生产力。()
- (5)世界上第一辆汽油汽车出现在美国。()

三、填图题：本大题共两小题,17题3分，18题2分，本大题共5分。

17. 请将下列重要地点的英文字母代号填入图中相应方框内。（图片见答卷）

A.最终与法俄结盟形成三国协约的国家

B.三国同盟的核心国

C.1914年该地发生的暗杀事件成为一战导火线

18. 请将下列重要地点的英文字母代号填入图中相应方框内。（图片见答卷）

A.古希腊最繁荣的城邦，被誉为“全希腊的学校”

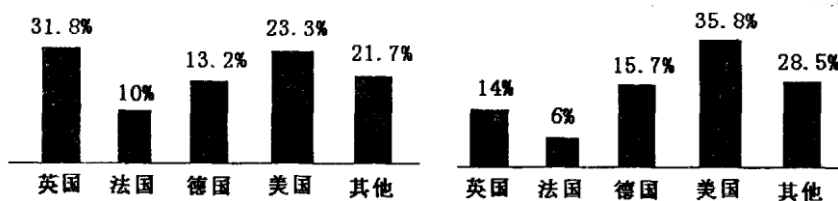
B.曾领导“希波战争”的重要城邦之一

四、材料分析题：本大题共两小题,每题 6 分,本大题共 12 分。

19.阅读下列材料：

材料一：世界博览会（WORLD EXPO，简称“世博会”）是由一个国家的政府主办，有多个国家或国际组织参加，展现人类在社会、经济、文化和科技领域取得成就的国际性大型展示会。自 1851 年英国伦敦举办第一届以来，世博会因其发展迅速而享有“经济、科技、文化领域内的奥林匹克盛会”的美誉。

材料二：英、美、德、法在世界工业生产中比重的变化(1870~1913 年)



材料三：1913 年英、美、德、法殖民地面积的比较

国家	英国	法国	德国	美国
在殖民地面积上所占位次	1	2	3	4


请回答：

（1）阅读材料并结合所学知识，从政治和经济两个方面分析，1851 年英国为何能首先举办世博会？（2 分）

（2）根据材料二、三并结合所学知识指出，19 世纪末 20 世纪初西方列强间主要矛盾是什么？最终导致了什么后果？（2 分）

（3）凡尔登战役中一位战地记者写道：“整个树林被削平得象割去谷穗的田地，所有覆盖物弹痕累累……到处都是残骸、击破的战车、破碎成一块一块的尸体、击毁的大炮，几个月都是如此”。读了这段文字后，请你结合下面三幅图片想一想，为什么会出现这样的局面？

科学与战争有什么关系？（2 分）



20.哲人们认为，思想是地球上最美丽的花朵，一个拥有伟大思想的民族，才能拥有不断前进的动力。阅读下列材料：

材料一：文艺复兴一词起源于意大利语 Rinascimento，意为再生或复兴……16 世纪的资产阶级历史学家认为：文艺在希腊罗马的古典时期曾高度繁荣，而到中世纪却衰败湮灭，直到此时才获“再生”和“复兴”，因而得名。但此时的文化并非古典文化的简单“再生”和“复兴”，而是资产阶级在意识形态方面反封建斗争的反映，故此名称没有把这个时代充分地表达出来。

——《马克思恩格斯

选集》

材料二：一切享有各种天然能力的人，显然都是平等的；当他们发挥各种动物机能的时候，以及运用他们的理智的时候，他们是平等的。

——伏尔泰

材料三：《共产党宣言》是共产主义的“圣经”和“福音书”，“《宣言》创造了一个时代”。一个半多世纪以来，在《宣言》的科学理论指导下，国际共产主义运动蓬勃发展，全世界无产阶级和被压迫民族的解放事业不断取得新的胜利。

—

—斯大林

请回答：

（1）根据材料一指出，文艺复兴运动的作用是什么？结合所学知识说出一个文艺复兴运动的代表人物？（2分）

(2) 根据材料二概括伏尔泰思想主张的核心内容? 在近代欧美资产阶级革命浪潮中, 该思想曾影响了哪个国家的资产阶级革命? (2 分)

(3) 根据材料三指出为什么说《共产党宣言》是共产主义的“圣经”? (1 分)

(4) 根据材料结合所学知识, 请你谈谈思想解放与社会进步的关系? (1 分)

五、简答题: 本大题共两小题, 21 题 6 分, 22 题 7 分, 本大题共 13 分。

21. 文明是人类所创造的全部物质和精神成果, 文明史也就是世界通史。历史上的世界东西文明并不是封闭的体系, 它本身在不断的变动, 同时东西方文明间也在不断地交流。著名历史学家亨廷顿把文明的交流分为三个时期: 1500 年以前称之为遭遇, 1500 年 - 19 世纪末是冲击期, 19 世纪末 - 20 世纪是相互作用时期。请结合所学知识回答:

(1) 亚非大陆是人类文明的摇篮, 孕育了古老的东方文明。请任举一例东方文明中最有代表性的文明成果? (1 分)

(2) 自古以来, 东西方文明间的交流既有和平友好交流, 又有暴力冲突。对此根据所学知识请各举出一个例子? (2 分)

(3) 1500 年以后, 东西方文明间的交流速度加快, 世界逐渐被连成一个整体, 结合所学知识你认为是什么事件导致了这种局面的出现? 该事件对东方世界的消极影响是什么? (2 分)

(4) 对于人类历史上的文明交流谈谈你的看法? (1 分)

22. 美国的出现只有 230 年的历史, 却演绎了大国兴起的罕见奇迹。它在欧洲文明的基础上, 走出了一条独创性的发展道路。这个新兴的工业国家以重大科技发明为基础, 将世界第一经济强国的位置占据了一个多世纪。成为拥有 50 个州、3 亿多人口的名副其实的大国。——《大国崛起》

重庆一中初三年级某班同学开展以《大国崛起》为主题活动的研究性学习，请你帮他们完成以下探究内容：

第一部分：崛起之路

(1) 20 世纪前，美国的崛起跟它历史上的两场著名战争有关，请说出这两场战争的名称？

(1 分)

(2) 20 世纪 30 年代，面对世界性的经济危机，美国采取的应对措施是什么。美国由此走出了一条独创性的发展道路，请举例说明这条道路在美国资本主义发展史上发挥了巨大作用？(3 分)

第二部分：科技兴国

(3) 19 世纪 70 年代以来，美国以重大科技发明为基础，成为世界经济强国。请用史实说明科技成果铸就了美国的强国之路？(2 分)

第三部分：学以致用

(4) 根据上述原因，你认为中国今日的强国之路该如何完成？(1 分)