

重庆市南开中学初 2014 级 2011-2012 学年七年级上期末试题

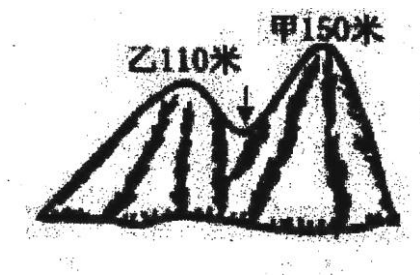
地理试题

友情提示：本试题分第 I 卷(选择题)和第 II 卷(非选择题)两部分，计 100 分。考试时间为 60 分钟。考试完毕交机读卡和第 II 卷

第 I 卷(选择题共 60 分)

一、选择题：在下列每个小题的四个选项中，只有一个是正确选项。请将正确选项填写在机读卡上。（每小题正确得 1 分，共 60 分）

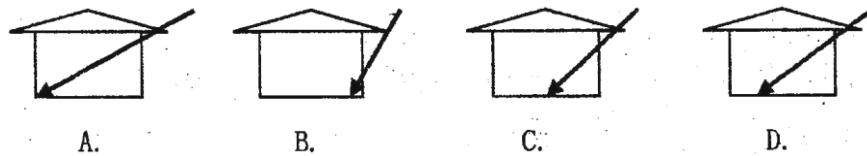
1. “沧海桑田”说明的地理知识是()
A. 地球上只有茫茫大海和农田 B. 茫茫大海在地壳运动过程中也有可能成为陆地
C. 大海也是农田 D. 海洋和陆地是固定不变的
2. 我们平常说的穆斯林指的是()
A. 基督教徒 B. 伊斯兰教徒 C. 佛教徒 D. 犹太教徒
3. 西亚村庄的房屋墙厚窗小的原因是()。
A. 厚墙是为了减少太阳热能通过传导进入室内，小窗是为了减少从沙漠地区吹来的热风
B. 为了预防小偷进入民宅偷盗
C. 为了抵挡当地寒冷的气流
D. 当地居民的风俗习惯决定的
4. 4题图中箭头所在地是相邻两座山峰之间的连接部位，它是()



4 题图

- A. 山谷 B. 山脊 C. 鞍部 D. 陡崖
5. 某人的前后左右都是正南方，他站的位置是()
A. 南极点 B. 赤道 C. 北极点 D. 西北方
6. 下列大洲中，被太平洋、印度洋、大西洋包围的是()
A. 非洲 B. 大洋洲 C. 南极洲 D. 南美洲

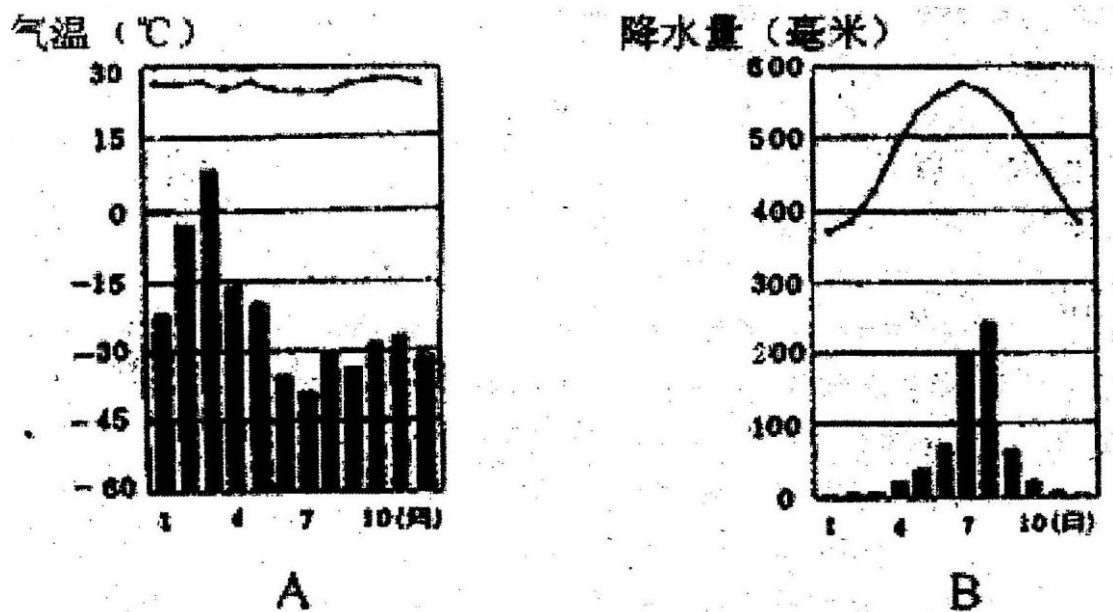
7. 七大洲中，面积最大的是()
- A. 亚洲 B. 非洲 C. 北美洲 D. 南极洲
8. 下列地形变化是由人类活动引起的是()
- A. 台湾海峡 B. 长江三角洲 C. 荷兰围海大工业坝 D. 喜马拉雅山
9. 学校操场上的红旗飘向西南方向时，则风向为()
- A. 西南风 B. 东北风 C. 东南风 D. 西北风
10. “人间四月芳菲尽，山寺桃花始盛开”说明影响气候的因素是()。
- A. 纬度因素 B. 地形因素 C. 海陆因素 D. 洋流因素
11. 11 题图中带箭头的线表示北半球中高纬度地区的春、夏、秋、冬四个季节太阳入射房屋的光线，其中表示冬季的是()



11 题图

12. 关于城市和乡村的叙述，正确的是()
- A. 历史上，先出现城市，后出现乡村
- B. 历史上，先出现乡村，后出现城市
- C. 城市里耕地、果树、池塘等比较多
- D. 现在多数乡村盖起了新房，硬化了路面，对自然景观的改变比城市大
13. 下列词语中描述气候的是()
- A. 风和日丽 B. 暴风骤雨 C. 四季如春 D. 阴转多云

读“A、B 两地月平均气温曲线和降水量柱状图”，回答 14—15 题。



14、15 题图

14. A 地气温特点是()
 - A. 终年高温
 - B. 夏季高温
 - C. 四季如春
 - D. 终年严寒
15. B 地降水最多的月份是()。
 - A. 4 月
 - B. 6 月
 - C. 8 月
 - D. 12 月
16. 世界上最大的国际组织是()
 - A. 联合国
 - B. 世界贸易组织
 - C. 欧盟
 - D. 亚太经合组织
17. 划分发达国家与发展中国家的依据是()。
 - A. 政治制度
 - B. 人口规模
 - C. 经济发展水平
 - D. 文化程度
18. 世界上海洋和陆地的比例是()
 - A. 各占二分之一
 - B. 三分之二是陆地。
 - C. 三分陆地七分海洋
 - D. 四分之一是海洋
19. 世界最小的洲和最小的洋的组合是()。
 - A. 大洋洲、北冰洋
 - B. 大洋洲、印度洋
 - C. 欧洲、印度洋
 - D. 南美洲、印度洋
20. 世界上使用人数最多的语言是()
 - A. 英语
 - B. 汉语
 - C. 阿拉伯语
 - D. 俄语
21. 阿拉伯国家居民大多信仰()。
 - A. 佛教
 - B. 基督教
 - C. 犹太教
 - D. 伊斯兰教
22. 聚落的基本形态有()

A、乡村和工厂 B、牧场和城市 C、城市和乡村 D、牧区和林区

23. 世界上使用范围最广的语言是()

A、汉语 B、英语 C、法语 D、西班牙语

24. 下列各点中符合位于西半球、北半球、低纬度三个条件的是()

A. 20°W 60°N B. 0° 26°N

C. 180° 17°N D. 19°W 15°S

25. 关于经纬线的说法正确的是()。

A. 沿任何一条经线北行，均能回到原地

B. 通过地球表面任何一点都只有一条经线

C. 全球所有的经线都不等长

D. 除赤道和极点以外，相同纬度的纬线都有两条

26. 哪位航海家首次实现了人类环绕地球一周的航行，证明地球是一个球体?()

A、麦哲伦 B、郑和 C、哥伦布 D、马可波罗

27. 比例尺较大的地图表示的()

A、范围较小 B、范围较大 C、内容不详 D、内容较略

28. 亚洲与非洲的分界线有()

A、乌拉尔河 B、基尔运河 C、巴拿马运河 D、苏伊士运河

29. 世界的陆地主要分布在()

A. 东半球 B. 西半球 C. 北半球 D. 南半球

30. 世界最大的岛屿是()

A、格陵兰岛 B、冰岛 C、台湾岛 D、马达加斯加岛

31. 世界最大的半岛是()

A、阿拉伯半岛 B、中南半岛 C、印度半岛 D、亚平宁半岛

32. 下列纬线圈最长的是()。

A、 10°S B、 20°N C、 40°S D、 60°N

33. 火山、地震往往在()

A、板块底部 B、板块内部 C、板块交界处 D、与板块运动无关

34. 下列比例尺最大的是()

A. 1: 500 B. 1: 5000 C. 1: 3000 D. 1: 10,000

35. 世界最高山峰——珠穆朗玛峰海拔为 8844 米，死海湖面海拔在海平面以下 400 米，两

地的相对高度为()

- A. 9244 米 B. 8844 米 C. 400 米 D. 8444 米

36. 北美洲和南美洲的分界线是()

- A. 乌拉尔河 B. 苏伊士运河 C. 京杭大运河 D. 巴拿马运河

37. 喜马拉雅山上发现海洋生物化石说明()。

- A. 此地区的地壳原来是海洋，后来上升为陆地 B. 此地区的海洋面积缩小了
C. 此地区原来是陆地，现在是海洋 D. 此地区的海洋面积在不断扩大

38. 能更直观地看出某一方向上地面高低起伏状况的地形图是()

- A. 等高线地形图 B. 分层设色地形图
C. 地形剖面图 D. 政区图

39. 下列符合“南南合作”的一组是()。

- A. 中国——美国 B. 美国——朝鲜
C. 日本——德国 D. 中国——巴西


40. 决定人口自然增长率的是()

- A. 出生率 B. 死亡率 C. 出生率和死亡率 D. 出生数和死亡数

41. 世界上信徒最多，流传最广的宗教是：()。

- A. 基督教 B. 伊斯兰教 C. 佛教 D. 犹太教

42. 42 题图表示哪个宗教的建筑()




42 题图

- A. 基督教 B. 伊斯兰教 C. 佛教 D. 犹太教

43. 下列主要因素中，不利于聚落形成和发展的是：()

- A. 交通便利. B. 气候严寒 C. 地形平坦 D. 水源充足

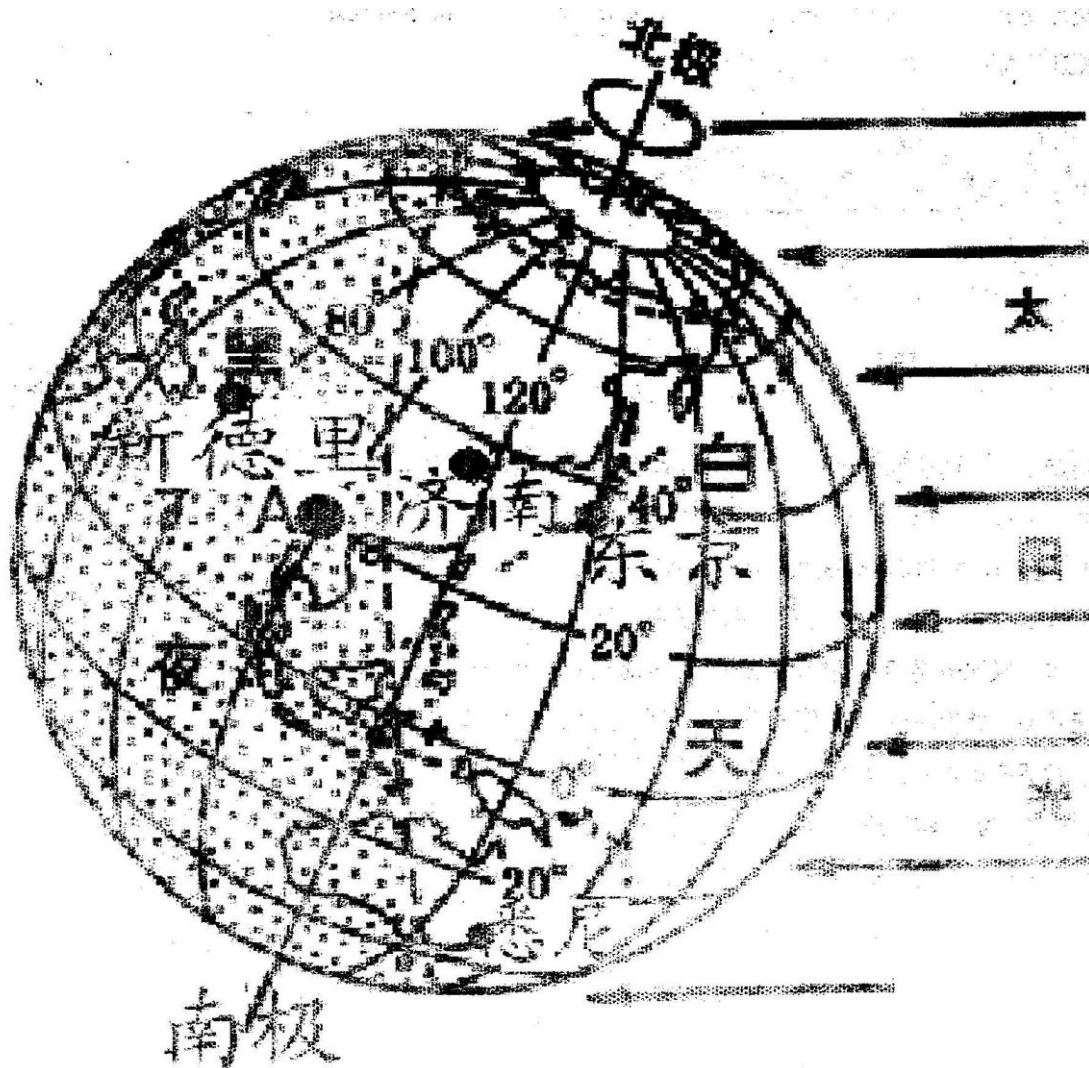
44. 44 题图天气符号，表示天气的状况是：()



44 题图

- A. 阴转小雨，西北风六级 B. 多云转小雨，东南风六级
C. 晴转大雨，东南风六级 D. 阴转小雨，西北风三级
45. 下列各地气候与其影响因素的连线，错误的是()
- A. 海南岛终年如夏，黑龙江省冬季漫长——纬度位置
B. 北京气候比较湿润，同纬度的塔里木盆地气候干燥——海陆位置
C. 青藏高原纬度较低，但气候严寒——地处高原地形，海拔高
D. 乞拉朋齐是世界的雨季——纬度位置
46. 我国庐山成为夏季的避暑胜地，其主要影响因素是：
- A. 纬度因素 B. 海陆因素 C. 地形因素 D. 洋流因素

读 47-49 题图，完成 47-49 题



47-49 题图

47. 关于图中地区昼夜情况说法正确的是
- A. 北冰洋是黑夜 B. 南极洲在白天:
- C. 印度洋是白天 D. 太平洋基本在白天
48. 关于图中地区的地理位置说法正确的是
- A. 东京在西半球 B. 济南是低纬度区
- C. 新德里在寒带 D. 悉尼在南半球
49. 图中 A 点的坐标是
- A. 20° N , 100° W B. 100° N , 20° E
- C. 20° N , 100° E D. 20° S , 100° E
50. 世界上面积最大的国家是
- A. 中国 B. 美国 C. 俄罗斯 D. 加拿大

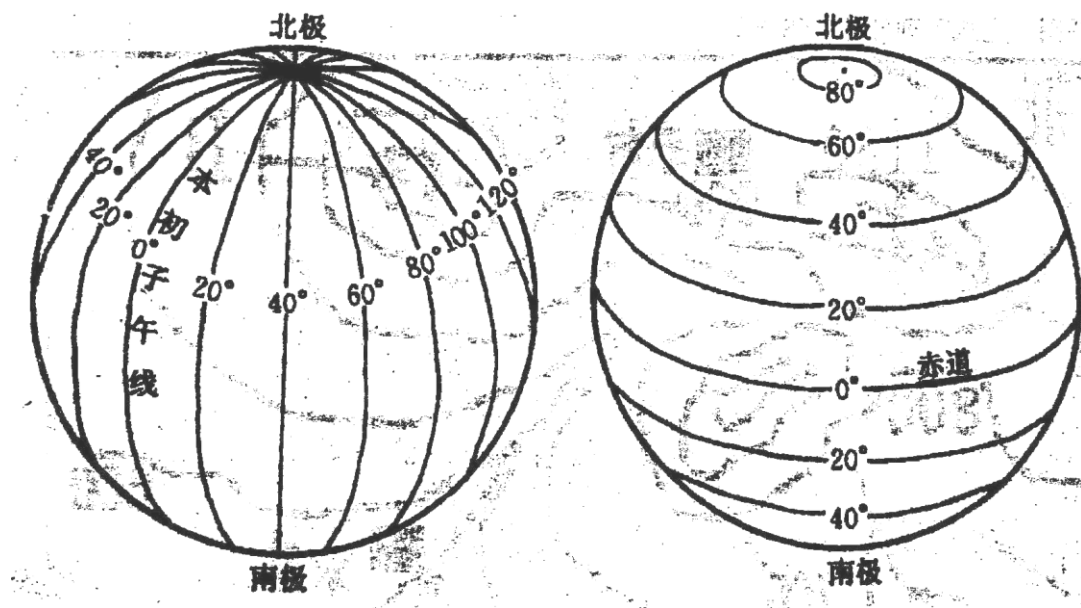
51. 世界上的人种分为白种、黄种和黑种三个主要人种，其区分依据是
A. 生活习惯特征 B. 语言文字特征 C. 宗教信仰特征 D. 体质方面特征
52. 下列国家中没有地跨两大洲的是
A. 土耳其 B. 埃及 C. 俄罗斯 D. 沙特阿拉伯
53. 在有指向标的地图上，箭头所指的方向一般为（ ）
A. 东方 B. 西方 C. 南方 D. 北方
54. 关于人口增长的叙述，不正确的是（ ）
A. 人口迅速增长有利于资源的开发和环境的保护
B. 人口增长过快，数量过多，会出现许多社会问题
C. 人口增长过慢，会出现劳动力短缺，人口老龄化的问题
D. 人口的增长应与经济、社会的发展相适应，与资源、环境相协调
55. 以本初子午线为界，东经和西经的度数分别向东、向西变化的规律是（ ）
A. 度数增大 B. 度数缩小 C. 没有变化 D. 变化无规律
56. 世界面积最大的大陆是（ ）
A. 非洲大陆 B. 东亚大陆 C. 南极大陆 D. 澳大利亚大陆
57. 我们重庆（约 30°N ）所在地一年中能得到太阳直射的次数是（ ）
A. 1 次 B. 2 次 C. 3 次 D. 4 次
- 小明暑期去峨眉山旅游，山下海拔为 500 米，气温为 21°C ，他们的目的地是 3055 米的峰顶，请你帮助小明回答 58-60 题
58. 峰顶的气温可能会达到（ ）
A. 6°C B. 5.67°C C. 21°C D. 6.57°C
59. 在爬山的过程中小明他们遇到了降雨，你认为这种降雨最有可能的是（ ）
A. 对流雨 B. 地形雨 C. 台风雨 D. 锋面雨
60. 某地在一个月内有两次降雨，分别是 15mm、20mm，两次降雪，分别是 5mm、10mm，该月的降水量为（ ）
A. 15mm B. 25mm C. 35mm D. 50mm

地理试题

II 卷（非选择题 共 40 分）

二. 综合题（将答案写在 II 卷上，共 40 分）

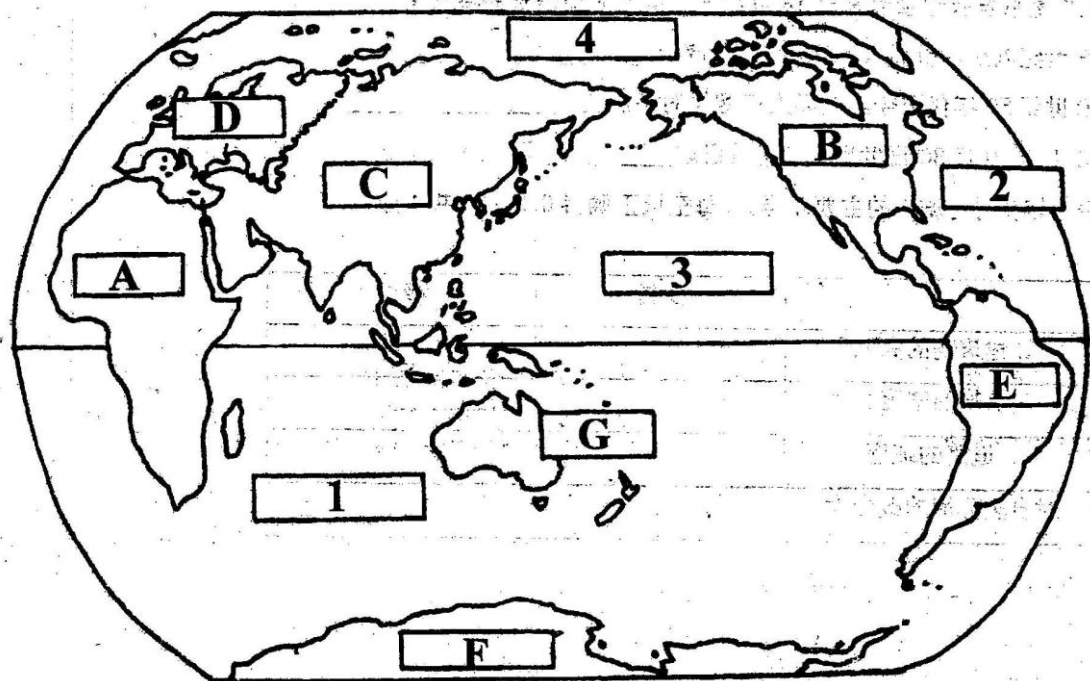
61. 读地球仪上的经线和纬线示意图（61 题图），完成下表。（每格填正确得 1 分，共 8 分）



61 题图

	经线	纬线
1、定义		
2、形状		
3、长度		
4、指示的方向		

62. 读大洲、大洋分布图 (62 题图), 回答下列问题。(每空填正确得 1 分, 共 8 分)

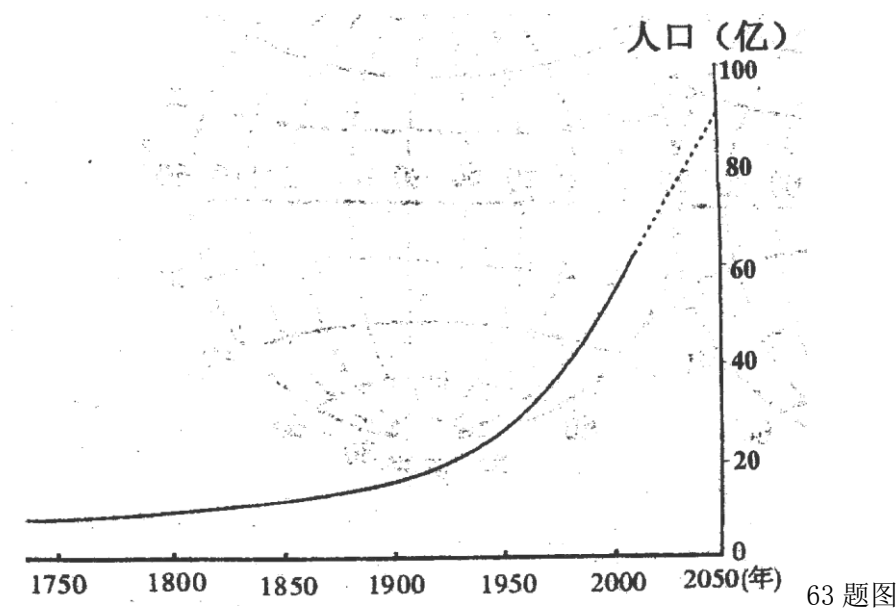


62 题图

(1) 请在图中的字母中填出大洲的名称。A_____B_____C_____D_____E_____

(2) 请在图中的代码中填出大洋的名称。1_____2_____3_____

63. 读世界人口增长图 (63 题图)，完成下列问题：(每空填正确得 1 分，共 4 分)



(1) 人口数量自有记录以来至 18 世纪前，世界人口增长的特点是_____

(2) 18 世纪以来，世界人口增长的总趋势是_____

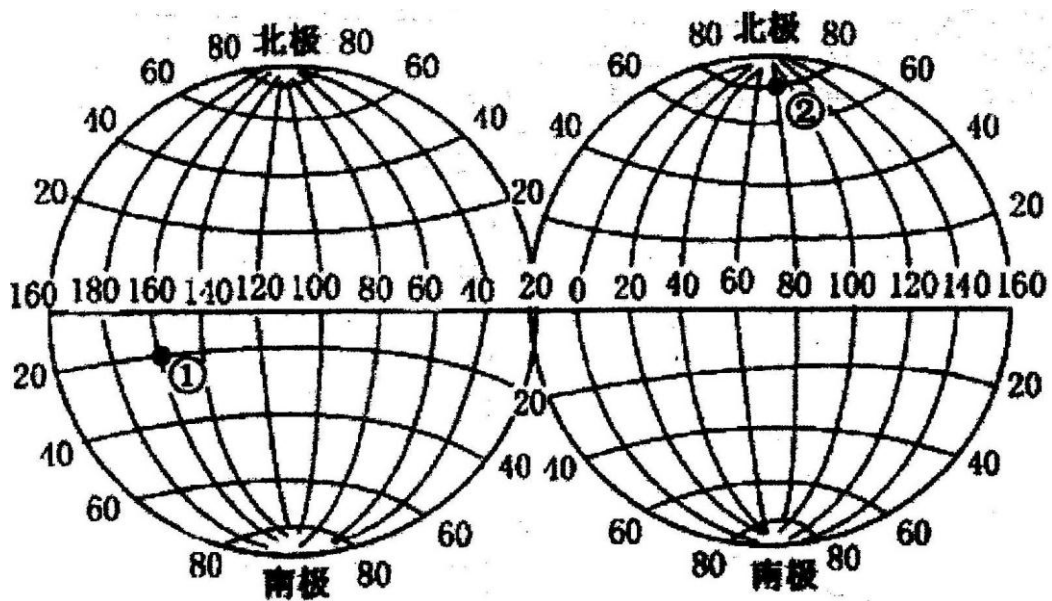
(3) 20 世纪 50 年代至今，世界人口增长的特点是_____

(4) 2011 年 10 月 30 日世界人口总数已达_____ 亿

64. 列表比较乡村与城市的主要差异。(每空填正确得 0.5 分，共 4 分)

	乡村	城市
1、建筑物的高低		
2、建筑物的密度大小		
3、道路的疏密		
4、对自然环境的改变大小		

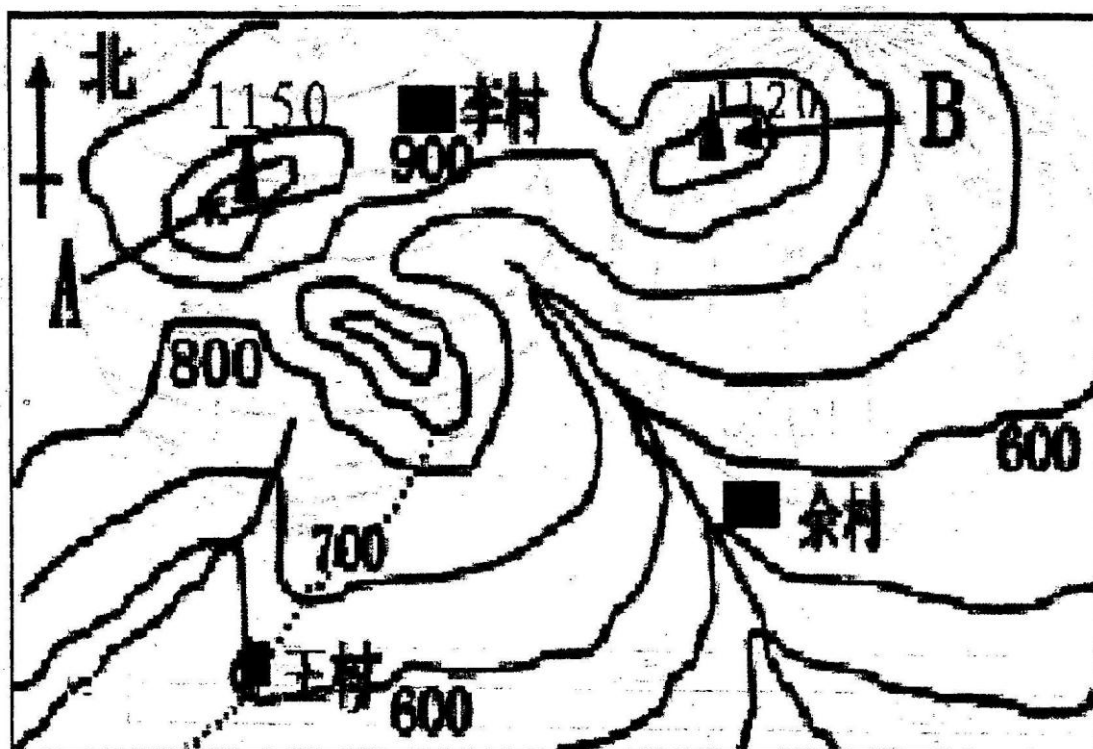
65. 根据 65 题图中①、②两点的位置，认真思考分析，并完成下表内容。(9分)



65 题图

分析内容	①地	②地
在东半球还是西半球		
在五带中的哪一带		
有无阳光直射现象		
有无极昼、极夜现象		

66. 读 66 题图，完成下列各题：(8 分)



66题图

(1)三地所处位置的地形名称

李村_____ 王村_____ 余村_____

(2)A 山的海拔高度是_____

王村的海拔高度是_____

王村与 A 山的相对高度是_____

(3)王村位于 B 山的_____方向，余村位于 A 山的_____方向。