

1. 看 A 图 30 秒后遮上 A 图，然后给小朋友 B 图，看有有哪些不一样的地方。



A



B



A



B

2.

算一算，下面算式中的水果表示几？

$$2 + \text{西瓜} = 10$$

$$\text{草莓} + 4 = 9$$


$$3 + \text{菠萝} = 9$$

$$\text{苹果} + 5 = 10$$

$$\text{桃子} - 6 = 2$$

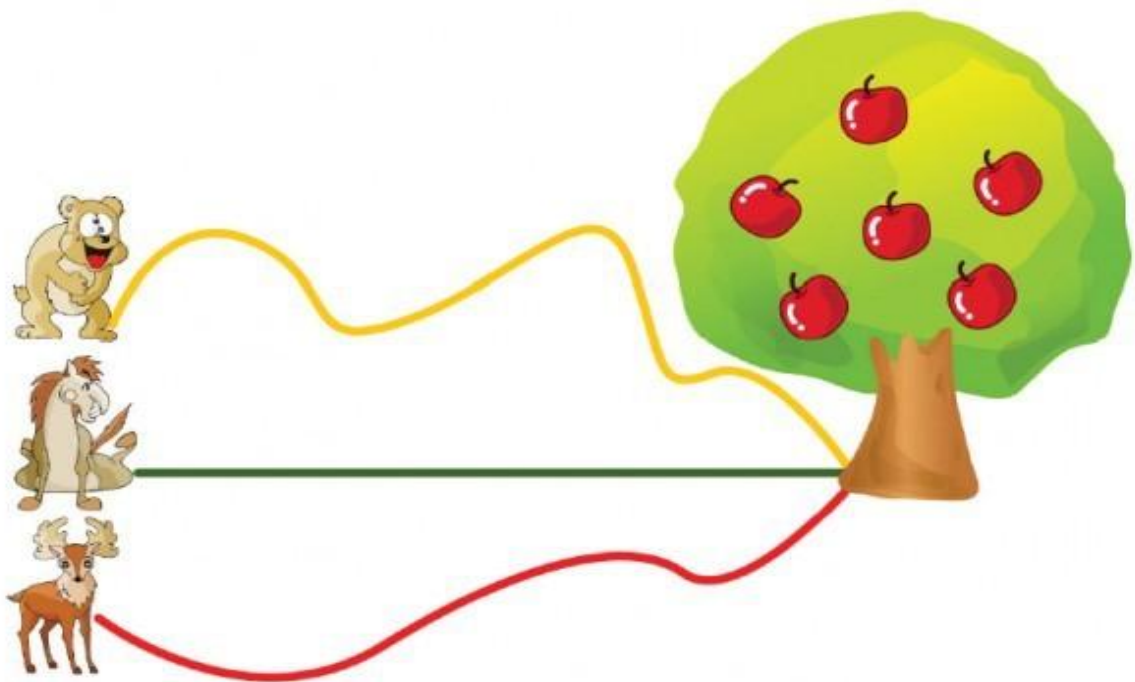
$$9 - \text{橙子} = 5$$

3. 小刺猬能搬走 10 个苹果。动脑筋仔细想一想，小刺猬能搬动大蛋糕么？



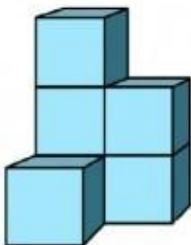
4.

小动物们要去摘果子啦，快看一看，它们谁能最先摘到果子？

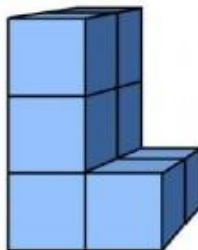


5.

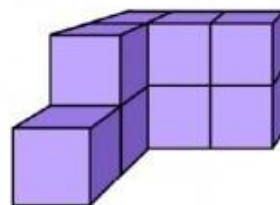
来数一数，这里有多少个小方块？



() 个

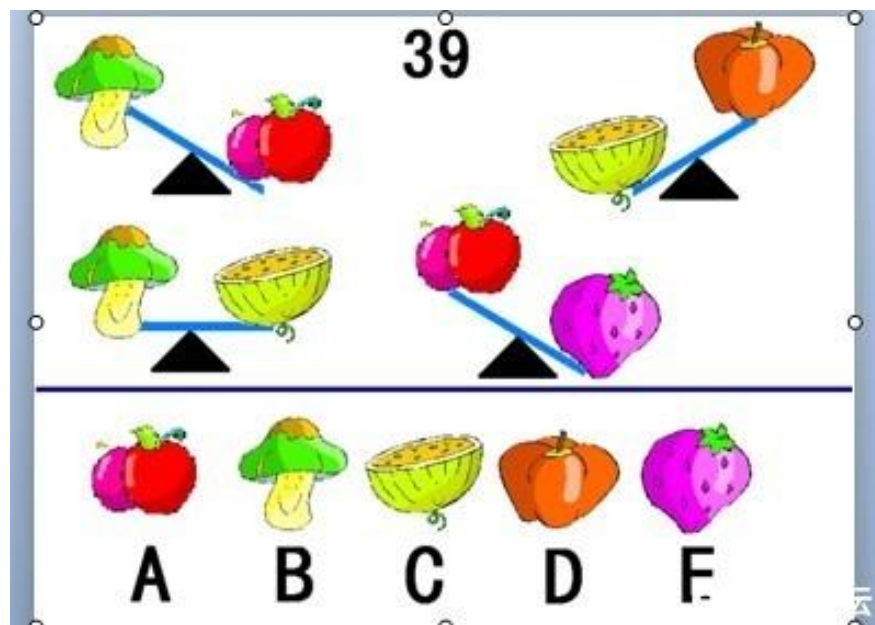


() 个

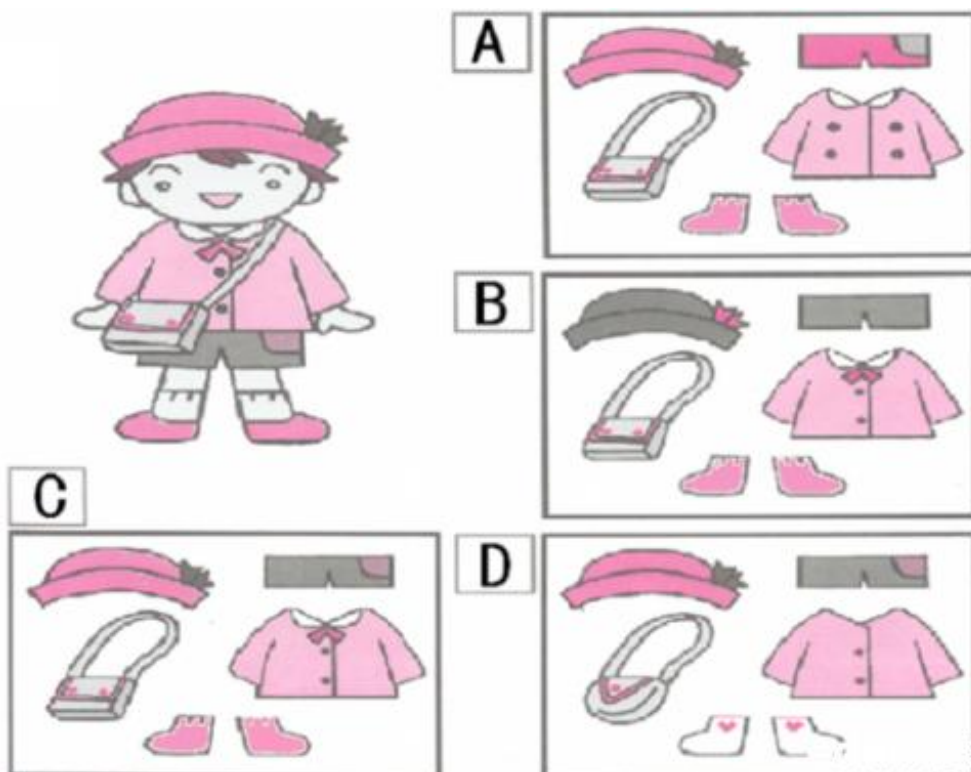


() 个

6. 看一看谁最重呢？






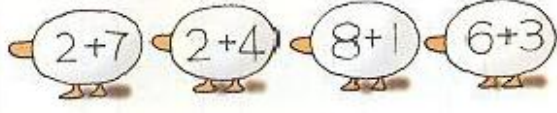


7. 小聪明要去上学了，他非常的高兴，早上起床特意穿了一身新衣服，请问小朋友，你能看出他穿的衣服是 ABCD 中的那一套衣服吗？



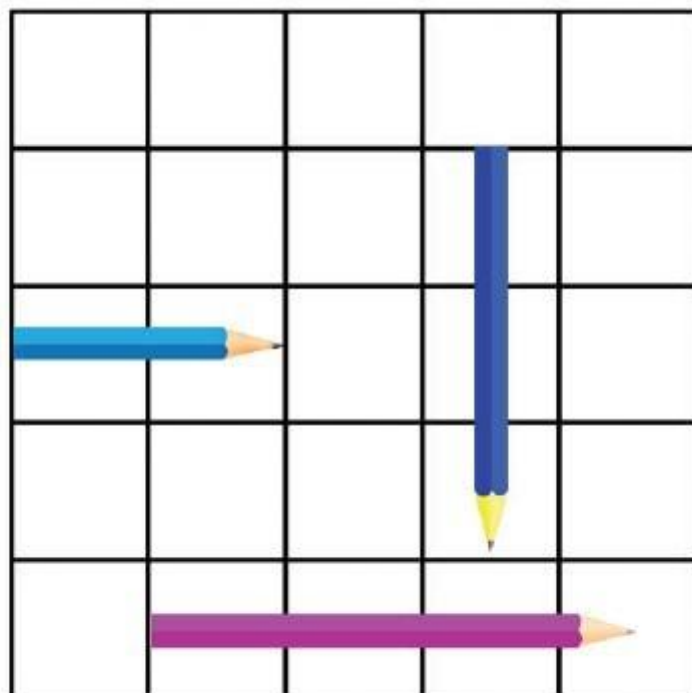
8. 树上有 8 只鸟，飞走了 5 只，又飞来了 3 只，请问现在树上一共有几只鸟？

9. 先计算小鸡、小鸭和小兔身上的算式，再按结果找妈妈


先算出小鸡、小鸭、小兔身上的算式，再按结果找妈妈。

10. 请你给这三支铅笔从长到短排排



11. 杯子中有 1, 2, 3 三块石头, 要使水面下降的尽量少, 应该把其中哪一块拿出来? 要使水面下降的尽量多, 应该把其中哪一块拿出来?




12. 请仔细看一看，哪个物品和其他物品不是同一类呢？



13.

小猫、小鹿、老虎中，谁最重？谁最轻？一只老虎等于几只小猫？



14. 妈妈今年 30 岁，爸爸比妈妈大 3 岁，想想再过 5 年后，爸爸比妈妈大几岁？