

9月4日，第15题：

【考察能力】：逻辑推理

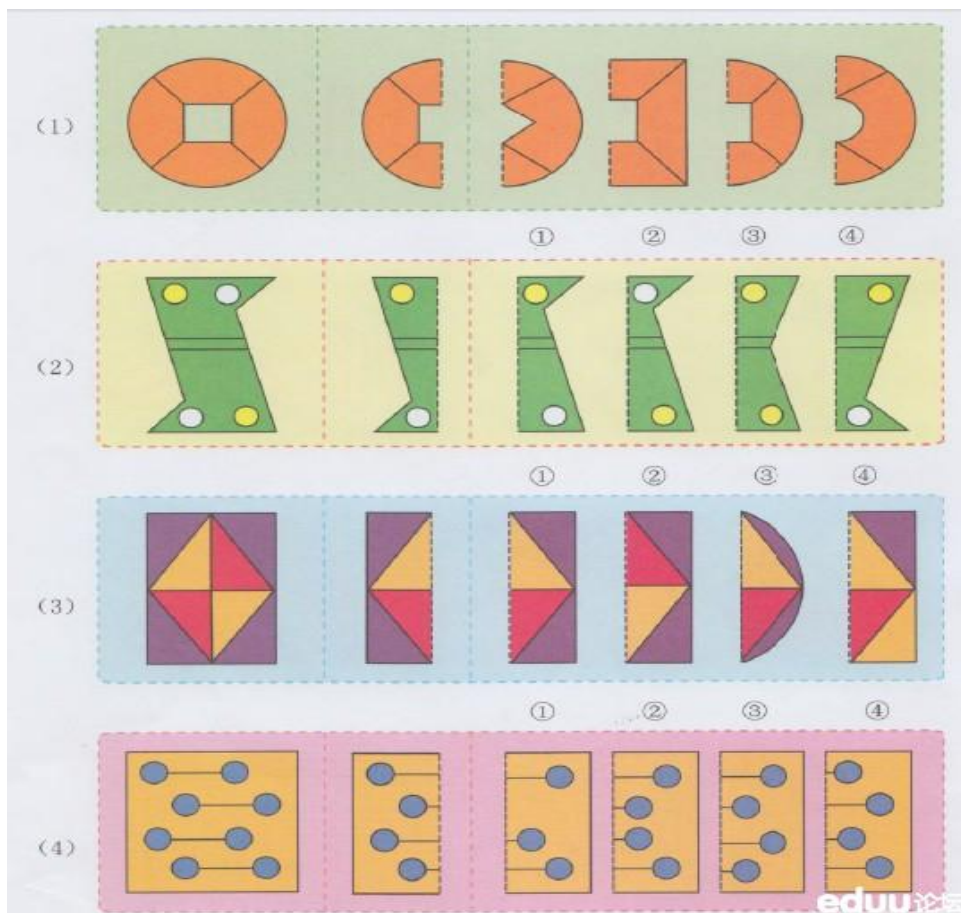
下图一共有（ ）盆花，从左边数把第4盆花圈上。



9月5日，第16题：

【考察能力】：观察能力

请观察左边的图形，然后找一找右边的4个图形里哪一个可以和中间图形拼成左边的图形？并把它圈上。



9月10日，第17题：

【知识模块】逻辑推理

村长今天在课堂上考了小羊们一百道计算题。漂亮的美羊羊做对了69道，喜羊羊做对了98道，懒羊羊做对了49道，暖羊羊做对了65道，小朋友们你能把小羊们做对的题目数按从小到大的顺序排列起来吗？哪只小羊最聪明呢？

9月11日，第18题：

【知识模块】逻辑推理

比较下面各数大小，在○里填上“>” “<” “=”

8○21 45○49 19○91 4+7○8+3 13-6○15-9 16-6○3+7 12-9○17-8

9月13日，第19题：

【知识模块】逻辑推理

说稀奇鸭子队里有只鸡正着数来它第4，倒着数来它第6，请你算一算小鸡小鸭共几只？

9月18日，第20题：

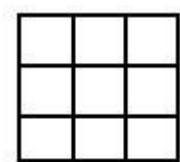
【知识模块】计算

3+8+7= 19-6-9= 5+6+5= 16-7-6= 6+8-6=

9月23日，第21题：

【知识模块】图形

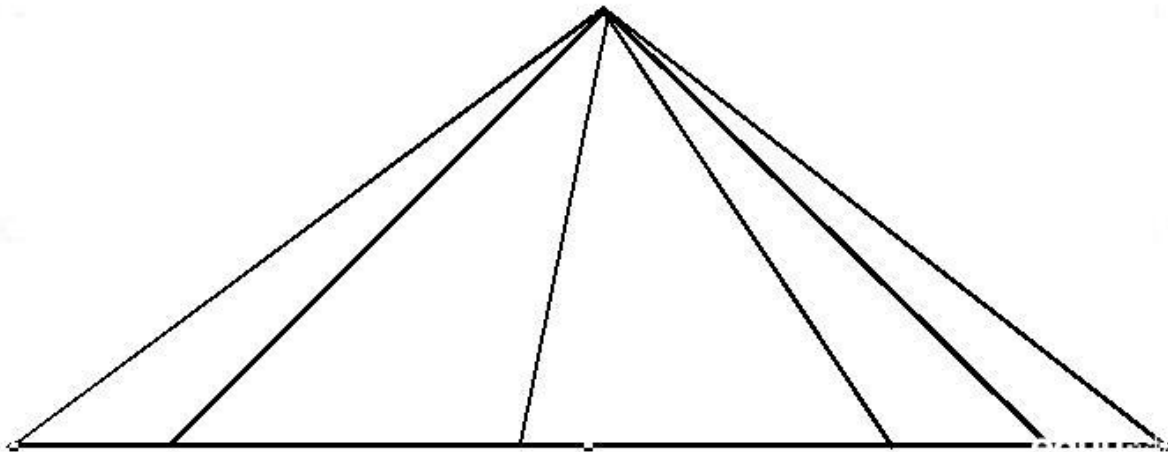
数一数有多少个正方形？



9月24日，第22题：

【知识模块】：图形

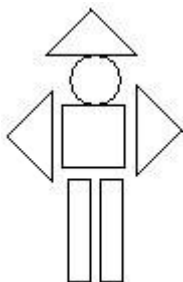
数一数下图有多少个三角形？



9月26日，第23题：

【知识模块】：图形

数一数下面的图形各有多少个？



△	有	()	个
□	有	()	个
○	有	()	个
□	有	()	个

9月28日，第24题：

【知识模块】：逻辑推理

妈妈从家里到工厂要走3千米，一次，她从家里去上班先走了2千米，回家取了一个很重要的工具后再到工厂。这次妈妈上班一共走了多少千米？