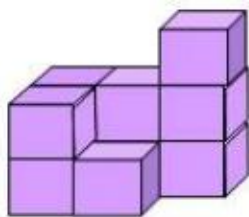


10月9日，第25题：

【知识模块】：立体图形

数一数下面一共有（ ）个小正方体？



10月10日，第26题：

【知识模块】：计算和逻辑推理

(1)把 1、2、3、4、5 这 5 个数分别填到下面的每个五角星里，使每条线上三个数的和都为 9？  
(不能重复)



10月11日，第27题：

【知识模块】：逻辑推理

黑兔、灰兔和白兔三只兔子在赛跑。黑兔说：“我跑得不是最快的，但比白兔快。”请你说说，谁跑得最快？谁跑得最慢？（ ）跑得最快，（ ）跑得最慢。

10月15日，第28题：

【知识模块】：逻辑推理

在○里填上“+”或“-”。

$$11 > 8 \bigcirc 5$$

$$8 \bigcirc 7 < 9$$

$$16 \bigcirc 4 = 20$$

$$14 \bigcirc 4 = 10$$

$$14 \bigcirc 10 < 8$$

$$12 > 6 \bigcirc 5$$

10月17日，第29题：

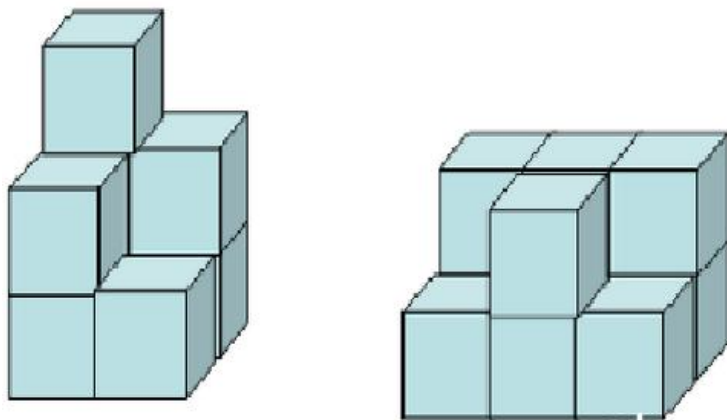
【知识模块】：逻辑推理

连长带着 10 名战士过河，已经有 6 个战士过了河，没过河的还有（ ）人。

10月18日，第30题：

【知识模块】：立体图形


数一数下面两幅图，各有多少个小正方体



10月22日，第31题：

【知识模块】：方向与位置

- (1) 小鸟在小狗的（ ）面。
- (2) 小狗在小老鼠的（ ）面。
- (3) 小老鼠在小狗的（ ）面。



10月23日，第32题：

【知识模块】：方向与位置



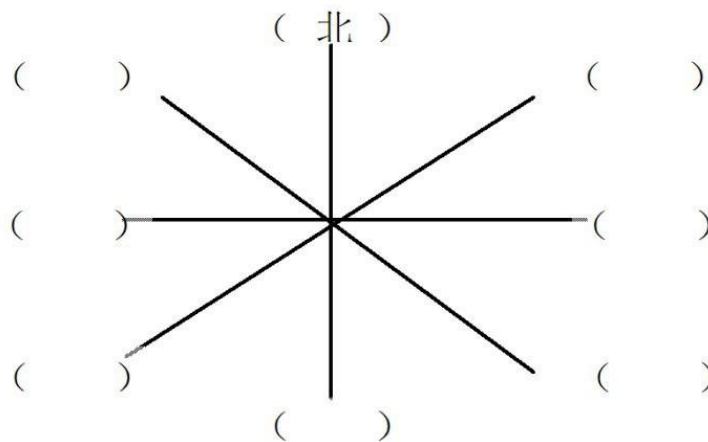
李红 小明 小花 丁一 小月 小浩 王强 小芸 张文

- (1) 小花是左边数起的第（ ）个，右边数起的第（ ）个。
- (2) 左边数起的第6个，就是右边数起的第（ ）个，这个小朋友是（ ）。
- (3) 丁一的左边是（ ），右边是（ ）。

10月24日，第33题：

【知识模块】：方向与位置

在（ ）里填出八个方向



10月25日，第34题：

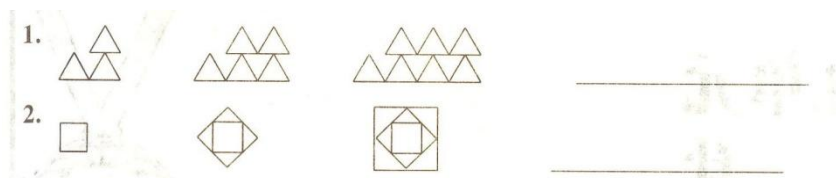
【知识模块】：逻辑推理

小红有15本书，小东有5本书，小红给小东（ ）本书，两个人的书就同样多？

10月30日，第35题：

【知识模块】：逻辑推理

按图形的排列规律接着画。



10月31日，第36题：

【知识模块】：逻辑推理

找规律填数。

1.  $15 \xrightarrow{+6} 21 \xrightarrow{+6} 27 \xrightarrow{+6} \square \xrightarrow{+6} \square \xrightarrow{+6} \square$   
 2.  $92 \xrightarrow{-5} 87 \xrightarrow{-5} 82 \xrightarrow{-5} \square \xrightarrow{-5} \square \xrightarrow{-5} \square$