

武汉实验外国语学校 2013 年初中招生模拟综合测试

(考试时间为 90 分钟，满分 150 分)

(A 卷)

Section One Listening (满分 30 分)

一 听四段材料，根据其内容完成下列各题，并将代表该答案的字母填在 B 卷答题区的相应位置。每段材料仅读一遍。(每小题 1 分，共 8 分)

☆听两段歌曲，完成下列各题。

歌曲一：Choose the words you hear in the song.

- () 1. A .walk B. work C. week
() 2. A .sun B. send C. sand

歌曲二：

- () 3.What did we do at many nights?
A. We prayed B. We played C. We sang
() 4. We are not afraid although we know _____
A. there is not much to fear
B. there is much to fear
C. there is a little to fear

☆听一段诗歌，完成下列各题。将你所听到的内容从下列选项中选择适当的句子填入横线。

Annabel Lee

It was many and many a year ago,
In a kingdom by the sea, 5
By the name of ANNABEL LEE;
And this maiden she lived with no other thought
Than to love and be loved by me.




I was a child and *she* was a child,
In this kindom by the sea; 6
I and my ANNABEL LEE---
With a love that the winged seraphs of heaven
Coveted her and me.




- () 5. _____
() 6. _____
A. That a maid there lived whom you may not know.
B. That a maiden there lived whom you may know.
C. But we loved with a love that was more than love.
D. But we loved with much love that I can give.




☆听一段电影，回答下列各题。




- () 7. What's the name of this film?
A. *Alice in wonderland*
B. *Through the Looking-Glass*
C. *Wonderland Wonderland*
() 8. Who has come back to wonderland?
A. Red Queen B. White Queen C. Alice

二 听四组句子，选择句中内容涉及到的图片，并将代表该答案的字母填在 B 卷答题区的相应位置。每段对话仅读一遍。(每小题 1 分，共 4 分)

() 9.  A  B  C

() 10.  A  B  C

() 11.  A  B  C

() 12.  A  B  C

三 听五段短话，根据对话内容回答下列各题，并将代表答案的字母填在 B 卷答题区的相应位置。每段对话仅读一遍。(每小题 1 分，共 5 分)

- () 13. What will the weather be like on Friday?
A. It'll be sunny. B. It'll be rainy. C. It'll be windy.
() 14. What time does the girl go to bed on Saturday evening?
A. At 9:30. B At 11:00. C. At 12:00.
() 15. What's the present for Anna?
A. A bike. B. A dictionary. C. A dress.
() 16. Does the woman know the name of that man?
A. Yes B. No C. I can't tell

- () 17. What are they talking about?
A. A basketball game B. A tennis game C. A football game

四 听两段大对话，根据听到的内容回答下列各题，并将代表该答案的字母填在 B 卷答题区的相应位置。每段对话仅读一遍。（每小题 1 分，共 6 分）

☆听一段对话，完成下列三个小题。

- () 18. Where did the girl go last night?
A. To a school. B. To a hospital. C. To a restaurant.
- () 19. What does the girl think of math?
A. Interesting. B. Difficult. C. Popular
- () 20. Who will help the girl?
A. The doctor. B. The boy. C. The teacher.

☆听一段对话，完成下列三个小题。

- () 21. How far is Green Street?
A. Half an hour's walk.
B. Four hours' walk.
C. Half an hour's bus ride.
- () 22. When will the next bus come?
A. At about 7:30. B. At about 1:30. C. At about 4:00.
- () 23. How will the man probably go to Green Street?
A. By bus. B. On foot. C. By taxi.

五 听两段材料，根据所听内容回答下列各题，并将代表该答案的字母填在 B 卷答题区内的相应位置。每段材料仅读一遍。（每小题 1 分，共 7 分）

☆听一段独白，完成下列各题。

- () 24. Where are they going?
A. A park. B. A town. C. A school.
- () 25. How are they going there?
A. By bus. B. By train. C. On foot.
- () 26. How long will it take them to get there?
A. Over 5 hours. B. Over 3 hours. C. Over 2 hours.

☆听一段独白，判断下列句子的正误，并将正确 (T) 错误 (F) 填入提前括号内。

- () 27. Helen is from England.
- () 28. Helen is thirty years old now.
- () 29. Helen is not good at history.
- () 30. Helen doesn't like travelling.

Section Two Development（满分 50 分）

六 根据下列材料内容选择问题的最佳答案，并将代表该答案的字母填在 B 卷答题区的相应位置。（每小题 1 分，共 20 分）

☆阅读下面的材料，回答下列各题。

Happy Primary School	
<i>School Concert 2013</i>	
Thursday 3rd July	
9:00 a.m.	Speech by the principal Mr Lo Mong Yan
9:15 a.m.	Singing of the school song All teachers and pupils
9:20 a.m.	Singing Performance (I) School choir
10:00 a.m.	Violin Performances Joe Wong & Betty Lee
10:30 a.m.	Singing Performance (II) Winners of the Hong Kong School Music Festival
11:30 a.m.	Piano Performances Mary Ho & Kevin Lau
12:00 noon	School concert finishes

- () 31. What's the passage mainly about?
A. A play B. An invitation card C. An event programme
- () 32. When does the concert take place?
A. At the start of the school year.
B. In the middle of the school year.
C. At the end of the school year.
- () 33. Which sentence is **Not Correct**?
A. The concert is on Thursday.
B. There are three singing performances in the concert.
C. Two pupils will play the violin at the school concert.

☆阅读下面的书籍封面，回答下列各题。

Horses and horse-riding

By Mary Kelly

Mary Kelly is a well-known horsewoman. She has a horse-riding school and a stable. She has won the Gold Cup several times with her champion horse in her stable.

Find out everything you want to know about horses and horse-riding. Let Mary share her love of horses with you!

- ()34. Mary Kelly _____.
A. does not know what her horses eat
B. is good at horse-riding
C. wants to know more about horses
- ()35. How many times has one of Mary Kelly’s horses won a race?
A. Once B. Several times C. Never

☆ 阅读下面一则广告，回答下列各题。

ROLLERWORLD

EASTGATES YANGZHOU

Rollerworld is a public skating rink (旱冰场) that welcomes everyone from beginners to experts.

NOTICE

- under 12’s must be taken care of by an adult
- small fee (费用) for adults watching children
- no dirty or dangerous skates
- dress must be neat (整洁的)
- no jackets, hats or open clothing to be worn
- no newspapers, books, magazines, games allowed in Roller Caféor Roller Bar
- no smoking except in Roller Bar and smoking room of Roller Café
- over 18’s only in Roller Bar



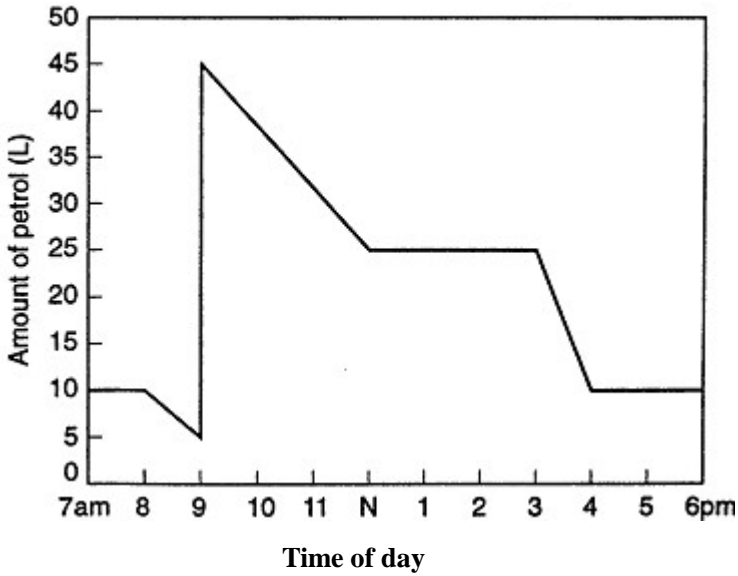
“Roller skating fun for everyone”

- ()36. From the poster we know Rollerworld can only be visited by people _____.
A. who are dressed neatly
B. who are over eighteen
C. who can roller skate well

- ()37. If a 10-year-old boy wants to skate in Rollerworld, his parent _____.
A. is allowed to watch him for free
B. should look after him
C. can take him to the Roller Bar
- ()38. Where can people smoke?
A. In any place in the Roller Café
B. Nowhere in Rollerworld.
C. In the Roller Bar.


☆阅读下面的图表，回答下列各题。

This is a chart of a car’s fuel consumption during a certain day.




- ()39.The above chart shows _____.
A. how much petrol was needed to fill the tank
B. the speed the car was going
C. which trip used the most petrol
- ()40.The driver bought petrol at _____.
A. 8 a.m. B. 9 a.m. C. 4 p.m.
- ()41. The car used_____ during one day.
A. 45 litres of petrol
B. 35 litres of petrol
C. 10 litres of petrol


☆阅读下面几则广告，回答下列各题。



Nancy's Gym
Keep fit! Lose weight!
\$25/hour
Open two days a week:
Saturday and Sunday
Ph: 45562233







Ice World
Have fun skating here!
\$20/hour for children
\$30/hour for adults
Tel: 88682526



Water World
Come to Water World!
Open: 9 am to 9 pm
Two pools for children
Adults: \$10
Children (aged 15 or under): \$7
Two large pools for adults
Two restaurants
Tel: 21518296

- ()42. What do people want to do at Nancy's Gym?
A. To enjoy swimming. B. To learn skating. C. To become thinner.
- ()43. Lucy likes skating. Which ad is she probably interested in?
A. Ice World. B. Water World. C. Nancy's Gym.
- ()44. You can call at _____ when you want to swim.
A. 45562233 B. 88682526 C. 21518296
- ()45. You can go to swim in Water World at _____.
A. 8:00 am B. 9:30 am C. 10:00 pm
- ()46. Which costs the most for an adult?
A. Keeping fit at Nancy's Gym.
B. Skating in Ice World.
C. Swimming in Water World.


☆阅读下面的材料，回答下列各题。

Country	China	Australia	Italy	Britain
Capital	Beijing	Canberra	Rome	London
Place of interest				
Population	1.3 billion	19 million	56 million	55 million
Position	Eastern Asia	Oceania	Southern Europe	Western Europe
Language	Chinese	English	Italian	English


- ()47. _____has the largest population among these countries.
A. Italy B. Australia C. China
- ()48. If you want to visit Big Ben , you should travel to _____.
A. Rome B. London C. Beijing
- ()49. You can visit _____ in the country with the smallest population.
A. the Opera House B. the Great Wall C. the Leaning Tower of Pisa
- ()50. Which of the following is TRUE according to the information in the form?
A. Australia and Britain aren't English-speaking countries.
B. Rome is a city in Southern Europe.
C. Canberra is the capital of Italy.


七. 根据题意，回答下列各题，并将代表答案的字母填在 B 卷答题区内。（每小题 2 分，共 30 分）


- ()51.Which is the largest meat eating animal?
A.bear B. whale C.hippopotamus
- ()52. They often see the sign_____in reading room.
A. NO FISHING B. NO SMOKING C. NO PARKING
- ()53. Which stands for the money in Switzerland?
A. CHF B. JPY C. USD
- ()54. Which's the lowest place among all the continents?
A. Africa B. North America C. Antarctica
- ()55. Which will be the next?



?

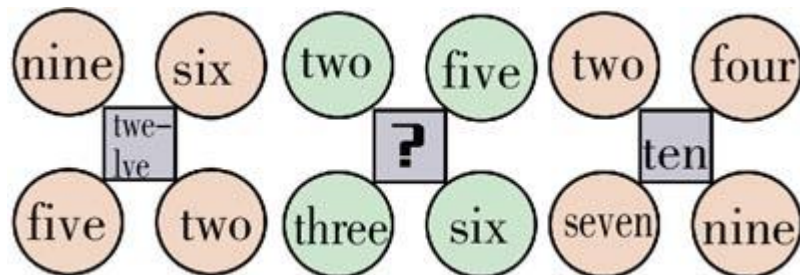
A. 

B. 

C. 

- ()56. Grandma sent Johnny some money for his birthday. Johnny spent all of it in five stores. In each store, he spent \$1.00 more than half of what he had when he came in. How much money did he get from grandma?
A. 30 B. 46 C. 62

()57. What number should replace the question mark?




- A. 3 B. 7 C. 10

()58. There is a connection (联系) between the house numbers and the names of the people who live there. Write the number of the last house, please.





- A. 18 B. 19 C. 20

()59. Which number should be filled in the blank?



- A. 6 B. 10 C. 18

()60. Which one of them will fill the gap(缺口)?



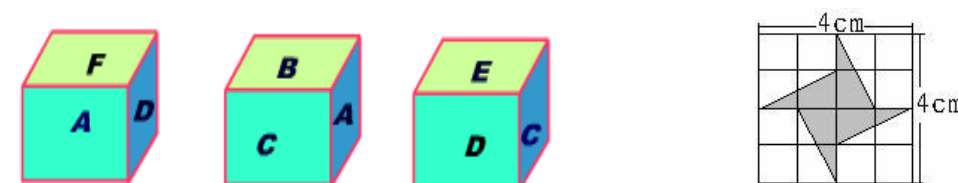
(B 卷)

一、填空题 (第 1~2 题, 每题 2 分, 第 3~8 题, 每题 3 分, 共 22 分)

1. (1) 规定“*”为一种运算,它满足 $a * b = \frac{ab}{a+b}$, 那么 $522 * (522 * 522) = \underline{\hspace{2cm}}$ 。

(2) $0.7 \times 1 \frac{4}{9} - (\frac{7}{9} \times \square + 0.5) \times 1 \frac{6}{7} = \frac{1}{14}$, $\square = \underline{\hspace{2cm}}$ 。

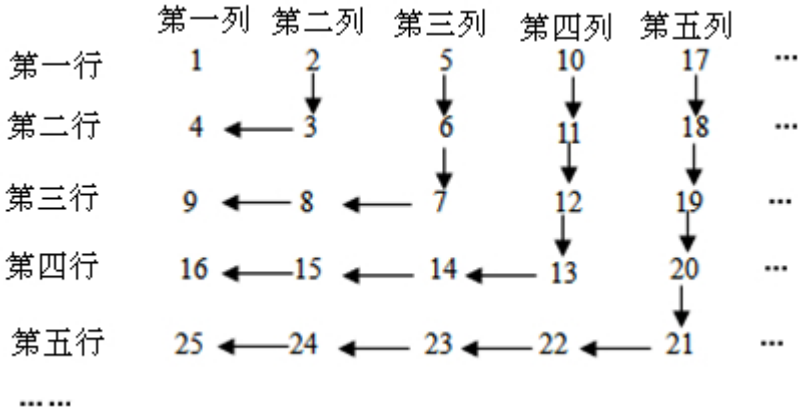
2. 下列说法: ①一辆汽车行驶了 10000 公里, 为了使包括备用轮胎在内的 5 个轮胎磨损程度相同, 轮流使用这 5 个轮胎, 那么每个轮胎行了 2000 公里的路。②若“大大小小大小小大”对应“221112112”, 则“大大小小大小小大”对应“22112122”。③抽屉里有黑白袜子各十只, 如果在黑暗中伸手到抽屉里, 最少要取出 7 只, 才一定会有两双颜色相同的袜子。④假设 2012 年有 53 个星期日, 那么 2013 年的元旦一定是星期一。其中正确的是_____。(填序号)
3. 有一个正方体, 在它的各个面上分别标上字母 A 、 B 、 C 、 D 、 E 、 F , 甲、乙、丙三位同学从不同方向去观察其正方体。观察结果如图所示。问 F 的对面是_____。



4. 图中“风车”(阴影部分)的面积等于_____ cm^2 。
5. 容积为 10L 的瓶子里有 10L 的纯酒精, 第一次倒出 2.5L, 再加满水, 第二次倒出 5L, 再加满水, 这时瓶中溶液浓度为_____。
6. 如图, 圆中的阴影部分面积占圆面积的 $\frac{1}{4}$, 占长方形面积的 $\frac{1}{5}$; 三角形中阴影部分面积占三角形面积的 $\frac{1}{9}$, 占长方形面积的 $\frac{1}{4}$ 。则圆、长方形、三角形的面积比_____。



7. 甲、乙、丙三人互相传球，由甲开始第一次传球，每个人接到球后，都随机从其他人中选择一个人将球传出，那么第三次传球恰好传回甲手里的概率是_____。
8. 如图：



按照这样的规律排列，第 20 行第 21 列的数字是_____。

二、计算题 (共 6 分)；

9. 计算（每题 3 分，共 6 分）：

(1) $(2\frac{5}{8}-1\frac{4}{7})\div[(3\frac{1}{12}+4.375)\div19\frac{8}{9}]$

(2) $48\frac{3}{5}\div(243\times3.75+24\frac{3}{10}\times41.1+2\frac{43}{100}\times214)$

三、应用题 (共 5 分)


10. 2011 年 9 月 1 日实施，中国内地个税免征额调至 3500 元，目前我国居民收入个人所得税有如下规定：

全月应纳税所得额	税率
全月应纳税额不超过 1500 元	3%
全月应纳税额超过 1500 元至 4500 元	$a\%$
全月应纳税额超过 4500 元至 9000 元	$b\%$
全月应纳税额超过 9000 元至 35000 元	25%

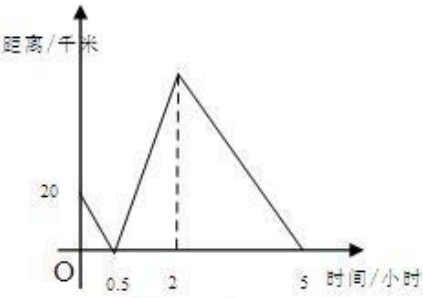
- (1) 某企业的张师傅月工资 5800 元,他每月应缴纳个人所得税 125 元，陈师傅月工资 8500 元，每月缴纳 445 元。求 a ， b ？
- (2) 张师傅的上司李经理每月纳税 1375 元,李经理的工资是多少元？李经理的税后净收入每月多少元？

四、操作题 (第 11 题 3 分，第 12 题 4 分，共 7 分)

11. 小明和爸爸拿一副扑克牌，玩“算 24”。玩法如下：扑克牌里面，A~K 分别表示 1~13，随意抽出其中四张牌，用四则混合运算的方法，算出 24。其中，四张牌每张只能且必须用一次。有一轮，小明抽出了下面四张牌，可是他不会算，你能帮他算算么？（提示：可以运用分数进行运算）



12. 在一条笔直的航道上有 A、B、C 三个港口，一艘轮船从 A 港出发，匀速航行到 C 港后返回到 B 港，轮船离 B 港的距离(千米)，与航行时间（小时）之间关系如图所示，若航行过程中水流速度和轮船的静水速度保持不变。



问：水流的速度是多少？

(C 卷)

一、积累运用(2×6=12 分)

1.下列词语中注音有误的一项是（ ）

- A. 渲染（xu ǎn） 洗濯（zhu ó） 惬意（qi è）
- B. 恬不知耻（ti án） 苦心孤诣（y ì） 酗酒（x ù）
- C. 吮吸（shǔn） 饮鸩止渴（zh èn） 面面相觑（q ù）
- D. 剔除（t ì） 返璞归真（pǔ） 唾手可得（tu ò）

2.请你为下列几个句子选上合适的词语（ ）

 从没想过把“美丽”这个词和袁隆平拉扯在一起，而且，似乎也没有必要把他和美丽联系起来。_____他已是 71 岁高龄，但依然显得_____，活力_____，不乏_____和幽默。

- A. 即使 能干 充足 机智 B.尽管 精干 充沛 睿智
- C. 即使 能干 充沛 睿智 D.尽管 精干 充足 机智

3.下列句子中没有语病的一项是（ ）

- A. 这个贪污犯非常顽强，死也不肯交代经济犯罪的事实。
- B. 他对能否考上大学充满信心。
- C. 为避免校车安全事故的发生，国家制定了相关法规。
- D. 老师耐心地纠正并指出了我的作文中存在的问题，让我受益匪浅。

4.下列关于文学常识说法正确的一项是（ ）

- A. 《左传》是西汉末年的刘向所编，整部书共三十三篇。
- B. 《匆匆》、《背影》、《济南的冬天》都是朱自清的名作。
- C. 描写清代官绅活动和精神面貌的《儒林外史》是一部古典长篇讽刺小说。
- D. 《诗经》是我国最早的一部诗歌总集，又称《诗三百》，由“风”、“雅”、“颂”三部分组成。

5. 将“同时，活着就是对生命过程的幸福体验和快乐享受”一句还原到下面的语段中，位置正确的一处是（ ）

 我们为什么活着？（A），活着就应该对生命保持一种敬畏和尊重。只要我们还拥有生命，就得对生命负责，让生命焕发出光彩。（B），“水清鱼读月，山静鸟听风”，能领悟山月对话的静谧，活着

就是一种幸福体验。（C），喜欢看潮涌大江的壮阔，品味人间真情的美好，活着就是一种快乐享受。

（D）。

6.管宁、华歆共园中锄菜，见地有片金，管挥锄与瓦石不异，华捉而掷去之。/又尝同席读书，有乘轩冕过门者，宁读如故，歆废书出观。宁割席分座，曰：“子非吾友也。”

理解不正确的一项是：（ ）

- A. “捉而掷去之”中的“去”与“我以日始出时去人近”中的“去”意思相同。
- B. 管宁在文中的做法反映了他的择友观，启示我们应该选择志同道合的朋友。
- C. 成语“割席分坐”来源于这个故事，我们常用来比喻朋友之间绝交。
- D. 从文段第二层中可以看出管宁一心一意的学习态度，而华歆则三心二意。

二、阅读欣赏(18 分)

阅读下面文章，回答 7——12 题。

别踩疼了雪

朱成玉

我和女儿在焦急的等待着一场雪的来临。

 雪，只在女儿的童话和梦境里飘过。我一直这样认为：没有触摸过雪花的女孩，永远做不了高贵的公主。我领她到雪的故乡来，就是让她看看雪是怎样把人间装扮成宫殿，把人装扮成天使的。

 带女儿来北方，就是为了让她们看雪。因为我无法为她描述雪的样子，而她又是那么渴望看到它。

 雪开始零星地飘起来，我和女儿激动得手舞足蹈！

 它多美啊，轻盈，飘逸，纯洁，让人爱不释手，让人目不暇接。

 女儿伸开手掌，但她马上发现，我们的手掌可以接住雪花，但雪花无法承受我们的爱意，在手掌里只亭亭玉立了那么一会儿，转眼就消失得无影无踪了。

 女儿并没收拢她的手掌，她依然执著地积攒着手中的白色花瓣。雪渐渐大了些，女儿小心翼翼地捧着她的雪花，她说要把它带回去，在妈妈的坟前堆一个大大的雪人。

 女儿的话深深触动了我。原来，女儿一直嚷嚷着要来北方看雪，真正的目的还是为了她的妈妈。

 我不忍提醒她，我们永远也无法将雪花运到南方去。我总是提醒自己：孩子的心灵是最纯洁的一片雪地。在他们心灵上经过的时候，一定要小心，小心，不要弄脏了孩子的世界，不要踩疼了他们的梦想。

 女儿没有见过她的妈妈，在她出生的那一刻，她的妈妈便因为难产离开了我们，仿佛一切都有预感一样，在妻子的日记里，我看到了她写给未出生孩子的信。她说，即使有一天她离开了人世，她的魂魄依然会在孩

子的身边，春天她就是早上第一缕吻着孩子脸颊的阳光，夏天她就是那棵大树底下的阴凉，秋天她就会变成一朵朵云彩，冬天的时候她就会变成雪花……

每当女儿问我她的妈妈在哪里的时候，我就会对她说，你妈妈离开这个世界了，但她爱我们。春天的晨光，夏天的绿荫，秋天的云朵，冬天的雪花，这些都是你妈妈变的，她一刻都没有离开我们。女儿记住了我的话。在春天，总是太阳刚刚一露头就醒了，她说妈妈在唤她起床呢；在夏天，她总是习惯把书桌搬到那棵大树底下去做作业；在秋天，她总是趴在窗台上，托腮凝望天上的云。我知道，她那颗小小的心在用她自己的方式怀念着母亲。

可是冬天，她找不到与母亲的联系了，因为南方没有雪。

这就是她来北方看雪的原因啊！

雪花在天空舞蹈！

天空阴暗得仿佛是大地，大地晶莹得仿佛是天空。

夜晚再黑，也压不过雪的白。

第二天清晨，女儿轻轻推开门，小心翼翼地踩出一行小脚印。她对我说：“爸爸，顺着我的脚印走，别踩疼了雪。”

那一刻，我看到全世界都是洁白的，包括人的心灵。

7.阅读全文，说出女儿要来北方看雪的原因。（2分）

8.第7段的画线句子在文章中有什么作用？（2分）

9. 分别品味文中划波浪线的两个句子中“踩疼”的表达效果。（4分）

10. “夜晚再黑，也压不过雪的白”这句话有什么象征意义？（2分）

11.联系全文，说说“雪”在文中的含义。（2分）

12. “爸爸，顺着我的脚印走，别踩疼了雪。”当爸爸听到女儿的这句话时，他的内心有怎样的感受？请你细细体验“爸爸”的情感，把他当时的感受写下来。（2分）

13、“春天她就是早上第一缕吻着孩子脸颊的阳光，夏天她就是那大树底下的阴凉，秋天她就会变成一朵朵云彩，冬天的时候她就会变成雪花……”妻子信中的这些话表现了什么？请你以妈妈的身份展开联想写一段话，字数50—80字。（4分）