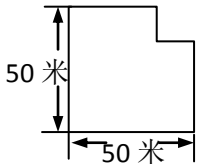
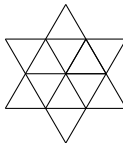


三年级模拟试题（十一）

- 计算： $348 - 234 - 76 + 234 - 48 - 24 =$ _____
- 有一个挂钟，每小时敲一次钟，几点钟就敲几下，六点时，5 秒钟敲完，那么十二点时，_____秒钟敲完。
- 下图是一块小麦地，已知条件如图中所示。这块地的周长是_____米。

- 右图中共有_____个三角形。

- 如果 1 个柚子能换 4 个苹果，2 个苹果能换 3 个梨，那么 2 个柚子能换_____个梨。
- 今年小宁 9 岁，妈妈 33 岁，那么再_____年小宁的岁数是妈妈岁数的一半。
- 牧羊人赶一群羊过 10 条河，每过一条河时都有一半的羊掉入河中，每次他都捞上 3 只，最后清查还剩 6 只。这群羊在过河前共有 _____只。

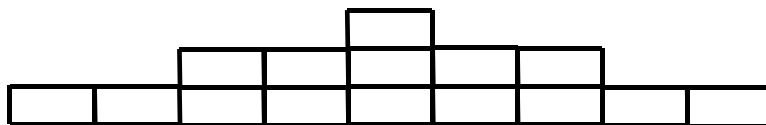


8. 小明家的小狗喝水时间很规律，每隔 5 分钟喝一次水，第一次喝水的时间是 8 点整，当小狗第 20 次喝水时，时间是_____
9. 两个自然数，它们的和加上它们的积恰为 34，这两个数中较大数为_____.
10. 莫莫看一本漫画册，每天看同样多的页数，原计划 5 天看完，现在每天比原计划多看 2 页，结果提前一天看完。这本漫画书_____页。
11. 计算 $1-2+3-4+5-6+\dots-98+99-100+101$ = _____
12. 学学看到太上老君正在用一根绳子拴宝葫芦，第一次用去全长的一半还多 2 米，第二次用去余下的一半少 10 米，第三次用去 15 米，最后还剩 9 米，那么这根绳子原来有_____米。
13. 孙阿姨有贰元人民币和伍元人民币共 62 张，合计 226 元，孙阿姨有贰元人民币_____张。

14. 如图所示的算式中，不同的汉字表示不同的数字，相同的汉字表示相同的数字。喜+爱+数+学=_____?

$$\begin{array}{r}
 \text{学} \\
 \text{数} \text{ 学} \\
 \text{爱} \text{ 数} \text{ 学} \\
 + \text{喜} \text{ 爱} \text{ 数} \text{ 学} \\
 \hline
 2 \quad 0 \quad 0 \quad 8
 \end{array}$$

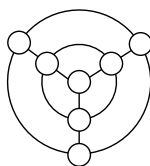
15. 如图，有有一堆按规律摆放的砖。从上往下数，第1层有1块砖，第2层有5块砖，第3层有9块砖.....按照这样的规律，第19层有_____块砖。



16. 公共汽车共有男、女人数 100 人，到甲站后下车 27 个男人，9 个女人，又上来 3 个男人，9 个女人。车到乙站后，上来 8 个女人，这时车上的男人人数正好是女人数的 3 倍，问原来男人比女人多____人。

17. 有两堆一样多的苹果，老师将第一堆苹果分给男生，每人 4 个，最后剩下 6 个；老师又将第二堆苹果分给女生，每人 5 个，最后剩下 5 个。已知男生比女生多 1 人，每堆苹果有_____个。

18. 请你将数字 1、2、3、4、5、6、7 填在下图所示的圆圈内，使得每个圆圈上的三个数之和与每条直线上的三个数之和相等，这个相等的和是_____



19. 传说有个说谎国，这个国家的男人在星期四、五、六、日说真话，在星期一、二、三说假话；女人在星期一、二、三、日说真话，在星期四、五、六说假话。有一天，一个人到说谎国去旅游，他在那里认识了一男一女。男人说：“昨天我说的是假话”，女人说：“昨天也是我说假话的日子”。这下，那个外来的游人可发愁了，到底今天星期几呢？请同学们根据他们说的话，今天是星期_____
20. 红旗小学三年级有甲、乙、丙 3 个班，一共有 162 人。如果从甲班转出 2 个人到乙班，则甲、乙两班人数相同；如果这时再从丙班转出 3 个人到乙班，则乙、丙两班人数相同。请问：甲班原来有_____人。
- 1.