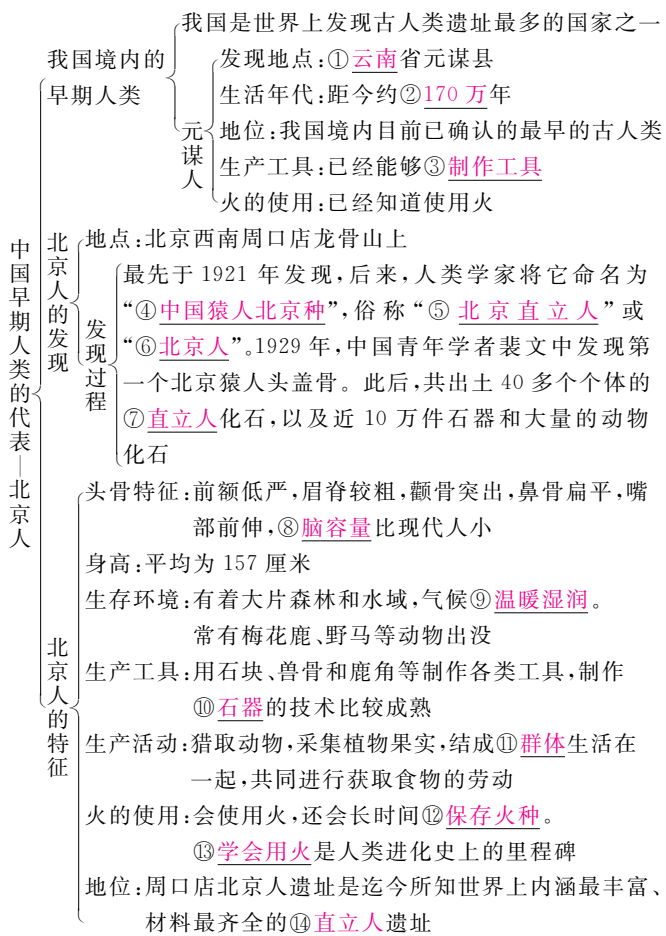


第一单元

史前时期：中国境内人类的活动

第1课 中国早期人类的代表——北京人

预习速读



课时达标

基础闯关

1. 某校同学准备利用暑假实地考察我国境内目前已确认的最早的人类遗址，他们应该去 (C)
- A. 北京周口店 B. 陕西蓝田
- C. 云南元谋 D. 浙江余姚

解析：由“我国境内目前已确认的最早人类遗址”可排除 A、B、D 三项，选 C。

2. 下列关于元谋人的描述，符合史实的是 (C)

①发现于云南省元谋县 ②是我国目前境内已确认的最早的古人类 ③距今约 200 万年 ④已经能够制作工具 ⑤知道使用火

- A. ①②③④ B. ①②③⑤
- C. ①②④⑤ D. ②③④⑤

解析：本题可用排除法。元谋人生活在距今约 170 万年前，③错误，故选 C。

3. 最早将远古人类“北京人”命名为“中国猿人北京种”的科学家是 (B)

- A. 瑞典科学家安特生
- B. 加拿大人类学家步达生
- C. 中国科学家裴文中
- D. 中国科学家贾兰坡

解析：瑞典科学家安特生最早发现北京人遗址，加拿大人类学家步达生最早将“北京人”命名为“中国猿人北京种”。中国科学家裴文中于 1929 年发现第一个北京猿人头盖骨。贾兰坡于 1936 年在同一地点发掘出土 3 个北京猿人头盖骨。故选 B。

4. 元谋人，北京人都是我国境内著名的原始人类，获得他们生产生活的的第一手资料，主要是通过 (D)

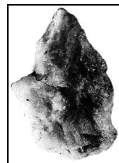
- A. 神话故事 B. 史书记载
- C. 口耳相传 D. 化石和出土文物

解析：原始人类生活年代久远，又没有留下任何文字记录，所以了解他们的第一手资料是化石。通过对化石和出土文物的发掘与鉴定来了解远古人类的生产生活状况。

5. 小华在阅读一本有关我国境内远古居民生活情况的历史书时，了解到有一群远古人类制作石器的技术比较成熟。右图所示就是他们制作的石器，他们采用不同的打制方法，将石块制成尖状器等工具。这群远古人类是 (B)

- A. 元谋人 B. 北京人
- C. 山顶洞人 D. 蓝田人

解析：从题干信息他们“他们采用不同的打制方法，将这些石块制成尖状器等工具”，结合所给图片可知，这是北京人制作的石器，故选 B。



1. 中国境内的早期人类比较

名称	发展阶段	生活地点	距今时间	生产生活状况
元谋人	早期人类	云南元谋	约 170 万年	能够制作工具，知道使用火
北京人	早期人类	北京周口店龙骨山上	约 70 万~20 万年	采用打制方法制作石器，并使用石器。会用火并会长时间保存火种

综述：我国是世界上发现古人类遗址最多的国家之一。元谋人是我国境内目前已确认的最早的古人类。北京人是世界上最重要的原始人类之一，周口店北京人遗址被联合国列入世界文化遗产名录

2. 火的使用有什么意义？

火的使用增强了远古人类适应自然的能力，是人类进化过程中的一大进步。

3. 北京人的发现有什么意义？

北京人是世界上最重要的原始人类之一，它的发现对于研究古人类进化的历史具有重要的意义。周口店北京人遗址是迄今所知世界上内涵最丰富、材料最齐全的直立人遗址。通过对北京人的研究，可以发现早期猿人向现代人类演进和发展变化的规律，为人类起源的研究提供了可靠的证据。

易错易混

- 元谋人是我国境内目前已确认的最早的古人类，而不是我国境内最早的古人类。
- 元谋人和北京人都知道使用火，但北京人还会长时间保存火种。



6. 读下图, 回答下列问题。



- (1) 图中 A 是 北京人 (远古人类) 遗址, B 是 元谋人 (远古人类) 遗址。
- (2) 位于长江流域的是 B。
- (3) 能够使用火的是 A、B, 能够长时间保存火种的是 A。

能力提升

7. 考古学家在北京人遗址发现四层面积较大且较厚的灰土层。这一发现, 主要说明了当时北京人的生产生活状况是 (D)

- A. 生活范围广 B. 吃熟食
C. 烧制彩陶 D. 会使用火

解析: 本题考查我国境内早期人类——北京人的生活情况。分析题干可知, 材料主要说明北京人已经会使用火, 根据所学可知, 生活在距今七十万至二十万年前的北京人已经会使用天然火, 还会保存火种。

8. 元谋人博物馆位于云南省楚雄彝族自治州元谋县。下列有关元谋人的表述, 正确的是 (A)

- A. 生存年代距今约 170 万年
B. 发现的是元谋人的头骨化石
C. 是我国境内最早的古人类
D. 已经会制造工具和人工取火

解析: 本题考查学生的分析辨别能力。考古学家根据发掘出的元谋人的两颗门齿化石, 推断出元谋人的生存年代距今约 170 万年。元谋人是我国境内目前已确认的最早的古人类, 能够制造工具, 知道使用火。由此判断, 答案选 A。

9. 电的使用似乎让人类忽视了火的作用。但是, 在我们祖先进化的过程中, 火的使用曾起到非常大的作用。下列原始人类中, 会使用天然火并会保存火种的最早的原始人类是 (A)

- A. 北京人 B. 元谋人
C. 山顶洞人 D. 现代人

解析: 解答本题的关键在于了解远古人类对火的使用, 现代人不属于原始人类, 排除 D; 北京人、山顶洞人都使用天然火, 并会保存火种。但北京人时间较早, 答案选 A。


10. 右图为北京人复原塑像, 下列有关北京人的叙述正确的是 (D)

- A. 最早由中国科学家裴文中命名
B. 裴文中在 1929 年发现了三个北京猿人头盖骨
C. 北京人采用磨制方法制作石器
D. 北京人脑容量比现代人小



解析: 该题考查北京人的发现及生产生活情况。北京人最早是由加拿大人类学家步达生命命名的; 1936 年, 中国科学家贾兰坡在同一地点发掘出三个北京猿人头盖骨; 北京人采用打制的方法制作石器。因此, A、B、C 均为错误选项, 故选 D。

11. 下列图片生动地展现了北京人的生活场景。仔细观察下列图片, 合理发挥想象, 描述一下北京人一天的生活。



北京人制造使用的石器



北京人生活场景想象图



北京人用火想象图

答案: 提示: 围绕北京人使用打制石器、过着群体生活、会使用火并会长时间保存火种等方面描述。

中考在线

12. (2015·贵州黔东南) 假如你是一名导游, 现英国一旅游团需参观我国元谋人遗址, 你应该带他们到哪个省市 (C)

- A. 北京市 B. 陕西省
C. 云南省 D. 浙江省

解析: 本题考查学生的识记能力。元谋人遗址位于云南省。

13. (2015·广东茂名) “我来自元谋, 你来自周口, 牵起你毛茸茸的手, 爱让我们直立行走。”这是网络上颇为流传的诗句。如果要考察“来自周口”、“能直立行走”的远古人类应该去 (A)

- A. 北京市 B. 陕西省
C. 浙江省 D. 云南省

解析: 本题考查学生解读材料获取信息的能力。由“来自周口”“直立行走”可知, 只有 A 项符合题意。

14. (2015·广西桂林) 在学完《我们的远古祖先》一课后, 同学们开展了模仿“北京人生活的一天”的体验活动。在活动的场景中, 与史实相符的是 (D)

- A. 用圆形方孔铜钱购物
B. 种植水稻
C. 穿着麻布衣服
D. 烧烤食物

解析: 由所学知识可知, 北京人能够用火烧烤食物、照明、驱寒等, 从而改善生存条件。A、B、C 三项与北京人的生活不符合。

15. (2013·山东东营) 某同学绘制了一幅我国远古居民生活场景的想象图。下列内容与北京人相符的是 (A)

- ① 头部带有猿的某些特征 ② 使用打制石器, 过群居生活
③ 用火取暖, 烧烤食物 ④ 种植水稻, 蒸煮米饭
A. ①②③ B. ①②④
C. ①③④ D. ②③④

解析: 本题考查学生对北京人特征的掌握情况。根据所学知识可以判断, ④是不符合史实的。故选 A。