

固镇县 2017—2018 学年度第一学期期末教学质量监测

九年级历史试卷(开卷)

(试题卷)

注意事项:

1. 你拿到的试卷满分为 70 分。
2. 本试卷包括“试题卷”和“答题卷”两部分,“试题卷”共 4 页,“答题卷”共 2 页。请务必在“答题卷”上答题,在“试题卷”上答题是无效的。
3. 答题过程中你可以参考教科书和其他资料,请仔细审题,认真作答。
4. 考试结束后,请将“试题卷”和“答题卷”一并交回。请你仔细审题,认真作答,祝你成功!

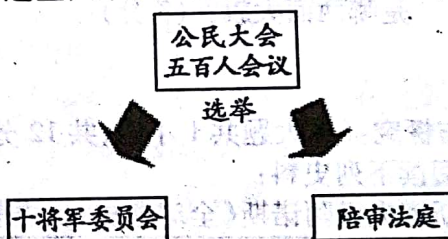
一、单项选择(本大题共 10 小题;每小题 2 分,共 20 分。请将正确选项填入答题框)

1. 以下对古代文明古国的叙述中,错误的一项是

- A. 古代埃及是尼罗河流域孕育的古代人类文明
- B. 古巴比伦国王颁布的《汉谟拉比法典》距今约三千七百多年
- C. 古代印度人创造了从 0 到 9 十个数字的计数方法
- D. 四大文明古国之所以被称为文明古国是因为这些国家历史悠久、文化灿烂

2. 右图是古代雅典国家机构图,关于其表述正确的是

- A. 查理马特时期民主政治发展到顶峰
- B. 公民大会是国家最高权利机构
- C. 所有人都能参加五百人会议
- D. 显示了封建时期的政治文明



3. 习近平用“五个创造性地”总结毛泽东在党的(执掌军政大权)(行使司法、监督大权,参与立法)历史上所做的重要贡献,强调毛泽东创造性地解决了中国革命道路问题。其中的“创造性的革命道路”是指

- A. 井冈山道路
- B. 社会主义道路
- C. 资本主义道路
- D. 俄国革命道路


4. 2017 年 4 月 26 日,中国第二艘航母下水仪式在大连造船厂举行,我国海上国防力量有了重大提升。中国人民解放军的第一支海军是

- A. 北洋舰队
- B. 南洋水师
- C. 华东军区海军
- D. 华中军区海军


5. 英国船运业中心利物浦的一位作家这样写道:“我们的港口是靠非洲奴隶贸易积累起来的资本建立的,是以活人的血肉为代价奠定了我们事业的基础。”对该材料理解错误的是

- A. 三角贸易促进了欧洲资本主义的发展
- B. 三角贸易给非洲带来巨大灾难
- C. 三角贸易为英国成为资本主义工业强国创造了条件
- D. 三角贸易促进了非洲的经济繁荣


6. 在科学技术和经济发展史上,工业革命是最重要的里程碑。工业革命最早发生在英国,后来波及欧洲。下列四幅图中,哪项不是英国工业革命的成果



A



B



C



D

7. 在九年级(1)班的历史复习课上,同学们根据复习要求,将发生在十九世纪 60 年代的重大事件进行了归类。在他们排好的下列选项中,属于资产阶级革命和改革的是
 ①美国南北战争 ②俄国废除农奴制 ③日本明治维新 ④中国洋务运动
 A. ①②③ B. ②③④ C. ①②④ D. ①②③④
8. 运用数据进行分析是学习历史的一种重要方法。下表反映了英、法、德、美四国实力的对比变化。导致该“变化”的主要原因是

1860 - 1910 年英、法、德、美实力变化表

项 目 \ 国 别	英	法	德	美
1870 年工业产量位次	1	2	3	4
1913 年工业产量位次	3	4	2	1

- A. 资本主义制度的确立 B. 殖民扩张
 C. 第二次工业革命 D. 工业革命
9. 习近平在天津考察时指出“民生没有终点,只有新起点”。“国以民为本,民以食为天”是对民生问题重要性的认识。19 世纪 60 年代,俄国农奴制改革和日本明治维新共同关注的民生问题是
 A. 大力发展教育 B. 解决农民土地问题
 C. 引进西方先进技术 D. 提倡文明开化
10. 第一次世界大战爆发前,意大利加入同盟国集团;而第一次世界大战爆发后,意大利加入到协约国集团一方作战。这反映的实质问题是
 A. 意大利反复无常,不讲信誉 B. 协约国方面进行的是正义的战争
 C. 协约国集团一开始就稳操胜券 D. 帝国主义国家之间的关系一切以利益为前提

二、组合列举题(本大题共 3 小题,每空 1 分,共 10 分)

11. 优秀的文学艺术作品流传万世,根据提示写出相应的作品。
 (1)文艺复兴时期有“神秘的微笑”之称的作品:_____;
 (2)马克思主义理论,成为世界无产阶级的锐利思想武器:_____;
 (3)扼住命运喉咙呐喊的“乐坛雄狮”为拿破仑谱写的作品:_____。
12. 法律是社会进步的庄严记录。请根据描述写出相应的法律文献。
 (1)它是资产阶级国家的一部法律,成为资本主义社会的立法规范,它是_____;
 (2)它宣告了北美 13 个殖民地的独立,它是_____;
 (3)它规定我国是人民民主专政国家,国家权力属于人民,它是_____。
13. 哪里有压迫,哪里就有反抗。
 (1)被称为“南美解放者”的拉丁美洲独立运动领导人是_____;
 (2)_____是欧洲规模最大、时间最长的一次早期工人运动。
 (3)世界无产阶级战歌——《国际歌》的词作者是_____;
 (4)19 世纪中期反抗英国殖民统治的印度民族女英雄是_____。

三、辨析改错(本大题共 4 小题,每小题 2 分,共 8 分)

14. 战争与和平是人类永恒的话题。辨别下列关于战争史实,在题前括号内,正确的打“√”;错误的打“×”,并加以改正。

【 】(1)和平交流是古代文明传播的主流,典型事例有马可·波罗来华、鉴真东渡、丝绸之路等,阿拉伯人、意大利人为东西方文化交流作出了重要贡献。

改正:

【 】(2)1649 年,路易十六被推上断头台,英国成立了共和国,把英国资产阶级革命推向高潮。

改正:

【 】(3)巴黎人民多次起义,推翻封建王朝,成立法兰西第一共和国。克伦威尔掌握政权,采取果断措施,把法国大革命推向高潮。

改正:

【 】(4)第一次世界大战历时4年多,1918年11月德国投降,最终以协约国失败告终。

改正:

四、材料解析(本大题共2小题,第15题11分,第16题9分,共20分)

15. 中国共产党从成立至今的96年发展历程中,始终代表着中华民族的根本利益,中国人民在中国共产党的领导下取得了民主革命的胜利和社会主义建设的伟大成就,为实现中华民族的伟大复兴迈出了坚实的步伐。

请阅读下列材料,结合材料及所学知识探究相关问题。

【开天辟地】

材料一 革命家董必武在1961年写了一首感怀诗:“四十年前会上逢,南湖泛舟语从容。济南名士知多少,君(王尽美)于恩铭(邓恩铭)不老松。”

(1)材料一中董老咏怀的是哪一会议的召开?该会议的召开有何重大意义?(2分)

【生死攸关】

材料二 1935年,中共中央召开政治局扩大会议,会议批评了博古等人在军事指挥上的错误,肯定了毛泽东指挥红军作战的基本原则,改组了中央领导机构,增选毛泽东为政治局常委,这次会议成为中国共产党和中国革命史上生死攸关的转折点。

(2)材料二与哪一会议有关?(1分)

【当家作主】

材料三




毛泽东宣告:中华人民共和国中央人民政府今天成立了!

(3)图片反映的是哪一历史事件?(1分)

【惨痛教训】

材料四



图A



图B



图C

(4)图片A、B、C分别反映了我国在探索社会主义道路过程中的什么严重失误?(3分)

【伟大转折】

材料五 1978年,十一届三中全会在北京召开,作出一系列决策,取得具有深远影响的开创性成果,这次会议成为党在建国以来具有深远意义的伟大转折,标志着我国进入社会主义现代化建设的新时期。

(5)这次会议的工作重心是什么?(2分)由此,中国共产党领导中国人民进行革命和社会主义建设的光辉历程给了我们什么启示?(2分)

16. 翻开历史画卷,一部人类社会发展史就是一部思想解放史。阅读材料,回答问题。(9分)
- 材料一:14-17世纪,在欧洲出现了意义深远的文艺复兴运动。文艺复兴运动冲破了天主教会一千多年来对欧洲社会生活和人们精神世界的统治,淡化了神的主宰地位,强调人性的解放,重视人的价值和作用。
- 材料二:17-18世纪,崇尚理性的西欧资产阶级不再满足于用文艺复兴时期的人文主义进行反对封建的神学。他们需要更强大的思想武器来摧毁封建制度,于是出现了一场新的思想文化运动。
- 材料三:“让统治阶级在共产主义革命面前发抖吧。无产者在这个革命中失去的只是锁链。他们获得的将是整个世界。”

——《共产党宣言》

材料四:这是一群激情荡漾的文人,这是一所海纳百川的学校,正是这群人和这所学校,在20世纪中国大地上掀起了一次思想解放的狂澜,也由此引发了中国历史上第一次大规模的思想启蒙运动。这场运动的口号“德先生”和“赛先生”也很快在中国传播开来。

(1)根据材料一,文艺复兴的核心思想是什么?(1分)

(2)根据材料二回答,17-18世纪西欧崇尚理性的思想文化运动是什么运动?它对欧洲社会的发展产生了什么影响?(3分)

(3)根据材料三回答;《共产党宣言》的问世,标志着哪一伟大思想的诞生?其诞生对社会主义运动产生了什么影响?(2分)

(4)根据材料四“中国历史上第一次大规模的思想启蒙运动”是什么运动?这场运动高举是哪两面大旗?(3分)

五、活动与探究:(本大题共1小题,共12分)

17. 阅读下列史料:

斯塔夫里阿诺斯《全球通史:从史前史到21世纪(下)》(北京大学出版社)目录节选:

第七编 西方据优势地位时的世界,1763-1914年	
第26章 欧洲的科学革命和工业革命 一、科学革命的根源 二、科学革命的进程 三、科学革命的意义 四、工业革命的根源 五、工业革命的进程 六、工业革命对欧洲的影响 七、工业革命对非欧洲世界的影响	第27章 政治革命 一、政治革命的格局 二、英国革命 三、启蒙运动 四、美国革命 五、法国革命

请回答:

(1)以上目录材料中,作者认为西方占据优势地位的三大要素是什么?(3分)

(2)说到西方近代科学革命,作者不得不提及两位伟大的科学家,根据提示写出他们的名字:(2分)

①“发现支配宇宙中的物体的定律”的近代物理学奠基人:_____

②“发现支配人类本身进化的规律”的进化论者:_____

(3)工业革命的最主要标志是什么?(1分)工业革命分别对“欧洲”和“非欧洲世界”产生了什么重大影响?(4分)

(4)结合所学知识,概括英、美、法三国革命对西方占据优势地位所起的共同作用。(2分)

固镇县 2017—2018 学年度第一学期期末教学质量监测

九年级历史参考答案及评分标准(开卷)

一、单项选择(本大题共 10 小题;每小题 2 分,共 20 分)

1. D 2. B 3. A 4. C 5. D 6. C 7. A 8. C 9. B 10. D

二、组合列举(本大题共 3 小题;每空 1 分,共 10 分)

11. (1)《蒙娜丽莎》(2)《共产党宣言》(3)《英雄交响曲》

12. (1)《法典》(或《民法典》或《拿破仑法典》)(2)《独立宣言》(3)第一部《中华人民共和国宪法》(或 1954 年《中华人民共和国宪法》)

13. (1)玻利瓦尔(2)英国宪章运动(3)欧仁·鲍狄埃(4)章西女王

三、辨析改错(本大题 1 题;共 8 分)

14. [√](1)

[×](2)将“路易十六”改为“查理一世”;

[×](3)将“克伦威尔”改为“罗伯斯庇尔”;

[×](4)将“协约国”改为“同盟国”。

四、材料解析(本题共 2 小题,第 15 题 11 分,第 16 题 9 分,共 20 分)

15. (1)中共一大;宣告了中国共产党的诞生。(2 分)(2)遵义会议;(1 分)

(3)中华人民共和国成立(或开国大典);(1 分)

(4)图 A:文化大革命;图 B:“大跃进”运动;图 C:人民公社化运动。(3 分)

(5)作出把党和国家的工作重心转移到经济建设上来,实行改革开放的伟大决策。(2 分)

没有共产党就没有新中国,只有社会主义才能发展中国等(言之有理即可)。(2 分)

16. (1)人文主义(1 分);

(2)启蒙运动(1 分);沉重打击了欧洲的封建制度和天主教会,为新兴的资产阶级在政治上取代封建贵族提供了有力的支援,促进了人们的思想解放,促进了欧洲社会的进步(2 分,言之有理即可)。

(3)马克思主义(1 分)国际工人运动有了科学理论指导,推动了社会主义运动蓬勃发展。(1 分,言之有理即可)

(4)新文化运动(1 分)民主、科学(2 分)

五、活动与探究(本题满分 12 分)

17. (1)科学革命、工业革命和政治革命。(3 分)

(2)①牛顿;②达尔文。(2 分)

(3)瓦特改良蒸汽机。(1 分)对欧洲影响:创造了巨大的生产力,使社会面貌发生了翻天覆地的变化,资本主义最终战胜了封建主义。(2 分)对非欧洲世界影响:工业革命后,西方国家加紧了殖民扩张活动,逐步确立起对世界的统治,世界形成了西方先进、东方落后的局面。(2 分)

(4)推翻了落后的封建专制统治,确立资产阶级民主政治制度,为资本主义迅速发展开辟了广阔的道路。(2 分)(言之成理即可酌情给分)