

邓州市 2017 ~ 2018 学年第一学期期中质量评估九年级


历史试卷

一、选择题(20 小题,每小题 1 分,共计 20 分)

1. 下列表述正确的是()

- A. 古代中国文明诞生了世界上最古老的文字——甲骨文
- B. 古埃及文明标志性建筑——金字塔,是权力的象征
- C. 《汉谟拉比法典》,维护的是大封建主的利益
- D. 古印度的种姓制度共分为四级,国王属于第一等级,高高在上

2. 漫画是人们喜闻乐见的一种艺术表现形式,它通过夸张、比喻、象征、寓意等手法来针砭时弊,右图漫画反映了()



- A. 汉谟拉比法典的实质
- B. 古代罗马奴隶制度的实质
- C. 雅典民主制度的实质
- D. 西欧封建等级制度的实质

3. 有学者在描述中世纪时说:“城市兴起的进程中,我们第一次在欧洲历史上写了‘平民的传记’,一个新社会集团出现了。”这个“新社会集团”指的是()

- A. 农民阶级
- B. 市民阶层
- C. 工业无产阶级
- D. 封建贵族阶层

4. 世界三大宗教给我们留下了弥足珍贵且风格迥异的建筑文化。下列建筑与三大宗教无关的是()

- A. 麦加大清真寺
- B. 罗马竞技场
- C. 巴黎圣母院
- D. 洛阳白马寺

5. “亚历山大在所征服地区兴建了许多城堡,有些逐渐发展成经济文化中心,使希腊文化传播到东方,一种混合着希腊和东方因素的文明诞生。”以上材料说明亚历山大帝国的征服()

- A. 促进了东西方文化交流
- B. 促使希腊文明走向衰落
- C. 促使东方文明走向衰落
- D. 促使东西方文化被毁灭

6. 14-16 世纪的西欧,开始冲破神学的黑暗桎梏,肯定人性;挑战大海的惊涛骇浪,寻找出路。“肯定人性”与“寻找出路”共同推动了()

- A. 大西洋沿岸经济繁荣
- B. 基督教思想的传播
- C. 进化论和相对论诞生
- D. 欧洲资本主义发展

7. 1689 年《权利法案》基本上是重申英国人“自古就有的权利”,比如议会必须定期召开,征税权属于议会等。从表面看似没什么新意,但事实上却是政体制度上的一次革命。材料中所说的“革命”是指()

- A. 君主制在英国被推翻
- B. 君主立宪制的确立

C. 责任内阁制的确立

D. 英王丧失行政大全

8. 美国国歌《星条旗之歌》中唱到：“……你看星条旗不是还高高飘扬，在这自由的国土，勇士的家乡。”美国人追求的“自由”在下列文献中都有体现，其中出现最早的是()

A. 《独立宣言》

B. 1787 年宪法

C. 《人权宣言》

D. 《解放黑人奴隶宣言》

9. 对于如何读历史？毛泽东认为：“西洋史应特别留心法国大革命”。这主要因为法国大革命()


A. 是一场“欧洲范围的革命”

B. 是工人阶级夺取政权的尝试

C. 取得了民族独立，同时走上民主政治道路

D. 摧毁封建制，广泛传播民主共和思想

10. 对于下面年代尺解读最准确最全面的是()




A. 拿破仑的对外战争

B. 殖民扩张与反殖民斗争

C. 欧美国家民主化进程

D. 西方国家开辟新航路

11. 如图是美国学者查尔斯·金德尔伯格在《世界经济霸权 1500 - 1990》一书中描绘的英国某个时期申请专利数量的变化图。下列哪一现象与图中反映的专利数量变化不存在因果关系()



A. 殖民扩张

B. 国家独立

C. 工业革命

D. 资产阶级革命

12. 《英国通史》中这样写道：“在巴巴多斯(位于美洲加勒比海)，1712 年—1768 年有 20 万黑人奴隶输入，但人口只增加了 2.6 万。”这主要表明()

A. 黑奴贸易促进了英国资本主义发展

B. 资本原始积累的血腥性

C. 黑奴的寿命很短

D. 黑奴流通速度很快

13. “女王用她正值青春的生命谱写了一曲反抗侵略、追求自由的壮烈篇章。她是印度人民的骄傲，也为全世界人民所敬仰。”材料中的“她”()

A. 最终带领印度人民获得独立

B. 是印度民族大起义中杰出女英雄

C. 反抗的是西班牙军队的侵略

D. 使印度彻底摆脱了英国的殖民统治

14. “北方人看不惯南方人，南方人看不惯北方人……当前南北之间的矛盾不是别的，而是两种社会制度之间的斗争，这场斗争之所以爆发，是因为这两种制度不能再在北美大陆上共处了”材料中分析的是()

A. 美国独立战争爆发的原因

B. 拉美独立战争爆发的原因

C. 美国内战爆发的原因

D. 俄国农奴制改革的背景

15. 纵观整个历史,每逢较弱的社会受到较强的、好战的社会威胁时会产生两种反应:一种是割断同入侵势力的一切联系,……;另一种却是力图采纳外国社会的许多特别吸引人的东西,作为以平等地位对付、抵抗的工具。以下属于第二种反应的是()

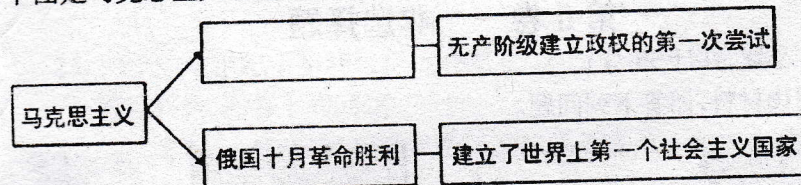
A. 印度民族大起义

B. 中国义和团运动

C. 美国独立战争

D. 日本明治维新

16. 下图是马克思主义理论及实践的示意图。空白处应为()



A. 英国宪章运动

B. 《共产党宣言》的发表

C. 新中国成立

D. 巴黎公社成立

17. 英国学者安德鲁·波特说:“当英国人从陶醉中惊醒,猛然看见帝国上空的夕阳时,新的太阳已经在大西洋另一端的美洲大陆上兴起。那将是世界大国命运的又一次兴衰消长。”引起“又一次兴衰消长”的主要原因是()

A. 独立战争

B. 工业革命

C. 三角贸易

D. 第二次工业革命

18. 假如你是一战期间的战地记者,每天要向通讯社发回战场消息,你的经历中不可能有()

A. 每天都要向通讯社拍发无线电报

B. 拍摄到英军新式武器“tank”的照片

C. 使用移动电话报导德军飞机轰炸的消息

D. 不幸被炮弹的弹片炸伤

19. 1916年11月,罗曼·罗兰在《战时日记》中写道:“欧洲正在奔向奴役和毁灭。两年以来,它一直疯狂地沿着这条灾难的道路越走越远。”以下和这场“奔向奴役和毁灭”的战争相对应的是()

A. 最终胜利的是以德意志帝国为代表的军事集团

B. 参战的两大军事阵营分别是三国同盟和三国协约

C. 俄国在战后爆发了十月革命,建立了苏维埃俄国

D. 美国在1917年加入协约国阵营,与同盟国阵营的日本大打出手

20. 整部作品构思宏伟、气势奔腾,有力地展示了俄罗斯历史上最壮丽的一页——1812年人民反抗侵略的战争,展示出战争前后俄罗斯波澜壮阔的社会生活画卷。这部作品是()

A. 《巴黎圣母院》

B. 《战争与和平》

C. 《哈姆雷特》

D. 《等待戈多》


第 I 卷 选择题答题栏

题号	1	2	3	4	5	6	7	8	9	10
答案										
题号	11	12	13	14	15	16	17	18	19	20
答案										


第 II 卷 非选择题

二、非选择题(5 小题, 共计 30 分)

21. (5 分) 阅读材料, 回答下列问题。



图一 甲骨文



图二 《史记》



图三 《荷马史诗》



图四 特洛伊遗址

(1) 观察四幅图片, 请把它们分为两类, 并写出你的分类标准(2 分)

(2) 结合所学知识, 阐述图三和图四之间的内在联系(2 分)

(3) 综合上述探究, 我们在探究历史真相时应注意什么?(1 分)

22. (7 分) 阅读下面材料, 回答问题。

1789 年 5 月, 法国国王路易十六为摆脱财政危机召开三级会议, 与资产阶级发生尖锐的对抗

1792 年 9 月, 法兰西第一共和国成立, “自由、平等、博爱”成为共和国的政治口号。

1804 年, 拿破仑废除共和制度, 加冕称帝, 建立法兰西第一帝国, 实行军事独裁。

从 1830 年起, 工业革命在法国兴起, 30-40 年代, 工人运动如里昂工人起义等此起彼伏。

(1) 1789 年的“尖锐对抗”引发该年什么重大事件改变历史进程? 共和国确定的“政治口号”缘自哪一次思想解放运动的影响?(2 分)

(2)拿破仑的军事独裁统治历来是人们争议的焦点。试简单评价其统治。(2分)

(3)法国工人运动此起彼伏时,工业革命的兴起之国正在掀起的工人运动是什么?
这一时期这些国家工人运动兴起产生的共同影响是什么?(2分)

(4)结合以上材料和问题,说明法国民众追求自由、平等时,采取的常见方式是什么?(1分)

23. (7分)19世纪下半叶的世界舞台上,有三个国家异曲同工地演绎了自己的精彩。
阅读材料,回答下列问题。

材料一:宣言声明:南方的奴隶将得到解放。北方人的士气更加高涨;这一宣言鼓励大批奴隶离开他们南方的主人,开创了北方军队征集黑人新兵的新局面。

——《全球视野下的西方文明》

材料二:一个农奴的日记:3月5日,一个伟大的日子。解放宣言!我无法表达自己的喜悦。我不断地听到诸如“自由”和“自由法令”等词汇。

材料三:俄国19世纪60年代初和90年代初的统计数据表

年份	棉花加工(吨)	冶铁(吨)
1861年	30951	327610
1891年	171994	992210

材料四:大凡国家之强弱,系人民之贫富;人民之贫富,系物产之多寡;而物产之多寡,在于是否勉励人民之工业。

——大久保利通

(1)材料一中宣言的名称是什么?根据材料一概括出该宣言颁布后的直接结果。(2分)

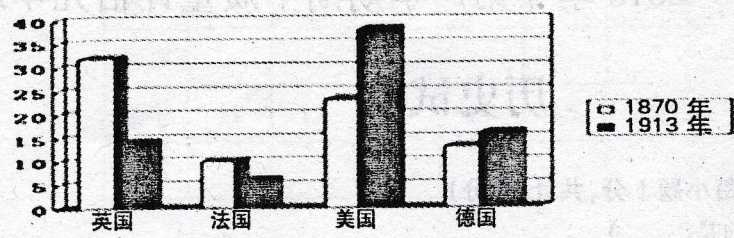
(2)材料二中的现象与材料三中数据的变化有何必然联系?(2分)

(3)依据材料四并结合所学知识,分析大久保利通的观点在日本明治维新措施中是如何体现的?明治维新对日本社会的发展有何积极作用?(2分)

(4)若将这三国演绎的精彩纳入同一主题下,请你为这一主题命名。(1分)

24. (6分) 阅读下列材料, 回答问题

材料一: 下图为主要资本主义国家占世界工业生产总值的比重(%)



材料二:

参战国	持续时间	卷入人口	参战人员	伤亡人员	直接经济损失
30 多个	4 年多	15 亿	0.7 亿	0.3 亿	1805 亿美元

(1) 材料一中 1870 年英国工业生产总值排在第一的主要原因有哪些? (2 分)


(2) 材料一中, 1913 年欧洲各强国工业生产总值排序发生了什么变化? 这种变化产生的原因是什么? 这一变化最终导致了人类哪次重大灾难的发生? (3 分)

(3) 结合材料一、二和所学知识分析影响经济发展因素? (1 分)


25. (5 分) 结合史实围绕下列图片提供的信息写一篇历史小短文, 概述这些图片显示的历史史实之间的关系。(要求: 史实正确, 语句通顺, 体现关键词之间的联系性, 字数在 80—120 字之间)



图一 伏尔泰



图二 波士顿倾茶事件



图三 攻占巴士底狱



图四 玻利瓦尔