

第六单元素质测评试卷

(总分:100分 时间:60分钟)

题号	一	二	三	四	五	六	七	八	九	附加题	总分
得分											

一、算一算。(16分)

$58+32=90$

$72-35=37$

$24+56=80$

$37+48=85$

$69-63=6$

$45+39=84$

$38-19=19$

$53-44=9$

$31-27=4$

$58-20=38$

$84-24=60$

$62+28=90$

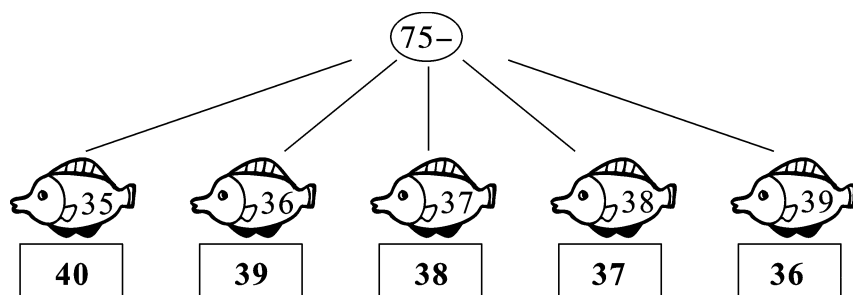
$75+16=91$

$40+49=89$

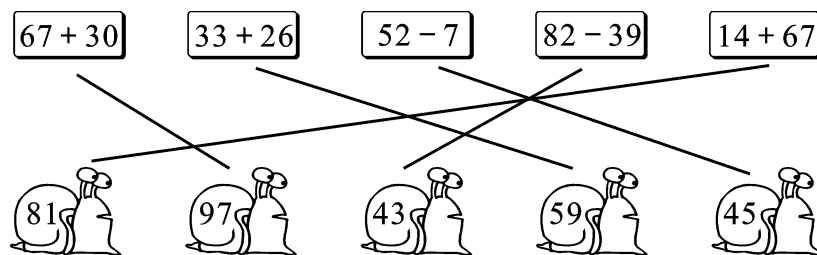
$24+37=61$

$66-47=19$

二、我会做减法。(5分)



三、算一算,连一连。(5分)



四、比较大小。(12分)

$39+28 > 44-12$

$57-28 < 38+14$

$42-8 = 22+12$

$48+29 > 48-29$

$51-32 < 51+32$

$83-78 < 21+13$

$37+6 = 36+7$

$47+19 < 56+21$

$92-8 > 83-17$

$38+9 < 83+9$

$40-21 > 25-7$

$72-31 > 80-40$

五、算一算,填一填。(10分)

1.	加 数	35	32	47	18	61
	加 数	29	25	45	74	29
	和	64	57	92	92	90

2.	被减数	78	52	76	82	70
	减 数	32	25	27	47	32
	差	46	27	49	35	38

六、用竖式计算。(8分)

$57+18=75$

$$\begin{array}{r} 57 \\ + 18 \\ \hline 75 \end{array}$$

$62-26=36$

$$\begin{array}{r} 62 \\ - 26 \\ \hline 36 \end{array}$$


$76-57=19$

$$\begin{array}{r} 76 \\ - 57 \\ \hline 19 \end{array}$$

$26+38=64$

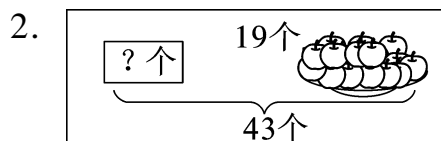
$$\begin{array}{r} 26 \\ + 38 \\ \hline 64 \end{array}$$

七、看图列式计算。(8分)



一共有多少辆车?

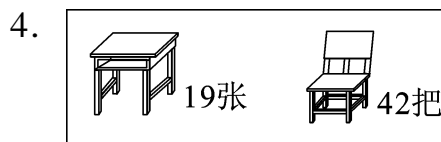
$$9 + 32 = 41 \text{ (辆)}$$



$$43 - 19 = 24 \text{ (个)}$$



$$52 - 15 = 37 \text{ (箱)}$$



1 张桌子配 1 把椅子,
还缺多少张桌子?

$$42 - 19 = 23 \text{ (张)}$$

八、森林医生。(对的画“√”,错的画“×”并改正)(12分)

1.

$$\begin{array}{r} 75-68=17 \\ \dot{7} \ 5 \\ - 6 \ 8 \\ \hline 1 \ 7 \end{array}$$

改正:

$$75-68=7$$

(×)

$$\begin{array}{r} \dot{7} \ 5 \\ - 6 \ 8 \\ \hline 7 \end{array}$$

2.

$$\begin{array}{r} 33+48=71 \\ 3 \ 3 \\ + 4 \ 8 \\ \hline 7 \ 1 \end{array}$$

改正:

$$33+48=81$$

(×)

$$\begin{array}{r} 3 \ 3 \\ + 4 \ 8 \\ \hline 8 \ 1 \end{array}$$

3.

$$\begin{array}{r} 80-16=74 \\ \dot{8} \ 0 \\ - 1 \ 6 \\ \hline 7 \ 4 \end{array}$$

改正:

$$80-16=64$$

(×)

$$\begin{array}{r} \dot{8} \ 0 \\ - 1 \ 6 \\ \hline 6 \ 4 \end{array}$$

4.

$$\begin{array}{r} 90-8=10 \\ 9 \ 0 \\ - 8 \\ \hline 1 \ 0 \end{array}$$

改正:

$$90-8=82$$

(×)

$$\begin{array}{r} \dot{9} \ 0 \\ - 8 \\ \hline 8 \ 2 \end{array}$$

九、解决问题。(24分)

1. 筐里原来有多少个蘑菇?(4分)



我已经吃了15个蘑菇。

筐里还有36个蘑菇。



【答案】 $15+36=51$ (个)

答:筐里原来有 51 个蘑菇。

2. 公园里有杨树 38 棵,松树 39 棵,杨树和松树一共有多少棵?(4分)

【答案】 $38+39=77$ (棵)

答:杨树和松树一共有 77 棵。

3. 一本书有 56 页,小月看了 37 页,还剩多少页没有看? (4 分)

【答案】 $56-37=19$ (页)

答:还剩 19 页没有看。

4. 摘草莓。(12 分)



我摘的最多了,有71个呢!

小平

我摘的比小平摘的少25个。



小叶

我摘的比小叶摘的少18个。



小亮

(1)小叶摘了多少个?

【答案】 $71-25=46$ (个)

答:小叶摘了 46 个。

(2)小亮摘了多少个?

【答案】 $46-18=28$ (个)

答:小亮摘了 28 个。

(3)小叶和小亮一共摘了多少个? (4)小平比小亮多摘了多少个?

【答案】 $46+28=74$ (个)

【答案】 $71-28=43$ (个)

答:小叶和小亮一共摘了 74 个。 答:小平比小亮多摘了 43 个。

附加题。(10 分)

婷婷从一本书的第 1 页开始看起,第一天看了 15 页,第二天看了 17 页,第三天应从哪一页看起?

【答案】 $15+17=32$ (页) $32+1=33$ (页)

答:第三天应从第 33 页看起。