

第五单元素质测评试卷

(总分:100分 时间:60分钟)

题号	一	二	三	四	五	六	七	八	九	附加题	总分
得分											

一、口算。(16分)

$42+6=48$

$30+37=67$

$65-5=60$

$48-30=18$

$90-60=30$

$63-50=13$

$73+5=78$

$12+50=62$

$75-3=72$

$80-30=50$

$40+30=70$

$38+40=78$

$53+4=57$

$10+80=90$

$75-70=5$

$36-36=0$

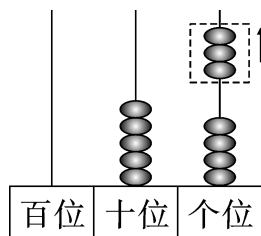
二、看图写算式。(8分)



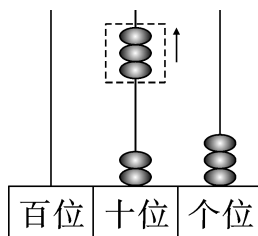
$21+4=25$



$32+40=72$



$57-3=54$



$53-30=23$

三、在○里填上“>”“<”或“=”。(6分)

$25+51 < 35+60$

$62+30 > 36+22$

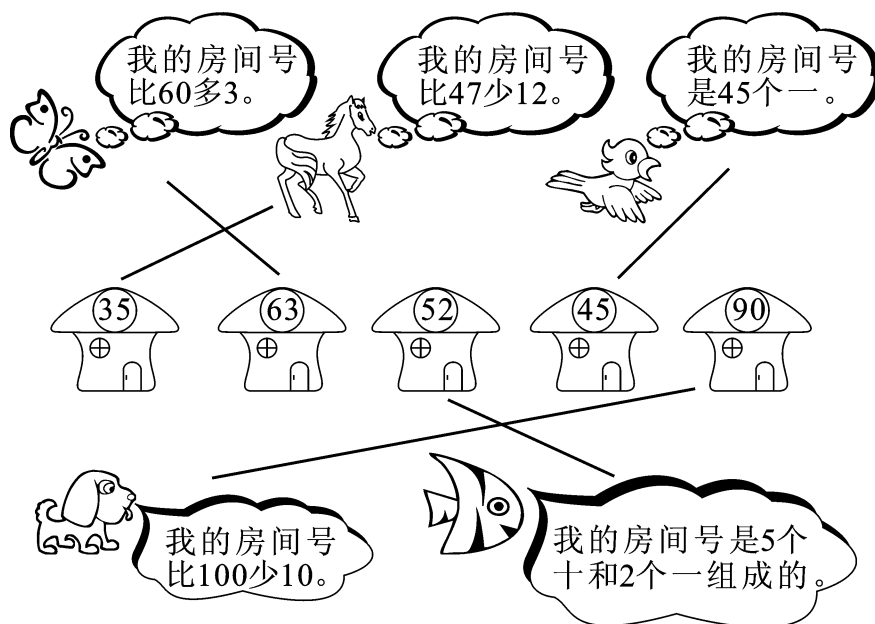
$53+30 = 20+63$

$5+33 < 40+12$

$76-5 > 87-25$

$98-18 < 76+13$

四、想一想,连一连。(5分)



五、用竖式计算。(18分)

$$62+36=98$$

$$\begin{array}{r} 62 \\ + 36 \\ \hline 98 \end{array}$$

$$78-24=54$$

$$\begin{array}{r} 78 \\ - 24 \\ \hline 54 \end{array}$$

$$54+23=77$$

$$\begin{array}{r} 54 \\ + 23 \\ \hline 77 \end{array}$$

$$39-27=12$$

$$\begin{array}{r} 39 \\ - 27 \\ \hline 12 \end{array}$$

$$67-37=30$$

$$\begin{array}{r} 67 \\ - 37 \\ \hline 30 \end{array}$$

$$88-35=53$$

$$\begin{array}{r} 88 \\ - 35 \\ \hline 53 \end{array}$$

$$57-21=36$$

$$\begin{array}{r} 57 \\ - 21 \\ \hline 36 \end{array}$$

$$95-92=3$$

$$\begin{array}{r} 95 \\ - 92 \\ \hline 3 \end{array}$$

$$83+6=89$$

$$\begin{array}{r} 83 \\ + 6 \\ \hline 89 \end{array}$$

六、填一填。(13 分)

1. 你会填吗?(7 分)

$$\begin{array}{c} 67 - 5 = \boxed{62} \\ \swarrow \quad \searrow \\ 60 \quad \boxed{7} \\ \quad \quad \quad \uparrow \\ \quad \quad \quad \boxed{2} \end{array}$$

$$\begin{array}{c} 67 - 50 = \boxed{17} \\ \swarrow \quad \searrow \\ \boxed{60} \quad 7 \\ \quad \quad \quad \uparrow \\ \quad \quad \quad \boxed{10} \end{array}$$

$$\boxed{24} \xrightarrow{+3} \boxed{27} \xrightarrow{+2} \boxed{29} \xrightarrow{-12} \boxed{17} \xrightarrow{+30} \boxed{47}$$

$$\boxed{9} \xrightarrow{+70} \boxed{79} \xrightarrow{-50} \boxed{29} \xrightarrow{-9} \boxed{20} \xrightarrow{+45} \boxed{65}$$

2. 在()里填上合适的数。(6 分)

$20 + (\mathbf{70}) = 90$

$(\mathbf{29}) + 60 = 89$

$(\mathbf{50}) + 30 = 80$

$58 - (\mathbf{18}) = 40$

$80 - (\mathbf{40}) = 40$

$30 + (\mathbf{46}) = 76$

$78 - (\mathbf{70}) = 8$

$80 - (\mathbf{20}) = 60$

$51 + (\mathbf{11}) = 62$

$(\mathbf{33}) + 15 = 48$

$61 + (\mathbf{8}) = 69$

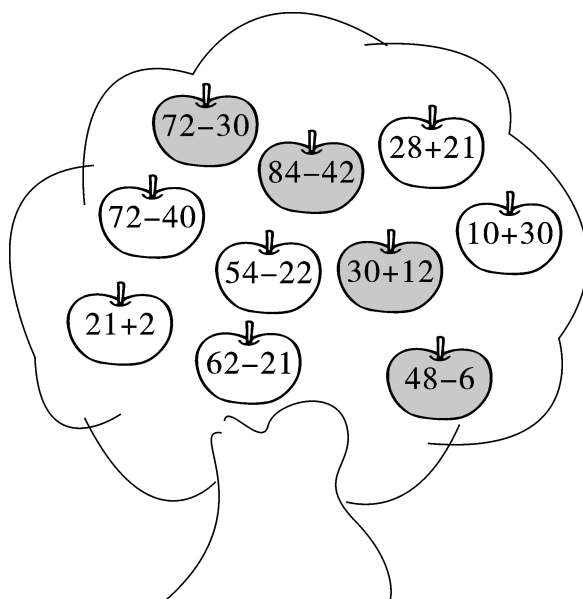
$25 + (\mathbf{30}) = 55$

七、你能用 $\boxed{5}$ $\boxed{40}$ $\boxed{45}$ 写出两道加法算式和两道减法算式吗?(4 分)

$$\underline{40+5=45} \quad \underline{5+40=45}$$

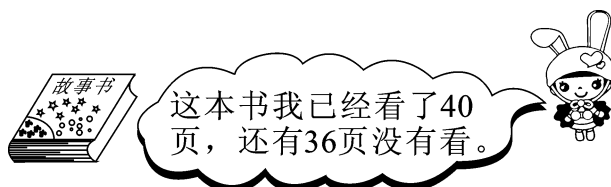
$$\underline{45-40=5} \quad \underline{45-5=40}$$

八、给得数是 42 的苹果涂上你喜欢的颜色。(10 分)



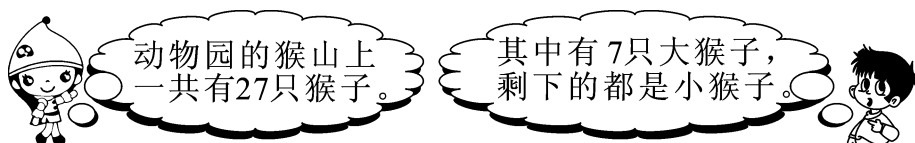
九、解决问题。(20 分)

1. 这本书共有多少页?



$$\boxed{40} \oplus \boxed{36} = \boxed{76} \text{ (页)}$$

2. 小猴子有多少只?



$$\boxed{27} \ominus \boxed{7} = \boxed{20} \text{ (只)}$$

3. 车上原来有 38 名乘客,人民路站下去 21 名乘客,现在车上有多少名乘客?

$$\boxed{38} \ominus \boxed{21} = \boxed{17} \text{ (名)}$$

4. 停车场里停有一些车,开走了 35 辆后,还剩 11 辆。停车场里原来有多少辆车?

$$\boxed{35} \oplus \boxed{11} = \boxed{46} \text{ (辆)}$$

附加题。(10 分)

小刚从一本书的第 1 页开始看,第一天看了 17 页,第二天看了 11 页,第三天应从哪一页开始看?

【答案】 $17+11=28$ (页) $28+1=29$ (页)

答:第三天应从第 29 页开始看。