

第五单元素质测评试卷

(总分:100分 时间:60分钟)

题号	一	二	三	四	五	六	七	八	附加题	总分
得分										

一、我会填。(19分)

- (10)张1角的人民币可以换1张1元的人民币。
- 50元可以换(3)张10元和(1)张20元。(或1 2)
- 1张1角可以换(10)枚1分硬币。
- 在括号里填上适当的数。


1元=(10)角 8角=(80)分 30角=(3)元


70分=(7)角 63角=(6)元(3)角

43分=(4)角(3)分 3元6角=(36)角

9角9分=(99)分 7角8分=(78)分

- 在括号里填上合适的人民币单位。

一块  5(角)。

一支  8(元)。

一本  20(元)。

一本  6(角)。

二、看图填空。(6分)



2 元 6 角



4 角

三、 我是小法官,对错我来判。(10 分)

1. 30 分=3 元。 (×)
2. 人民币中最大的单位是元。 (√)
3. 10 枚 1 角硬币可以换 1 张 1 元纸币。 (√)
4. 15 枚 1 分硬币和 1 张 1 角纸币同样多。 (×)
5. 2 张 1 元纸币可以换 20 枚 1 角硬币。 (√)

四、 对号入座。(将正确答案的序号填在括号里)(10 分)

1. 妈妈买苹果用去 6 元,买柿子用去 7 元,妈妈共付了(**B**)。
A. 6 元 B. 13 元 C. 13 角
2. 下面的钱数中,(**A**)最少。
A. 3 张 1 元 B. 6 张 1 元 C. 1 张 5 元
3. 1 张 1 元可以换(**A**)。
A. 10 张 1 角 B. 3 张 5 角 C. 50 张 1 角
4. 小妹要买一个杯子,应付 2 元 8 角,她只有 2 元 3 角,还差(**B**)。
A. 1 元 3 角 B. 5 角 C. 1 元 5 角
5. 爸爸带 18 元去买生活用品,找回 7 元,买生活用品用去(**B**)元。
A. 7 B. 11 C. 25

五、算一算,填一填。(18 分)

1. 我来算。(12 分)

$$7 \text{ 元 } 5 \text{ 角 } + 2 \text{ 角 } = (7) \text{ 元 } (7) \text{ 角}$$

$$15 \text{ 元 } 6 \text{ 角 } - 3 \text{ 元 } = (12) \text{ 元 } (6) \text{ 角}$$

$$1 \text{ 元 } - 5 \text{ 角 } = (5) \text{ 角 } = (50) \text{ 分}$$

2. 在下面的 ○ 里填上“>”“<”或“=”。(6 分)

$$1 \text{ 元 } (>) 10 \text{ 分}$$

$$8 \text{ 角 } 9 \text{ 分 } (<) 9 \text{ 角}$$


$$1 \text{ 元 } (<) 20 \text{ 角}$$

$$8 \text{ 角 } (<) 1 \text{ 元}$$

$$5 \text{ 角 } (=) 50 \text{ 分}$$

$$5 \text{ 元 } (>) 5 \text{ 角}$$


六、哪两样物品的价钱合起来是 10 元？用线连起来。（9 分）




日记本

姓名: _____
班数: _____


6元




5角




1元




9元





4元





9元5角

















七、填表。（12 分）




1元/个




2元/个








9元/个



30元/个



6元/根

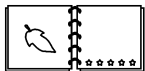
买的物品	付了的钱	应找回的钱
	10 元	1 元
	7 元	1 元
	5 元	4 元
	50 元	20 元
	20 元	10 元

八、解决问题。(16分)

1. 买东西。(10分)



每把8元



每本3元5角



每个2元3角



每个9角

(1) 买一把小号和一本相册应付多少钱?

【答案】8元+3元5角=11元5角

答:买一把小号和一本相册应付11元5角。

(2) 冬冬买了一个杯子和一个毽子,付给售货员4元钱,应找回多少钱?

【答案】4元-2元3角-9角=8角

答:应找回8角。

2. 妈妈有1张50元、3张20元和6张10元的钱,买一双80元的运动鞋,她有几种付钱方法?(6分)

【答案】她有五种付钱方法:①1张50元和3张10元;②1张50元、1张20元和1张10元;③1张20元和6张10元;④2张20元和4张10元;⑤3张20元和2张10元。

附加题。(10分)



100元能买3箱酸奶吗?



【答案】 $30+30+30=90$ (元) $90<100$

答:100元能买3箱酸奶。