

第二单元素质测评试卷





(总分:100分 时间:60分钟)

题号	一	二	三	四	五	六	七	附加题	总分
得分									

一、我会填。(7分)

1. 早晨,大树的影子在它的(西)面;傍晚,大树的影子在它的(东)面。
2. 小红面向东面,她向左转,这时她面向(北)面。
3. 李梅家在学校的西面,李梅每天上学都是朝(东)面走。
4. 学校大门朝南开,走进大门正对着教学大楼,教学大楼在大门的(北)面。
5. 炊烟向东南方向飘去时,这时吹的是(西北)风。
6. 如果你去游泳馆时向东北方向走了 800 米,那么回来时你应向(西南)方向走 800 米。


二、对号入座。(将正确答案的序号填在括号里)(12分)

1. 指南针是我国古代四大发明之一,不论将它放在什么地方,它的指针有一端是指向(**B**)。
A. 西 B. 南 C. 东
2. 王力面向南,在原地向右转 3 次,再向左转 2 次,这时王力面向(**B**)。
A. 东 B. 西 C. 北
3. 晴朗的夜晚,我们可以利用(**C**)来辨别方向。
A. 月亮 B. 太阳 C. 北极星
4. 如果  在  的南面,  在  的南面,那么

 在  的(A)。

- A. 南面 B. 北面 C. 东面
5. 如果小兰座位的西南方向是小明的座位,那么小兰的座位在小明座位的(C)方向。
- A. 东南 B. 西北 C. 东北
6. 上体育课,同学们面向西站好队,体育委员下口令“向右转,向右转”。这时同学们面向(C)站立。
- A. 北 B. 南 C. 东

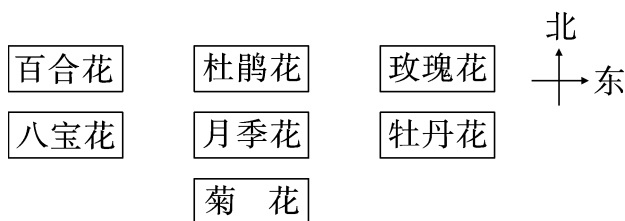
三、动物之家。(15 分)



1. 小猴在小兔的(西南)方向。
2. 松鼠在小猴的(北)面。
3. (小狗)在(小兔)的(东南)方向。
4. (小猫)在(小兔)的(东北)方向。
5. (松鼠)在(小兔)的(西北)方向。
6. (小兔)在(小狗)的(西北)方向。
7. 小猫在小狗的(北)面。

(3~6 题答案不唯一)

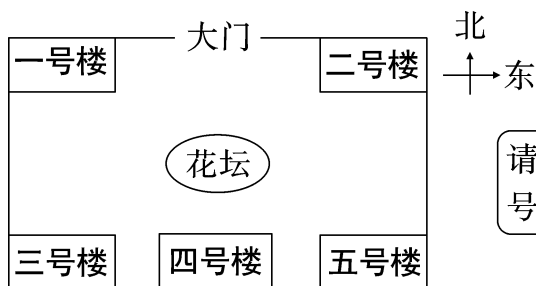
四、花的世界。(14 分)



1. 杜鹃花在月季花的(北)面。
2. 菊花在月季花的(南)面。
3. 百合花在月季花的(西北)方向。
4. 牡丹花在月季花的(东)面。
5. 八宝花在月季花的(西)面。
6. 玫瑰花在月季花的(东北)方向。
7. 玫瑰花在牡丹花的(北)面。

五、按要求完成下面各题。(22 分)

1. 顺心花园大门的正南面是花坛,花坛的南面是四号楼,三号楼和五号楼分别在花坛的西南方向和东南方向,一号楼和二号楼分别在大门的西面和东面。(10 分)



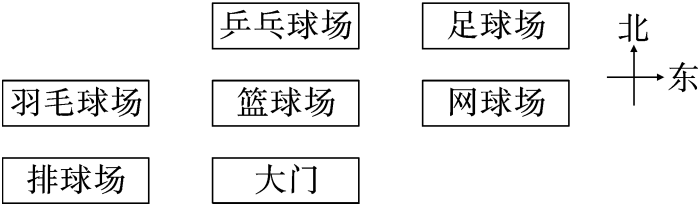
请根据以上描述,把各号楼填在适当的位置上。



2. 设计美丽的校园。(12 分)
 - (1) 花园在教学楼的北面。
 - (2) 操场在教学楼的南面。
 - (3) 微机室在教学楼的东北方向。
 - (4) 音乐室在教学楼的东面。
 - (5) 大门在教学楼的西面。

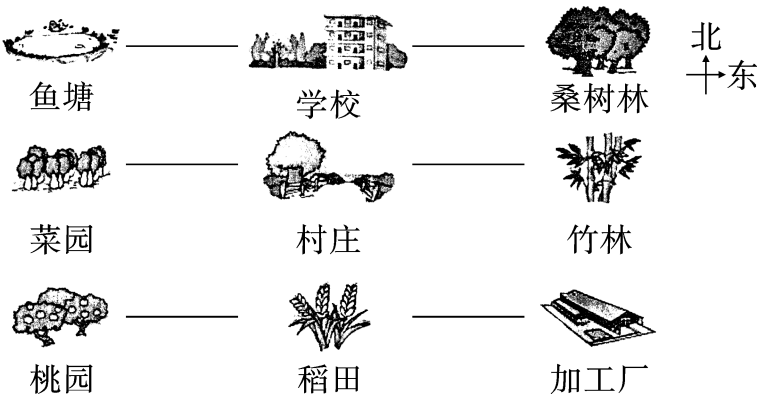


六、体育馆。(18 分)



- 1. 篮球场在大门的(北)面。
- 2. 足球场在篮球场的(东北)方向。
- 3. 羽毛球场在篮球场的(西)面。
- 4. 乒乓球在足球场的(西)面。
- 5. 排球场在篮球场的(西南)方向。
- 6. 网球场在篮球场的(东)面。

七、村庄新面貌。(12 分)



鱼塘在村庄的(西北)方向,加工厂在村庄的(东南)方向,桑树林在学校的(东)面,桑树林在村庄的(东北)方向。

附加题。(10 分)

小狗从家出发,先向东走 80 m,又向南走 80 m,再向西走 80 m,最后向北走 100 m,现在它离家多少米?

【答案】现在它离家 20 米。