

第三、四单元素质测评试卷

(总分:100分 时间:60分钟)

题号	一	二	三	四	五	六	七	八	附加题	总分
得分										

一、我会填。(11分)

- 1000 里有(10)个百,10000 里有(10)个千。
- 4785 是(四)位数,千位上的数字是(4),表示(4)个(千);百位上的数字是(7),表示(7)个(百);十位上的数字是(8),表示(8)个(十);个位上的数字是(5),表示(5)个(一)。
- 最大的四位数是(9999),再加 1 是(10000)。
- $4600 = (4000) + (600)$ 。(利用数的组成填空)
- 由 9 个千和 5 个一组成的数是(9005)。
- 由 7,0,1,9 组成最大的四位数是(9710),最小的四位数是(1079)。

二、火眼金睛。(下面各题对的画“√”,错的画“×”)(6分)

- 最小的四位数是 1000。 (√)
- 7007 中的两个“7”所表示的意义相同。 (×)
- 一个五位数,它的最高位是万位。 (√)
- 由 9 个千和 8 个百组成的数是 9080。 (×)
- 5000 里有 5 个百。 (×)
- 4009 读作四千零零九。 (×)

三、挑西瓜。(将正确答案的序号填在括号里)(10分)

- 与千位相邻的数位是(A)。

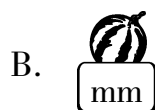

A. 
万位和百位

B. 
百位和十位

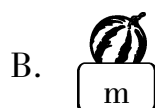

2. 最小的三位数是(**A**)。



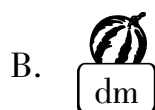

3. 1 分钱硬币大约厚 1(**B**)。



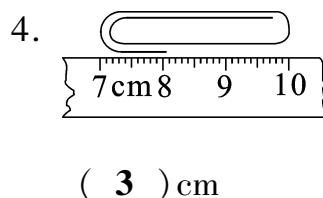
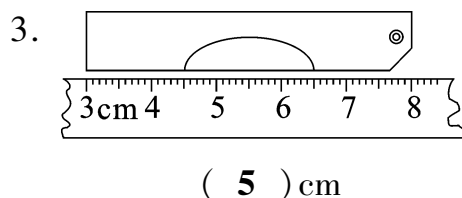
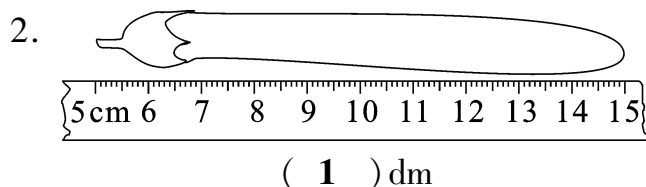
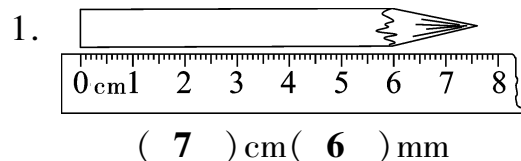
4. 我国长江长约 6300(**A**)。



5. 旗杆高约 12(**A**)。



四、我会量。(8 分)



五、练功房。(25 分)

1. 小换算家。(16 分)

4 cm = (**40**) mm 50 dm = (**5**) m 3 dm = (**30**) cm

60 mm = (**6**) cm 9 m = (**90**) dm 7 cm = (**70**) mm

$120 \text{ dm} = (12) \text{ m} \quad 18 \text{ dm} = (180) \text{ cm} \quad 2 \text{ km} = (2000) \text{ m}$

$8000 \text{ m} = (8) \text{ km} \quad 6 \text{ km} = (6000) \text{ m} \quad 90 \text{ mm} = (9) \text{ cm}$

$2 \text{ m} = (20) \text{ dm} = (200) \text{ cm} = (2000) \text{ mm}$

$10000 \text{ m} = (10) \text{ km}$

2. 我会比。(在 \bigcirc 里填上“>”“<”或“=”)(9分)

$8 \text{ m} (\text{>}) 8 \text{ dm}$

$17 \text{ cm} (\text{<}) 2 \text{ dm}$

$50 \text{ mm} (\text{=}) 5 \text{ cm}$

$29 \text{ dm} (\text{>}) 2 \text{ m}$

$1 \text{ km} (\text{>}) 12 \text{ m}$

$90 \text{ cm} (\text{<}) 1 \text{ m}$

$45 \text{ dm} (\text{>}) 4 \text{ m}$

$5000 \text{ m} (\text{<}) 8 \text{ km}$

$6 \text{ mm} (\text{<}) 2 \text{ dm}$

六、练功房。(14分)

1. 我会读。(6分)



1080元



1005元



435元

(一千零八十)元

(一千零五)元

(四百三十五)元

2. 我会写。(8分)

四千零七十(4070)

五百九十二(592)

一万(10000)

九千五百六十五(9565)

七、我知道。(15分)

1.



液晶电视比台式电脑贵些，
比笔记本电脑便宜些。



每台5999元 每台7299元

液晶电视多少元？在合适的答案下面画“☺”。

4800 元	6725 元	9818 元
	☺	

2.

一辆汽车每小时行驶60千米，3小时行驶多少千米？



【答案】 $60+60+60=180$ (千米)

答:3 小时行驶 180 千米。

3.

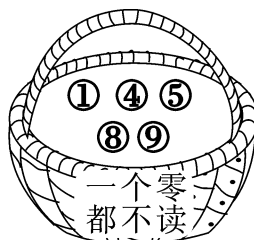
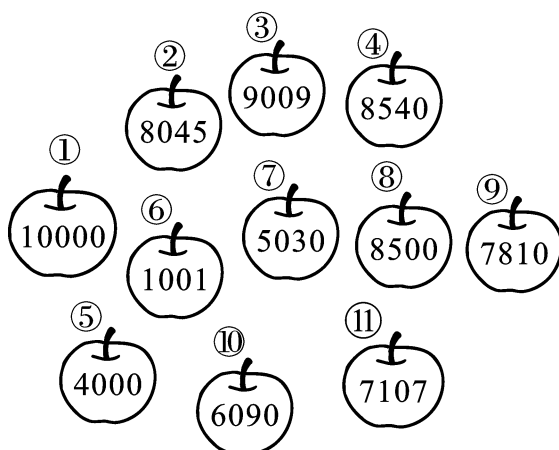


1本字典长20厘米，写字台的长是5本字典的长，写字台有多长？

【答案】 $20+20+20+20+20=100$ (厘米)


答:写字台有 100 厘米长。

八、分苹果。(填序号)(11 分)



附加题。(10 分)

把下面这 4 个大小相同的铁环连在一起,你能算出拉紧后的铁环总长吗?



【答案】 $10+10+10+10-6=34$ (cm)

答:拉紧后的铁环总长为 34 cm。