

第一单元素质测评试卷

(总分:100分 时间:60分钟)

题号	一	二	三	四	五	六	七	八	附加题	总分
得分										

一、我会填。(9分)

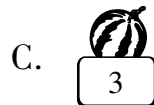
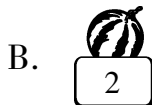
1. 在有余数的除法中,余数要比除数(小)。
2. 38个苹果,平均放在7个盘子里,每盘放(5)个,还剩(3)个。
3. 31天是(4)个星期零(3)天。
4. $40 \div 6 = \square \cdots \square$ 中,余数是(4)。
5. $\square \div 8 = 4 \cdots 5$, \square 里应填(37)。
6. 一个数除以3有余数,余数可能是(2)或(1)。

二、火眼金睛。(下面各题对的画“√”,错的画“×”)(6分)

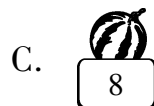
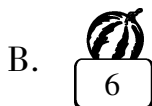
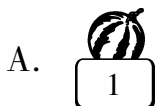
1. 所有的除法算式都有余数。 (×)
2. 在除法中,余数一定小于除数。 (√)
3. 一个数除以5,余数可能是9。 (×)
4. 10月份有31天,正好是5个星期。 (×)
5. 一个数除以6,余数可能是1,2,5,7。 (×)
6. $48 \div 6 = 7 \cdots 7$ 。 (×)

三、挑西瓜。(将正确答案的序号填在括号里)(5分)

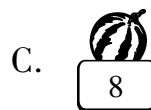
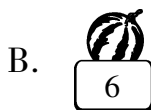

1. $49 \div 8$ 的余数是(A)。



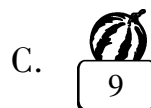


2. 在算式 $\square \div \bigcirc = \triangle \cdots 7$ 中, \bigcirc 最小代表(C)。



3. 一个数除以7,余数最大是(**B**)。



4. $45 > 6 \times \square$, 方框里最大能填(**A**)。












5. 在有余数的除法中,余数与商相比较,(**C**)。




四、找一找,填一填。(填序号)(11分)

1. 我会分。(4分)

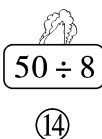
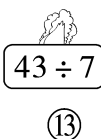
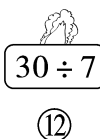
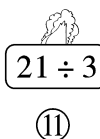
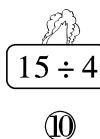
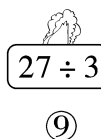
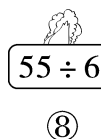
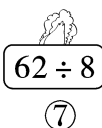
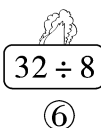
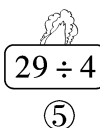
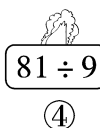
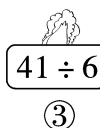
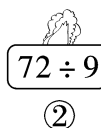
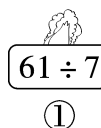


余数是3的



余数是5的

2. 小兔吃白菜。(7分)



没有余数的



有余数的

(② ④ ⑥ ⑨ ⑪)

(① ③ ⑤ ⑦ ⑧ ⑩ ⑫ ⑬ ⑭)

五、里最大能填几？（18分）

$$\textcircled{\frac{4}{3}} \times 7 < 22$$

$$3 \times \textcircled{\frac{4}{8}} < 25$$

$$9 \times \textcircled{\frac{4}{6}} < 61$$

$$\textcircled{\frac{4}{7}} \times 6 < 43$$

$$\textcircled{\frac{4}{9}} \times 4 < 38$$

$$\textcircled{\frac{4}{7}} \times 8 < 62$$

$$2 \times \textcircled{\frac{4}{6}} < 13$$

$$5 \times \textcircled{\frac{4}{6}} < 33$$

$$\textcircled{\frac{4}{4}} \times 9 < 42$$

六、用竖式计算。（18分）

$$80 \div 9 = 8 \cdots 8$$

$$\begin{array}{r} 8 \\ 9 \overline{) 80} \\ \underline{72} \\ 8 \end{array}$$

$$51 \div 6 = 8 \cdots 3$$

$$\begin{array}{r} 8 \\ 6 \overline{) 51} \\ \underline{48} \\ 3 \end{array}$$

$$25 \div 4 = 6 \cdots 1$$

$$\begin{array}{r} 6 \\ 4 \overline{) 25} \\ \underline{24} \\ 1 \end{array}$$

$$73 \div 8 = 9 \cdots 1$$

$$\begin{array}{r} 9 \\ 8 \overline{) 73} \\ \underline{72} \\ 1 \end{array}$$

$$52 \div 7 = 7 \cdots 3$$

$$\begin{array}{r} 7 \\ 7 \overline{) 52} \\ \underline{49} \\ 3 \end{array}$$

$$56 \div 8 = 7$$

$$\begin{array}{r} 7 \\ 8 \overline{) 56} \\ \underline{56} \\ 0 \end{array}$$

七、购物。（8分）



8元/支



6元/个

钱数	最多买钢笔支数	最多买皮球个数
15 元	(1) 支	(2) 个
30 元	(3) 支	(5) 个
36 元	(4) 支	(6) 个
50 元	(6) 支	(8) 个

八、生活中的数学。(25 分)

1.



限乘5人

二(1)班有女生21人,男生16人,要去公园划船,至少要租几条船?

(8 分)



【答案】 $21+16=37$ (人) $37\div5=7$ (条)……2(人)

$7+1=8$ (条)

答:至少要租 8 条船。

2.



有25个苹果,平均分给6个小朋友,每个小朋友分得几个?还剩几个?

(8 分)

【答案】 $25\div6=4$ (个)……1(个)

答:每个小朋友分得 4 个,还剩 1 个。

3.



10本

把这些书平均分给9个班,每班分得几本?还剩几本?



(9 分)

【答案】 $50\div9=5$ (本)……5(本)

答:每班分得 5 本,还剩 5 本。

附加题。(10 分)

2012 年 5 月 1 日是星期二,六一儿童节是星期几?(5 月份共有 31 天)

【答案】 $31\div7=4$ (个)……3(天)

答:六一儿童节是星期五。