

第二单元素质测评试卷

(总分:100分 时间:60分钟)

题号	一	二	三	四	五	六	七	八	九	十	附加题	总分
得分												

一、仔细想,认真填。(13分)

1. 我们常用的时间单位有(时)、(分)和(秒)。计量很短的时间,常用比分更小的单位(秒)。
2. 钟面上最长的针是(秒)针,最短的针是(时)针。
3. 钟面上有(12)个大格,有(60)个小格,每个大格里有(5)个小格。
4. 小明星期天上午9:30开始看书,看到11时,他一共看书(1小时30分钟)。
5. 秒针从1走到10,走了(45)秒;分针从2走到7,走了(25)分钟;时针从3走到9走了(6)小时。

二、选择合适的时间单位填一填。(5分)

1. 每天晚上中央一套《新闻联播》播放的时间为30(分钟)。
2. 2010年广州亚运会上,刘翔在男子110米跨栏决赛中以13(秒)零9的成绩夺冠。
3. 一列火车从A地开往B地大约需要6(小时)。
4. 小亮深呼吸一下大约需要2(秒)。
5. 一节课的时间是40(分钟)。

三、选择题。(10分)

1. 分针走半圈是(B)分钟。
A. 5 B. 30 C. 25
2. 秒针走1圈,正好是(A)分钟。
A. 1 B. 30 C. 60

3. (**B**) 时整时,分针和时针成一条直线。

A. 3

B. 6

C. 9

4. 时、分、秒之间的进率是(**B**)。

A. 10

B. 60

C. 100

5. 现在是7:30,分针再走2个大格是(**B**)。

A. 7:35

B. 7:40

C. 7:50

四、在 **○** 里填上“>”“<”或“=”。(8分)

20 秒 **<** 1 分

99 分 **>** 1 时

76 秒 **<** 96 分

1 分 **=** 60 秒


25 分 07 秒 **>** 30 秒

120 分 **=** 2 时


1 时 **>** 60 秒

2 时零 5 分 **>** 3 分


五、看钟面写时间。(12分)




(**6**) 时(**30**) 分




(**6**) 时(**15**) 分




(**3**) 时(**45**) 分



(**3**) 时



(**1**) 时



(**7**) 时

六、连一连。(10分)

1. 请根据跑步比赛成绩连一连。(4分)

67秒


1分

1分零5秒


58秒



2. 请根据事件发生的先后顺序连一连。(6 分)




七、照样子，写一写。(10 分)




8时15分

8:15




7时15分

7:15




11时30分

11:30




12时零5分

12:05



3时45分


3:45




9时35分

9:35


八、根据时间画出分针和时针。(6 分)



7:00




9:30




12:50



7时30分

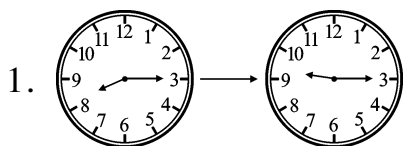


9时15分



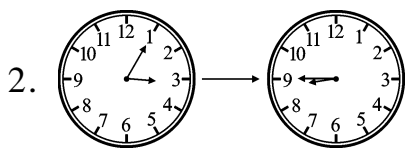
6时

九、看图填一填。(17 分)

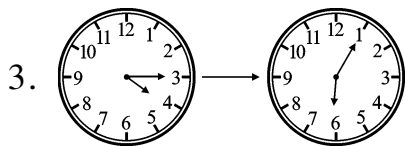


1.

从(8)时(15)分到(9)时(15)分,经过了(1)小时。



从(3)时(零 5)分到(8)时(45)分,经过了(5)小时
(40)分钟。



从(4)时(15)分到(6)时(零 5)分,经过了(1)小时
(50)分钟。

十、爸爸上午上班的时间是8:00~11:30,下午从1:30开始上班,工作时间与上午一样长。爸爸下午什么时候下班?(9分)

【答案】11时30分-8时=3时30分

1时30分+3时30分=5时

答:爸爸下午5时下班。

附加题。(10分)

根据规律继续画一画。

