

第三单元素质测评试卷

(总分:100分 时间:60分钟)

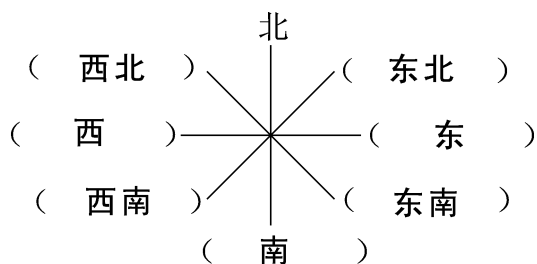
题号	一	二	三	四	五	六	七	附加题	总分
得分									

大家快来填一填。




(30分)

1. 早晨起床后,面向太阳站好,你的左面是(北)面,右面是(南)面,后面是(西)面。
2. 体育课上,全体同学面向北站队,体育老师喊“向左转”全体同学面向(西)面;如果喊“向右转”,那么全体同学面向(东)面;如果喊“向后转”,那么全体同学面向(南)面。
3. 东与(西)相对,东北与(西南)相对。
4. 写出下面其余7个方向。







二、有问题,我来答。(10分)

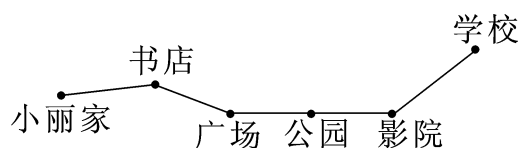



1. (大象)住在猫的东面,(熊猫)住在猫的西面。
2. (公鸡)住在猫的北面,(大象)住在小兔的南面。
3. (猴子)住在猫的西北面,(小兔)住在猫的东北面。

4. 公鸡住在(**大象**)的西北面,猫住在(**小兔**)的西南面。
5. (**公鸡和小兔**)住在熊猫的东北面,(**大象**)住在公鸡的东南面。

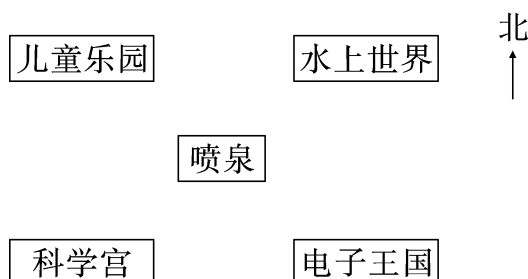
三、择优录取。(将正确答案的序号填在括号里)(10分)

1. 与东南面相对的是(**C**)面。
A. 西南 B. 东北 C. 西北
2. 早晨,太阳从(**A**)面升起,傍晚从(**C**)面落下。
A. 东 B. 南 C. 西 D. 北
3. 伸平两臂,若左臂指向西南,则右臂指向(**B**)。
A. 西北 B. 东北 C. 东南
4. 在右图中西南面的图形是(**B**),东北面的图形是(**C**)。
A.  B. 
C.  D. 
5. 从小丽家到学校要经过(**B**)个地方。



- A. 5 B. 4 C. 6

四、看图填一填。(10分)



1. 儿童乐园在喷泉的(**西北**)面。
2. 科学宫在喷泉的(**西南**)面,在电子王国的(**西**)面。
3. 水上世界在儿童乐园的(**东**)面,在喷泉的(**东北**)面。

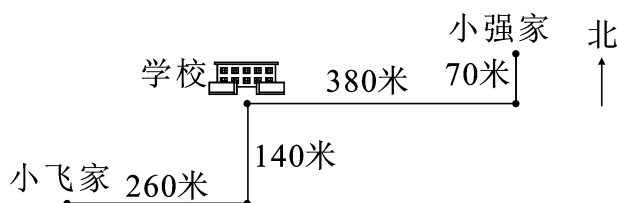


五、请你将名字准确地写在 里。(16 分)

我的北面是小丽,我的南面是小军,我的东南面是小风,我的西南面是小刚,我的东北面是小艳,我的东面是小明,我的西面是小花,我的西北面是小乐。



六、看图回答问题。(12 分)



1. 分别说一说小飞和小强上学应该怎样走。(6 分)

【答案】小飞从家出发,先向东面走 260 米,再向北面走 140 米到学校。

小强从家出发,先向南面走 70 米,再向西面走 380 米到学校。

2. 谁家离学校比较近? 近多少米?(6 分)

【答案】 $260+140=400$ (米)

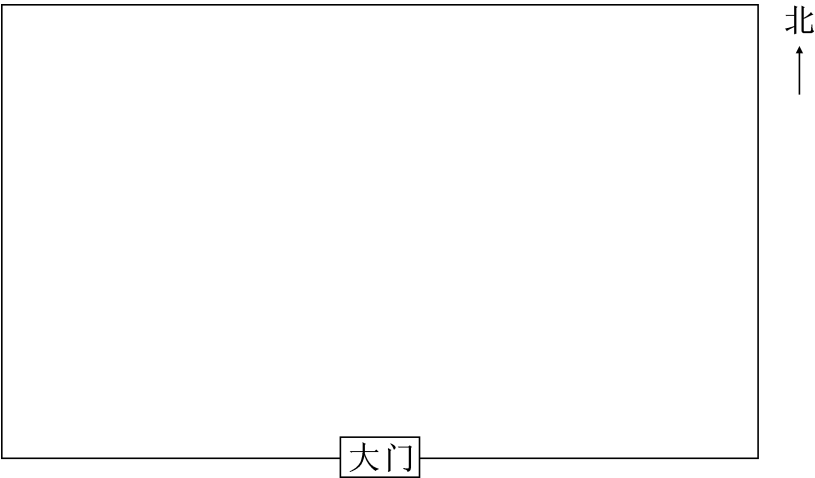
$380+70=450$ (米)

$450-400=50$ (米)

答:小飞家离学校比较近,近 50 米。

七、小小设计师。(12 分)

在下面的一片土地上,要建一个儿童游乐园,你打算建哪些游乐项目?各建在什么地方? 请你画出来,并说一说从大门进去到各游乐点应该怎么走。



【答案】自己完成。

附加题。(10 分)

根据已知条件,画出平面位置示意图。
我家的东南面是学校;
晓明家在我家的东面;
公园在学校的南面。

【答案】

