

第一单元素质测评试卷

(总分:100分 时间:60分钟)

题号	一	二	三	四	五	六	七	八	九	附加题	总分
得分											

一、想一想,填一填。(8分)

1. 看图写算式。(4分)



$$\boxed{17} \div \boxed{5} = \boxed{3} \text{ (盘)} \cdots \boxed{2} \text{ (个)}$$

$$\boxed{17} \div \boxed{3} = \boxed{5} \text{ (个)} \cdots \boxed{2} \text{ (个)}$$

2. 在 $31 \div 6 = 5 \cdots 1$ 这个算式中,除数是(6),商是(5),余数是(1)。

3. $\square \times 7 < 40$, \square 里最大可以填(5)。

二、学做大法官,对错由你判。(6分)

1. $27 \div 5 = 5 \cdots 2$ 。 (\checkmark)

2. 70 里面最多有 8 个 9。 (\times)

3. 38 除以 5,余数是 3。 (\checkmark)

三、快来选一选。(8分)

1. 下面算式中,余数是 3 的算式是(A)。

A. $30 \div 9$

B. $37 \div 5$

C. $40 \div 7$

2. 有 39 个皮球,最少拿走(C)个,就能平均分给 7 个班。

A. 6

B. 5

C. 4



3. 在算式 $\square \div 5 = 7 \cdots \triangle$ 中, 余数可以是(**B**)。

A. 2 或 7

B. 1, 2, 3 或 4

C. 任何数

4. 在有余数的除法中, 余数和除数相比, (**B**)。

A. 余数大

B. 除数大

C. 一样大

四、填表格。(用除法计算)(10 分)



我家有47条鱼, 如果……

每天吃的鱼	7 条	(5) 条	8 条	(7) 条	9 条
吃的天数	(6) 天	9 天	(5) 天	6 天	(5) 天
还剩的鱼	(5) 条	(2) 条	(7) 条	(5) 条	(2) 条

五、连一连。(8 分)



$$33 \div 5$$



$$48 \div 6$$



$$20 \div 6$$

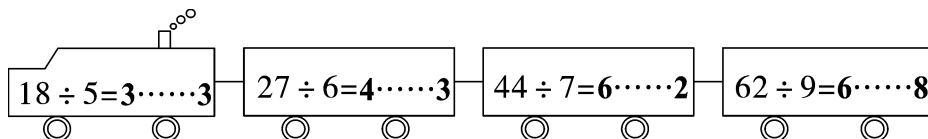


$$41 \div 6$$

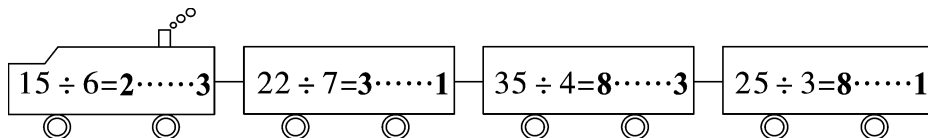


六、开火车。(16 分)


1.




2.



七、森林医生。(对的画“√”,错的画“×”并改正)(6分)

1. 
(×)

改正:
$$\begin{array}{r} 6 \\ 9 \overline{) 56} \\ \underline{54} \\ 2 \end{array}$$

2. 
(×)

改正:
$$\begin{array}{r} 5 \\ 5 \overline{) 27} \\ \underline{25} \\ 2 \end{array}$$

八、列竖式计算。(12分)

$46 \div 9 = 5 \cdots 1$

$$\begin{array}{r} 5 \\ 9 \overline{) 46} \\ \underline{45} \\ 1 \end{array}$$

$32 \div 7 = 4 \cdots 4$

$$\begin{array}{r} 4 \\ 7 \overline{) 32} \\ \underline{28} \\ 4 \end{array}$$

$28 \div 5 = 5 \cdots 3$

$$\begin{array}{r} 5 \\ 5 \overline{) 28} \\ \underline{25} \\ 3 \end{array}$$

九、解决生活中的数学问题。(26分)

1. 有 46 枝鲜花,每瓶插 9 枝,可以插几瓶? 还剩几枝鲜花?(6分)

【答案】 $46 \div 9 = 5$ (瓶) $\cdots 1$ (枝)

答:可以插 5 瓶,还剩 1 枝鲜花。

- 2.



我有 9 张红纸。

每 3 张红纸能做 1 朵花。



我有 13 张红纸。



这些纸可以做多少朵花? 还剩几张纸?(7分)

【答案】 $9 + 13 = 22$ (张)

$22 \div 3 = 7$ (朵) $\cdots 1$ (张)

答:这些纸可以做 7 朵花,还剩 1 张纸。

3. 周末王老师带二(1)班全体同学去划船。(8分)

(1) 每只船限坐 5 人,至少需要多少只船?

我们班共有 39 人。



【答案】 $39 \div 5 = 7$ (只) $\cdots 4$ (人)

$7 + 1 = 8$ (只)

答:至少需要 8 只船。

(2) 如果每只船坐 5 人,共有 6 只船,那么有多少人不能上船?

【答案】 $5 \times 6 = 30$ (人) 或 $6 \times 5 = 30$ (人)

$39 - 30 = 9$ (人)

答:有 9 人不能上船。

4. 一本书有 52 页,如果平均每天看 6 页,那么至少需要几天才能看完?(5 分)

【答案】 $52 \div 6 = 8$ (天)……4(页)

$8 + 1 = 9$ (天)

答:至少需要 9 天才能看完。

附加题。(10 分)

每辆车需要 4 个轮胎,35 个轮胎最多可以安装几辆车?再添几个轮胎就可以多安装 1 辆?

【答案】 $35 \div 4 = 8$ (辆)……3(个)

$4 - 3 = 1$ (个)

答:35 个轮胎最多可以安装 8 辆车,再添 1 个轮胎就可以多安装 1 辆车。