

第九单元素质测评试卷

(总分:100分 时间:60分钟)

题号	一	二	三	四	五	六	七	八	附加题	总分
得分										

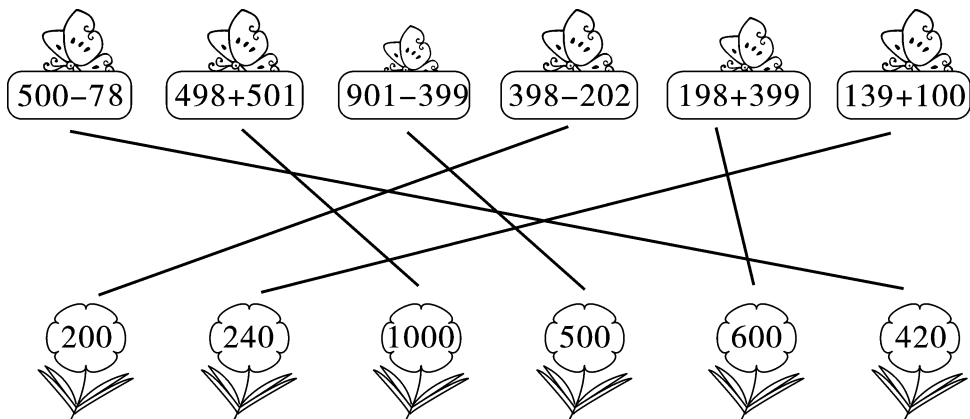
一、大家快来填一填。(10分)

- 比168多110的数是(**278**)。
- 比900少255的数是(**645**)。
- 36除以8的余数是(**4**)。
- 3时整时,钟面上分针指着(**12**),时针指着(**3**)。
- $801+295$ 估算的结果是(**1100**),实际得数是(**1096**)。
- 一支笔长约15(**厘米**),一张床长约2(**米**),一张银行卡厚约1(**毫米**)。

二、 火眼金睛判对错。(对的画“√”,错的画“×”)(5分)

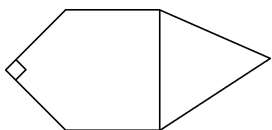
- 与西北面相对的方向是东北面。(**×**)
- 数学课本厚约7厘米。(**×**)
- 最小的三位数是111。(**×**)
- 钝角比直角大。(**√**)
- 一个数除以7有余数,余数可能是8。(**×**)

三、估一估,连一连。(12分)



四、看图回答问题。(8分)

1.



左图中有(**10**)个角,有(**3**)个直角,有(**3**)个锐角,有(**4**)个钝角。

2.



左图中金鱼在小猪的(**西北**)面,小猫在小猪的(**西南**)面,刺猬在大象的(**东北**)面,小猴在小猪的(**东南**)面。

五、在 ○ 里填上“>”“<”或“=”。(9分)

7 厘米 (**<**) 5 分米

20 毫米 (**=**) 2 厘米

1 米 (**<**) 90 分米

3 分米-2 厘米 (**>**) 1 分米

738 (**<**) 873

215 (**<**) 512

607 (**<**) 706

1000 (**>**) 998

88 (**<**) 45+54

六、我是小小神算手。(24分)

1. 口算小博士。(12分)

$700+20=720$

$180-80=100$

$500+500=1000$

$160-70=90$

$6000-5000=1000$

$50+70=120$

$70-40=30$

$24\div6=4$

$300+200=500$

$30+20=50$

$21\div7=3$

$12\div6=2$

2. 列竖式计算。(12分)

$725+187=912$

$603-184=419$

$59\div9=6\cdots\cdots5$

$$\begin{array}{r} 725 \\ + 187 \\ \hline 912 \end{array}$$

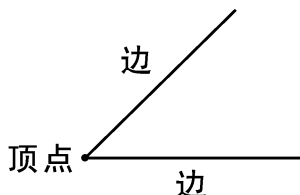
$$\begin{array}{r} 603 \\ - 184 \\ \hline 419 \end{array}$$

$$\begin{array}{r} 6 \\ 9\overline{)59} \\ \underline{54} \\ 5 \end{array}$$

七、画一画。(8分)

1. 画一个锐角,并标出它的顶点和边。

【答案】



(答案不唯一)

2. 画一条比3厘米长10毫米的线段。

【答案】

八、解决生活中的数学问题。(24分)

1. 购物。(9分)



24元



15元



9元

- (1) 地球仪比文具盒贵多少元?

【答案】 $24-15=9$ (元)

答:地球仪比文具盒贵9元。

- (2) 50元最多能买几支钢笔?

【答案】 $50\div 9=5$ (支)……5(元)

答:50元最多能买5支钢笔。

- (3) 你还能提出什么数学问题? 自己提一提并解答。

【答案】(答案不唯一)

如:买这三样物品一共需要多少元?

$24+15+9=48$ (元)

答:买这三样物品一共需要48元。

2.

我有45枚
邮票。



小明



小花


我的邮票数比
你的多61枚。

小花有多少枚邮票？(3 分)

【答案】 $45+61=106$ (枚)

答:小花有 106 枚邮票。

3. 统计下面的图形,按表中的不同分类填一填。(12 分)



形状	合计			
个数(个)	26	8	11	7

颜色	合计	白色	黑色
个数(个)	26	14	12

附加题。(10 分)

一本书有 98 页,小方第一天看了 20 页,第二天从第 21 页看到第 67 页,小方第二天看了多少页? 这本书还剩多少页没有看?

【答案】 $67-21+1=47$ (页)

$98-20-47=31$ (页)

答:小方第二天看了 47 页,这本书还剩 31 页没有看。