

# 初三地理

2018.01

考生须知

1. 本试卷共 10 页，共二道大题，35 道小题，满分 100 分。考试时间 90 分钟。
2. 在试卷和答题卡上准确填写学校名称、姓名和考试号。
3. 试题答案一律填涂或书写在答题卡上，在试卷上作答无效。
4. 在答题卡上，选择题、作图题用 2B 铅笔作答，其他试题用黑色字迹签字笔作答。
5. 考试结束，将本试卷和答题卡一并交回。

## 一、单项选择题。(本大题共 30 小题，每小题 1.5 分，共 45 分)

微信登录界面背景图“蓝色弹珠”是 1972 年美国阿波罗 17 号拍摄的最著名的真实地球照片。读图 1，完成第 1、2 题。

1. 地球卫星照片“蓝色弹珠”( )

- A. 显示地球是规则的球体
- B. 首次证明地球是一个球体
- C. 是人类认识地球形状的最初阶段
- D. 是地球形状的最直观确凿的证据

2. 以下能够描述地球大小的是( )

- ①地表海洋深度
- ②地球平均半径
- ③地球表面积
- ④陆地平均海拔
- ⑤地表海陆比例
- ⑥地球赤道周长

A. ①②③

B. ②③⑥

C. ③④⑤

D. ①③④⑤

读“某地等高线地形图(图 2)”，完成第 3~5 题。

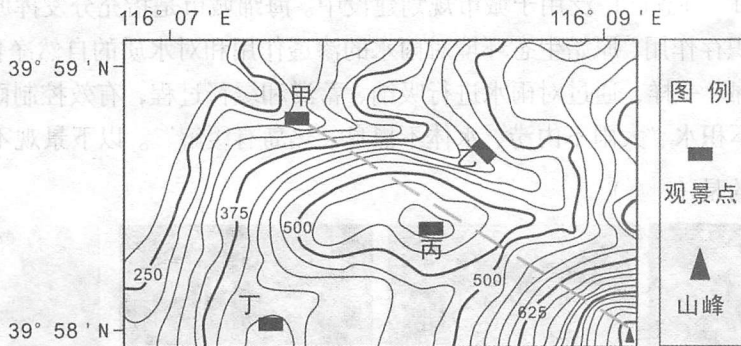


图 2

3. 图示地区位于( )

A. 北温带

B. 北寒带

C. 热带

D. 南温带

4. 图中( )

A. 等高距为 50 米

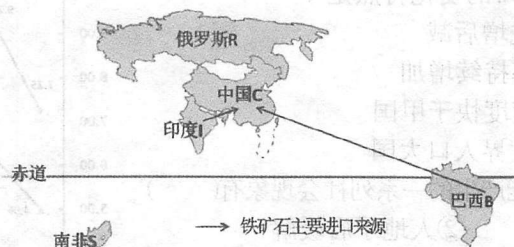
B. 四个观景点中，乙地海拔最低

C. 甲、乙、丙三地所处地形部位相同

D. 自甲至山峰地势由陡到平缓再到陡

5. 霜降（每年 10 月 23 日前后）时节，在甲、乙、丙、丁四个观景点可以欣赏到（ ）
- A. 甲——红霞映雪      B. 乙——小桥流水
- C. 丙——层林尽染      D. 丁——旭日东升

2017 年 9 月 3—5 日，金砖国家（BRICS）领导人第九次会晤在中国东南沿海城市厦门举办。图 3 为某同学从世界地图中剪辑的金砖五国分布图。据此，完成第 6、7 题。



金砖五国分布图

图 3

6. 金砖五国中，（ ）
- A. 南非地处南美洲      B. 印度东临太平洋，西临大西洋
- C. 均属发达国家，需加强南北对话      D. 均临海洋，属于发展中国家
7. 如图所示，中国从其它金砖国家进口的工业原料（ ）
- A. 不属于自然资源      B. 属于可再生资源
- C. 取之不竭，用之不完      D. 再生速度远小于人类开发利用速度

读“某甲、乙两地气候的气温曲线和降水量柱状图（图 4）”，完成第 8~10 题。

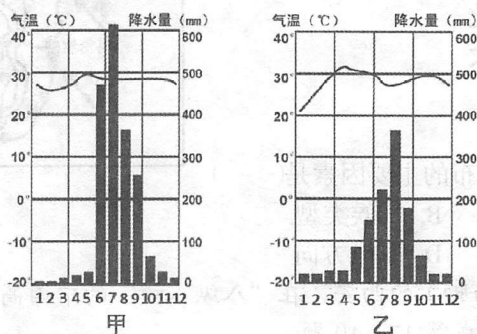


图 4

8. 两地的气候特点是（ ）
- A. 甲地气温年较差大于乙地      B. 甲地年降水量少于乙地
- C. 最炎热季节均在雨季来临前      D. 乙地春夏秋冬四季分明
9. 从气候特点来看，甲、乙两地（ ）
- A. 甲地 4、5 月易发生严重的旱灾      B. 甲地作物熟制为一年一熟
- C. 乙地 1 月易发生寒潮低温冻害      D. 乙地适宜种植甜菜、水稻
10. 家住北京的张明同学暑假想去乙地旅游，你从气候角度做出分析后给他的建议是（ ）
- A. 正值最热的季节，请带上防中暑药      B. 正值植被枯黄季节，最好改期
- C. 正值阳光最强烈季节，请带上墨镜      D. 正值湿热季节，请带上驱蚊水

读“两国人口数量变化统计图(图5)”,完成第

11~13题。

11. 运用此图数据可以计算出两国在该时段的( )

- A. 人口密度      B. 人口增长率  
C. 人口出生率      D. 人口死亡率

12. 五十年来,两国人口的变化特点是( )

- A. 中国人口数量先增后减  
B. 中国人口增长率持续增加  
C. 中国人口增长速度快于甲国  
D. 目前两国均为世界人口大国

13. 甲国的人口现状可能产生的一系列社会现象有( )

- ①住房拥挤      ②人地矛盾缓解  
③兵源不足      ④失业人口增多

- A. ①②      B. ③④      C. ①④      D. ②③

读“斯里兰卡略图(图6)”,完成第14~16题。

14. 斯里兰卡( )

- A. 为热带岛国,西北与印度接壤  
B. 首都位于河流源地的科伦坡  
C. 平原、山地为主,中部高四周低  
D. 河流众多,由四周流向中部

15. 斯里兰卡东、西部地区雨季出现的时间不同,主要原因是( )

- A. 盛行风的季节变化  
B. 海拔高度相差较大  
C. 纬度差异较大  
D. 距海远近不同

16. 影响斯里兰卡城镇分布的主要因素是( )

- A. 地形地势      B. 气候类型  
C. 纬度位置      D. 季风方向

秦岭北麓(麓,指山脚)的西安,在“八纵八横”的中国高铁时代更加凸显其铁路枢纽地位。结合图7,完成第17~19题。

17. 西安位于我国四大地理区域的( )

- A. 南方地区      B. 北方地区  
C. 西北地区      D. 青藏地区

18. 目前乘坐高铁从西安出发,可直通的省级行政中心有( )

- A. 10个      B. 5个      C. 4个      D. 2个

19. 地势起伏对高铁速度有一定的影响。若只从地形地势考虑,以下路段速度最快的可能是( )

- A. 西安——太原      B. 西安——成都  
C. 石家庄——北京      D. 张掖——西宁

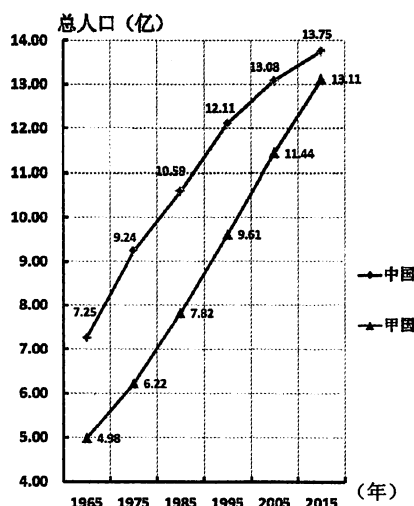


图5

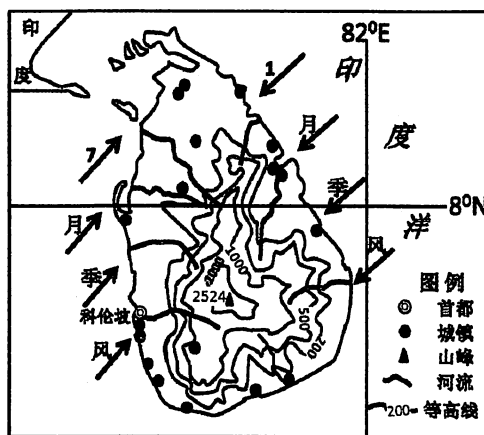


图6

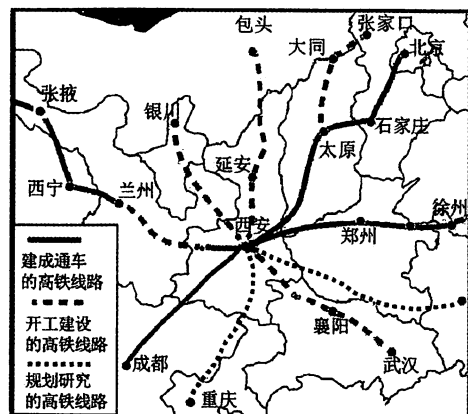


图7

读“中国主要山脉分布图（图8）”，完成第20~23题。

20. 以下古诗词中提到的山脉与图中序号对应正确的是（ ）

- A. 但使龙城飞将在，不教胡马度阴山。——①
- B. 飞趁昆仑山上去，须臾化作一天云。——②
- C. 欲渡黄河冰塞川，将登太行雪满山。——③
- D. 曾经沧海难为水，除却巫山不是云。——④

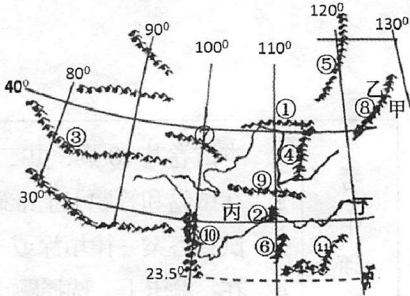


图 8

21. 图中组成地势第二、三级阶梯分界的山脉是（ ）

- A. ③⑦⑩
- B. ①④⑨②
- C. ⑤④②⑥
- D. ⑧④①①

22. 山脉会对气温和降水产生一定的影响。以下四位同学的判断，正确的是（ ）

同学李：甲地位于夏季风的迎风坡，降水多于乙地

同学王：甲地位于冬季风的迎风坡，降水多于乙地

同学张：丙地冬季暖于丁地，因①⑨等山脉阻挡南下冷空气

同学刘：丙地冬季暖于丁地，因②⑥等山脉阻挡北上暖气流

- A. 同学李和王
- B. 同学李和张
- C. 同学张和刘
- D. 同学王和刘

23. 中央电视台“绿水青山看中国”的节目中多次提到“绿水青山就是金山银山”，使“绿水青山”变成“金山银山”的前提条件是（ ）

- A. 开采出山中的金银矿
- B. 全面禁伐树木，以保护环境
- C. 保护好山区生态环境
- D. 将山区人口迁移到平原地带

24. “海绵城市”理念已广泛用于城市规划建设中。海绵城市是指充分发挥原始地形地貌对降雨的积存作用、原始生态环境对雨水的渗透作用和对水质的自然净化作用，使城市像“海绵”一样，通过对雨水进行吸纳、蓄滞和缓释过程，有效控制雨水径流，实现“小雨不积水、大雨不内涝、水体不黑臭、热岛有缓解”。以下景观不能反映海绵城市理念的是（ ）




A



B



C



D

读“我国部分农业区分布图（图9）”及表1，完成第25、26题。



图9

表1

	甲平原区	乙平原区
人均耕地面积（公顷）	0.31	0.07
谷物年产（千克/公顷）	4916	12414

25. 与乙平原区相比，甲平原区发展成为我国重要商品粮基地的有利条件是（ ）
- A. 地广人稀      B. 水热充足      C. 单位面积产量高      D. 地形平坦
26. 乙平原区过去曾是我国重要粮仓，向北方地区输送大量粮食，但近年来乙平原区却从甲平原区大量调入粮食。导致乙平原区粮食生产地位下降的主要原因是（ ）
- A. 水旱灾害频繁，粮食产量下降      B. 城市发展速度快，占用耕地多
- C. 生产技术落后，粮食单产降低      D. 劳动力缺乏，耕地大量荒废

至2012年，中关村国家自主创新园区集中了两万多家高新技术产业，结合图10，完成第27、28题。

27. 中关村国家自主创新园区主要涉及的产业有（ ）

- ①环保产业      ②煤炭化工  
③生物医药      ④航天产业
- A. ①②③      B. ①③④  
C. ②③④      D. ①②④

28. 中关村国家自主创新园区的主要分布特点是（ ）

- A. 分布在城区  
B. 沿河流分布  
C. 以航空港为中心分布  
D. 以海淀、通州区为主要分布区



图10 北京中关村国家自主创新示范区的园区分布

《北京城市总体规划(2016年-2035年)》中指出，北京是全国政治中心、文化中心、国际交往中心、科技创新中心。2017年4月，中共中央、国务院决定设立雄安新区。雄安新区重点承接中央直属企业总部、金融机构、高等院校、科研院所等在内的非首都功能。结合“京津冀局部地区图（图11）”，完成第29、30题。



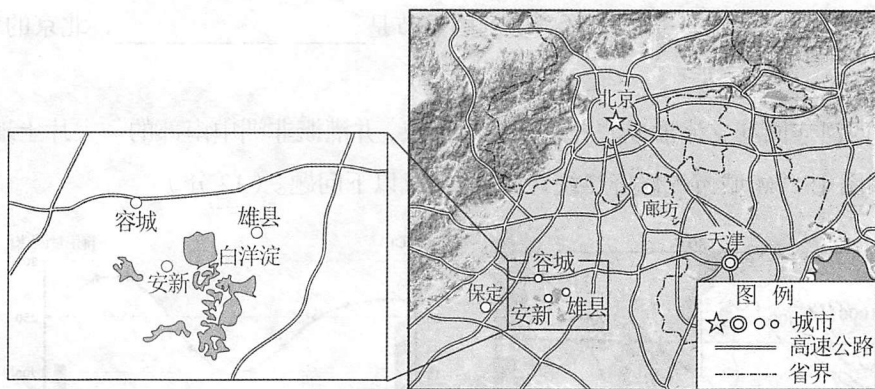


图 11

29. 以下在京发展的企业中，与北京的城市职能相吻合的是（ ）
- A. 服装加工 B. 家具制造 C. 机器人研发 D. 纺织印染
30. 在河北雄安新区设立新区的优势地理位置条件有（ ）
- ①距离京、津近 ②交通位置优越 ③靠近水源地 ④促进京津冀协同发展
- A. ①②③ B. ②③④ C. ①②④ D. ①③④

## 二、综合题。(本大题共 5 小题，共 55 分)

31. 读材料和图 12、图 13，完成以下问题。(10 分)

材料：中国第 34 次南极科学考察队于 11 月 8 日乘坐“雪龙”号，奔赴南极执行科学考察任务。“雪龙”号抵达南极以后，第一站就将直奔罗斯海，为我国建设第五个南极科考站做好前期工作。预计 2018 年 4 月中旬考察队返回上海。



图 12

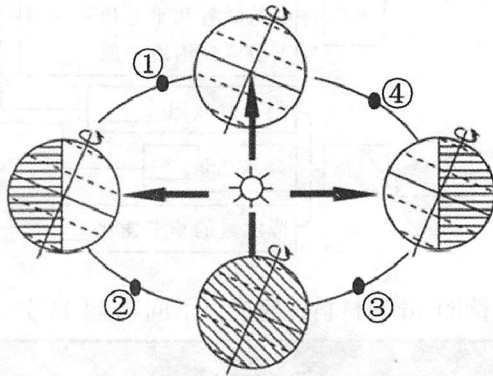


图 13

(1) 科学考察队出发至返回时段，地球运行在\_\_\_\_\_ (选择填空)

- A. ①—②—③ B. ②—③—④ C. ③—④—① D. ④—①—②

(2) 科考队选择在北半球的冬季去南极，主要因为此时南极地区\_\_\_\_\_、\_\_\_\_\_。

(3) 中国新站选址区大致位于昆仑站的\_\_\_\_\_方向。科考队将在南极先度过二分二至节气中的\_\_\_\_\_，后欢庆我国传统节日\_\_\_\_\_。

(4) 期间，科考队将面临\_\_\_\_\_、\_\_\_\_\_等严酷天气。若 3 月初科考队启航一

路向北返回祖国，途中队员们依次感受到的季节是\_\_\_\_\_，北京的昼长变化特点是\_\_\_\_\_。

32. 赞比西河连同其支流形成非洲第四大河流域，并灌溉非洲中南部的一大片土地。读图 14 和图 15 “M 城市气候资料统计图”，完成以下问题。（12 分）

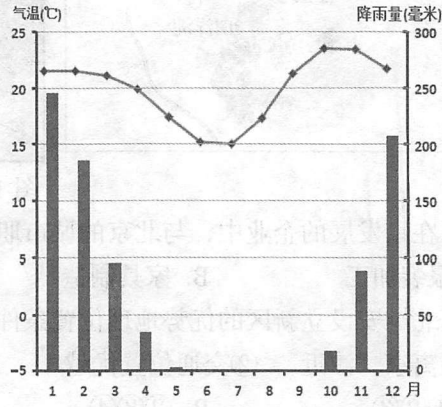
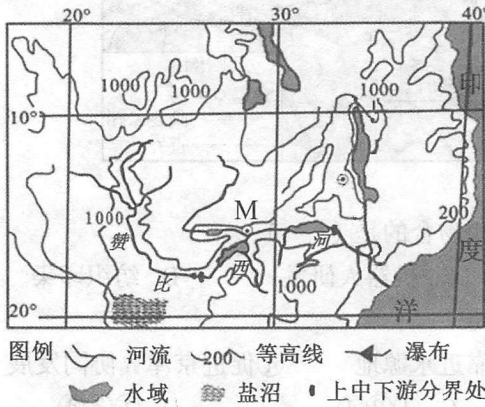
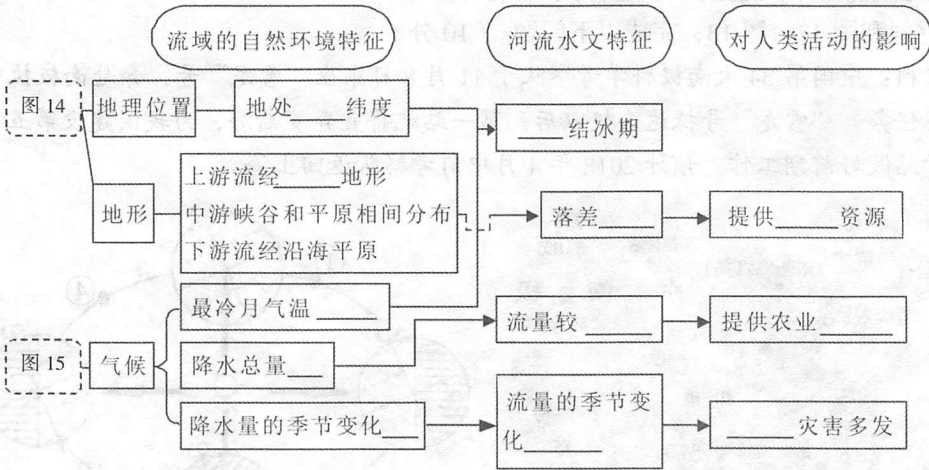


图 14

图 15



33. 读图 16 和材料，完成以下问题。（11 分）

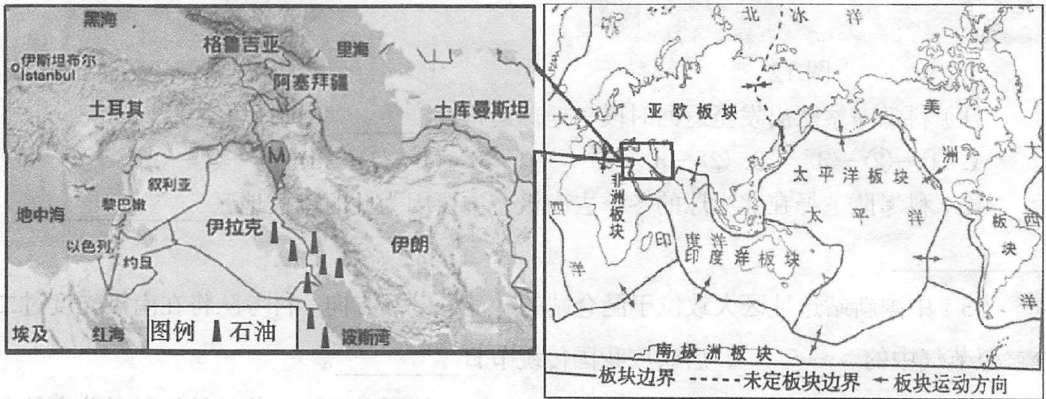


图 16

材料 1:2017 年 11 月 13 日 02 时 18 分在伊拉克 M 地 (34.90° N, 45.75° E) 发生 7.8 级地震,震源深度 20 千米。

材料 2:伊拉克国的阿拉伯人约占全国总人口的 73%,库尔德人约占 21%。该国穆斯林约占人口的 95%。该国北部库尔德地区多讲库尔德语,东部地区有些居民讲波斯语。官方语言为阿拉伯语。

(1) 伊拉克地处\_\_\_\_\_洲, M 地地震是由于该地位于\_\_\_\_\_与\_\_\_\_\_板块交界地带,地壳运动活跃。

(2) 伊拉克的主要民族是\_\_\_\_\_,主要信仰三大宗教中的\_\_\_\_\_教,国际交往中主要使用的语言是\_\_\_\_\_。

(3) 以伊拉克、伊朗等国家为主的地区有“世界石油宝库”之称,“宝库”具体指\_\_\_\_\_地区。请你列举两个以石油资源为原料的工业部门:\_\_\_\_\_、\_\_\_\_\_。

(4) 该地水资源极度匮乏,有“水贵如油”之说。请你为当地政府提供两条你认为可以缓解水资源短缺问题的切实可行的措施:\_\_\_\_\_、\_\_\_\_\_。

34. 寒假即将到来,家住北京的丁一全家计划去宝岛台湾旅游。结合图 17 和图 18,完成以下问题。(13 分)

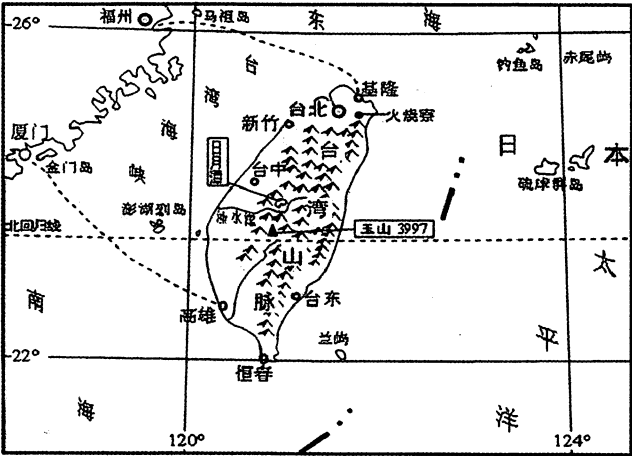


图 17

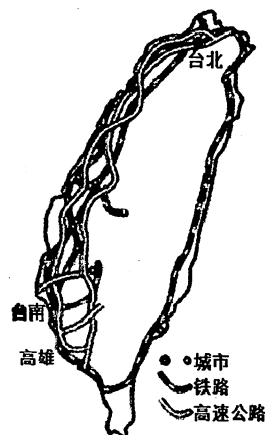


图 18

- (1) 丁一一家前住台湾岛的最快捷的交通运输方式是\_\_\_\_\_。
- (2) 丁一计划带齐短袖、春秋装、棉服等四季服装,你认为丁一做如此决定是依据了图 17 中的\_\_\_\_\_、\_\_\_\_\_等信息。
- (3) 在丁一搜集的若干资料中,有一幅台湾岛的交通图,如图 18 所示。请你根据此图概括出两条台湾岛交通运输线路的分布特点①\_\_\_\_\_、②\_\_\_\_\_。



(4) 丁一打算旅游归来时带以下四种当地的特产给亲朋好友。请你任选一种特产，说出该特产源自当地何种农产品，并从地理位置或气候或地形角度，说明当地适宜发展该农业的主要优势条件。



台湾黑糖                      凤梨酥                      金枪鱼                      阿里山茶

你选择的特产：\_\_\_\_\_；该特产源自当地农产品：\_\_\_\_\_；当地适宜发展该农业的主要条件：\_\_\_\_\_。

(5) 起初，丁一通过查阅地图，发现厦门鼓浪屿与台湾岛隔台湾海峡相望、纬度位置相近，犹豫是否将鼓浪屿作为旅游归途中的中转站。但当他查阅到下面资料后，下定决心前往游览。请你分别推断丁一犹豫前往、后又决定前往鼓浪屿游览的理由。

资料：风景名胜区鼓浪屿是国家历史文化保护街区。在 2017 年 7 月，被联合国教科文组织列入《世界遗产名录》。由于特殊的历史文化背景和得天独厚的自然条件，鼓浪屿建筑呈现出东西方文化碰撞、交融的独特形态，因而享有“万国建筑博览会”的美誉，兼具自然风景和人文环境风貌特色。



犹豫前往的理由：由于鼓浪屿和台湾岛\_\_\_\_\_，所以\_\_\_\_\_旅游资源相似。  
后又决定前往的理由：鼓浪屿\_\_\_\_\_，所以\_\_\_\_\_旅游资源独特且丰富。

35. 读“北京某景区导览图（图 19）”，完成以下问题。（9 分）

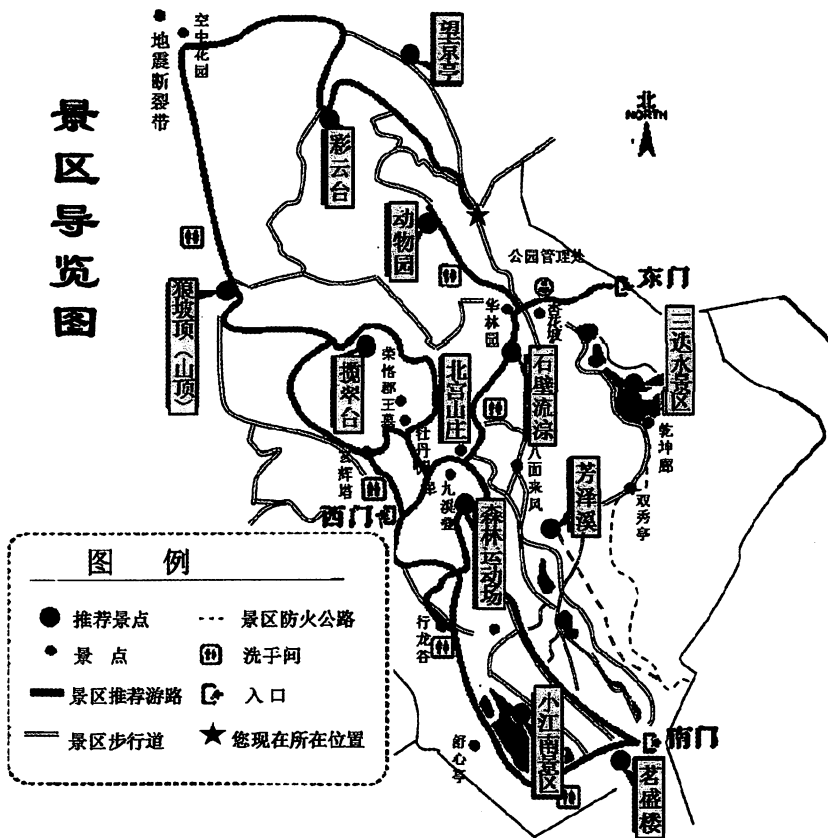


图 19

(1) 作为一幅地图，此图少了地图三要素中的\_\_\_\_\_。

(2) 某学校计划组织初一学生去该景区秋游。请你依据表格资料，推荐最适合去秋游的日期\_\_\_\_\_，并说明你的理由\_\_\_\_\_、\_\_\_\_\_、\_\_\_\_\_。

日期	某月 26 日	某月 27 日	某月 28 日	某月 29 日	某月 30 日
天气状况					
温度	-3 ~ 7℃	-5 ~ 8℃	-5 ~ 3℃	-6 ~ 4℃	-5 ~ 5℃
风向、风力	南风 微风	北风 4-5 级 阵风 7 级	南风 微风	西南风 微风	西南风 微风
空气质量	轻度污染	优	优	良	轻度污染

(3) 若从你现在所处位置出发，计划①在望京亭上一览京城风貌、②在石壁流淙寻觅或将不复存在的涓涓细流、③在地震断裂带拍摄地层照片、④在揽翠台欣赏秋日里的青松翠柏、⑤在狼坡顶感受登顶的喜悦。请你规划最合理的游览顺序\_\_\_\_\_（请按顺序填序号）。

(4) 小江南景区因湖光山色而为景区增添不少吸引力，但对于北方城市而言，到了秋冬季节，湖泊水位就会持续下降，你认为造成这种现象的原因可能有：\_\_\_\_\_、\_\_\_\_\_等。

# 丰台区 2017——2018 学年度第一学期期末练习

## 初三地理 参考答案

### 一、单项选择题（每小题 1.5 分，共计 45 分）

1	2	3	4	5	6	7	8	9	10
D	B	A	D	C	D	D	C	A	D
11	12	13	14	15	16	17	18	19	20
B	D	C	C	A	A	B	B	C	A
21	22	23	24	25	26	27	28	29	30
C	B	C	D	A	B	B	D	C	A

### 二、综合题（共计 55 分）

31. (10 分)

(1) (1 分) C

(2) (2 分) 正值暖季（相对温暖） 有极昼现象（白天长利于科考）

(3) (3 分) 东北 冬至 春节

(4) (4 分) 酷寒（低温） 大风 干燥（答出其中两条即得 2 分） 冬季-秋季-夏季-春季 昼渐长

32. (12 分)

自上往下、自左向右依次为：低 无 高原 大 水能 15℃以上 大（或约 850 毫米左右） 大 灌溉水源 大 大 旱涝

33. (11 分)

(1) (3 分) 亚 亚欧 印度洋

(2) (3 分) 阿拉伯民族 伊斯兰 阿拉伯语

(3) (3 分) 波斯湾沿岸地区 石油开采工业 石油化学工业

(4) (2 分) 制定有关水资源开发利用的法律法规、统一协调管理水资源、加强对本国居民节约用水的宣传教育、提高水资源利用率、发展节水农业、海水淡化等（合理即给 2 分）

34. (13 分)

(1) (1 分) 航空运输

(2) (2 分) 纬度位置 海拔（地形）

(3) (2 分) 以铁路和高速公路为主 环岛分布（呈环状） 西部密集，东部稀疏 不均匀等（答出其中两条即得 2 分）

(4) (4 分)

台湾黑糖 甘蔗 纬度低，地处热带，热量充足

凤梨酥 菠萝 纬度低，地处热带，热量充足

金枪鱼 海鱼 台湾岛四面环海，海洋渔业资源丰富

阿里山茶 茶叶 多山地，适宜种植茶树

(5) (4 分) 纬度位置相近、都临海 自然

被列入《世界遗产名录》，知名度高（国家历史文化保护街区，有特殊的历史文化背景，有各国特色的建筑物等） 人文

35. (9 分)

(1) (1 分) 比例尺

(2) (4 分) 28 日 天气晴朗 风小 空气质量好

(3) (2 分) ①③⑤④②或②④⑤③①

(4) (2 分) 降水少 蒸发 下渗 公园取水等（合理即给 2 分）