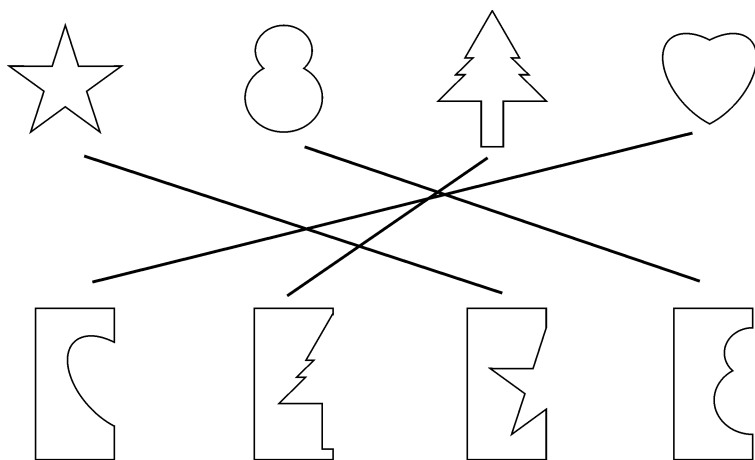


第七单元素质测评试卷

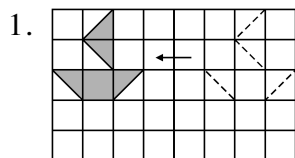
(总分:100 分 时间:90 分钟)

题 号	一	二	三	四	五	附加题	总 分
得 分							

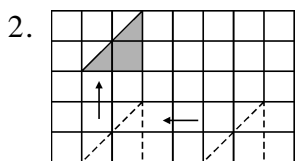
一、下面的图形各是从哪张纸上剪下来的？请你连一连。(24 分)



二、看图填一填。(24 分)



小船向(左)平移了(5)格。

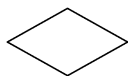


三角形先向(左)平移了(4)格,再向(上)平移了(3)格。

三、下面的图形各有几条对称轴？(24 分)



(4)条



(2)条



(1)条



(1)条



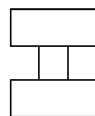
(3)条



(2)条

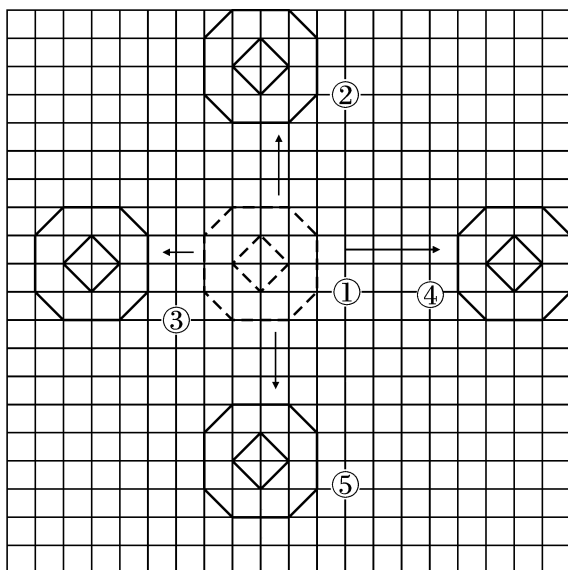


(1)条



(2)条

四、数一数,填一填。(16分)



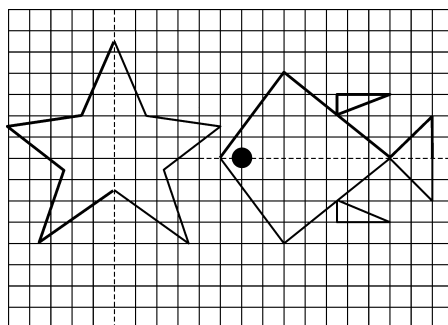
图形①向 上 平移 7 格,得到图形②;

图形①向 左 平移 6 格,得到图形③;

图形①向 右 平移 9 格,得到图形④;

图形①向 下 平移 7 格,得到图形⑤。

五、按格子中的对称轴,画出轴对称图形的另一半。(12分)



附加题。(10分)

画一画,量一量,算出下面这个图形的面积。

【答案】自己完成。

