

## 第2课时 确定位置

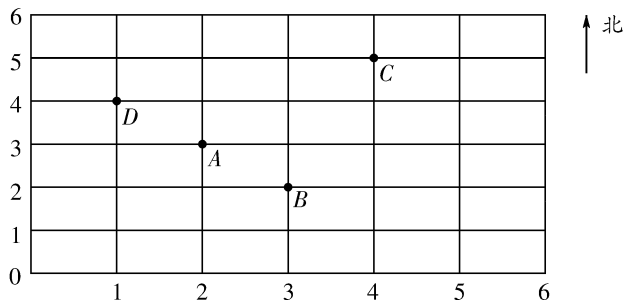


### 课前自主梳理

开心预习新课,轻松搞定基础。

1. 照样子找一找,描一描。

仔细观察下图,找出点A和点B的位置。点A的位置可以记作(2,3),点B的位置可以记作(3,2)。



(1)请你找出点C、点D的位置,并用上述方法表示点C、点D的位置。

点C的位置是(\_\_\_\_\_, \_\_\_\_\_),点D的位置是(\_\_\_\_\_, \_\_\_\_\_)。


(2)点E在(5,1),点F在(4,3),请在图上描出点E、F的位置。






### 课堂快乐提升

重难疑点,一网打尽。

2. 根据下图填空。



(1)  在第\_\_\_\_\_列第\_\_\_\_\_行,用数对表示它的位置是(\_\_\_\_\_, \_\_\_\_\_)。

(2)用数对表示  的位置是(\_\_\_\_\_, \_\_\_\_\_);用数对表示  的位置是(\_\_\_\_\_, \_\_\_\_\_)。

(3)在(4,1)位置的是\_\_\_\_\_;在(3,3)位置的是\_\_\_\_\_。

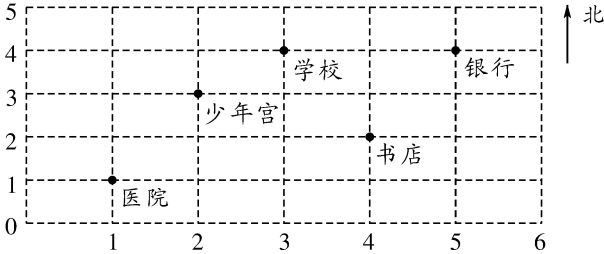
3. 联系班级实际说一说:第 1 组第 1 个同学的位置为(1,1),你自己的位置是( ),班长的位置是( ),我的好朋友\_\_\_\_\_同学的位置是( );(2,2)是\_\_\_\_\_同学的位置。



### 课后拓展冲浪

源于教材,宽于教材,拓展探究显身手。

4. 下图是少年宫附近的地图。

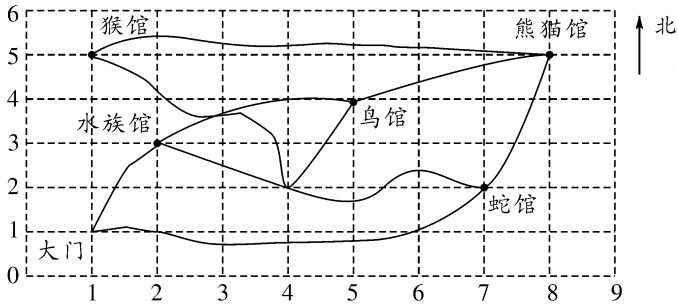


少年宫在地图上的位置是(2,3)。

地图上还有哪些建筑物?请分别写出它们的位置。



5. 下面是动物园的平面图。



(1)说一说动物园各馆的位置。

(2)现在小芳的位置是(4,2),她要到熊猫馆去,请你画出一条路线图。



### 风尚数学乐园

#### 伟大的祖国

我国陆地面积约 960 万平方千米。从东到西最长的距离约 5000 千米。从最北部到最南端相距约 5500 千米。

## 第 2 课时

1. (1)(4,5) (1,4) (2)略

2. (1)3 2 (3,2) (2)(4,3) (1,1)  
(3)小轿车 小猴

3. 略

4. 医院(1,1) 学校(3,4) 书店(4,2) 银行(5,4)

5. (1)猴馆(1,5) 水族馆(2,3) 鸟馆(5,4)  
蛇馆(7,2) 熊猫馆(8,5)

(2)略