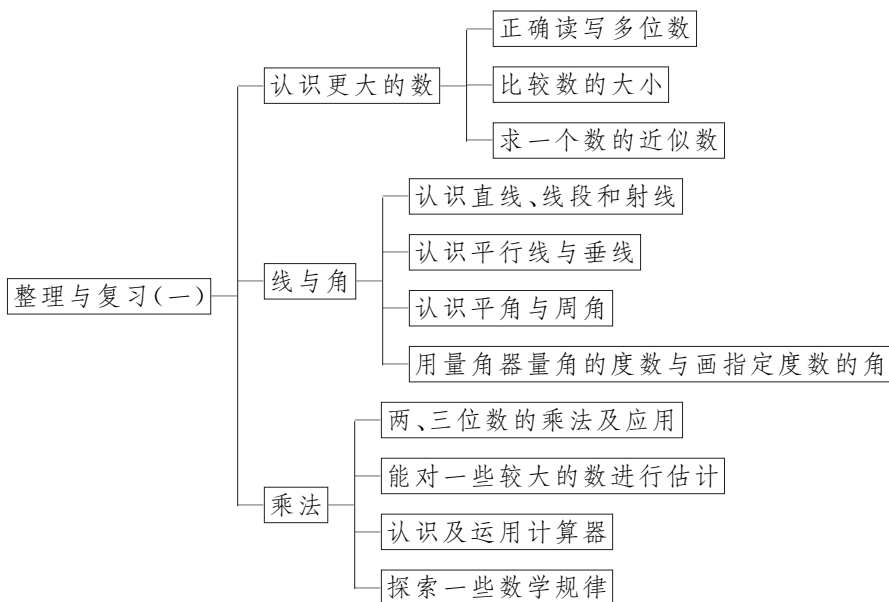


整理与复习(一)



单元知识网络



基础过关

不夯实基础,难建成高楼。

1. 填一填。

(1) 一个八位数,千万位上是 5,百万位上和百位上都是 6,其余各位都是 0,这个数是(),读作()。

(2) $3964500000 = () \text{ 万} \approx () \text{ 亿}$

(3) 把 3567000、534200、21130010、3657000 重新排列:

() $<$ () $<$ () $<$ ()

2. 画一画。

(1) 按指定的度数画角。

65°

165°

(2) 过点 A 画已知直线的平行线与垂线。

A •



(3) 画出一个长方形,并找出长方形中的平行线和垂线。

3. 算一算。

(1) 列竖式计算。

156×34

209×16

370×42

(2) 估算。

506×29

490×71

198×29

4. 水果店批发一批水果:梨 29 箱,每箱 41 元;苹果 109 箱,每箱 38 元;芦柑 211 箱,每箱 29 元。
请你估算一下,批这批水果大约需要多少元?



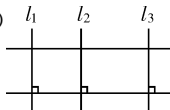
综合提升

重点难点,一网打尽。

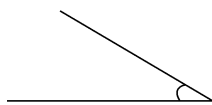
5. 填一填。

(1) $9 \times 9 = (\quad)$, $99 \times 9 = (\quad)$, $999 \times 9 = (\quad)$ 。

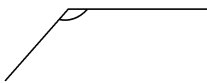
(2) $1 \times 9 + 2 = (\quad)$, $12 \times 9 + 3 = (\quad)$, $123 \times 9 + 4 = (\quad)$ 。

(3)  直线()和()互相平行;
直线()和()互相垂直。

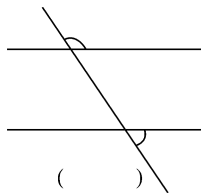
6. 量出下面各角的度数,并填在下面的()里。



()



()



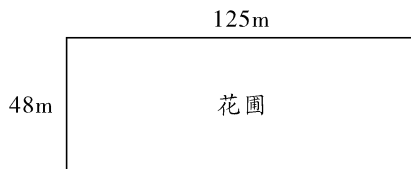
()

7. 解决问题。

(1) 一支铅笔大约重 6 克。照这样推算,1 亿支铅笔大约重多少吨?

(2) 饲养场养了绵羊 175 只,山羊的只数是绵羊的 32 倍。养了绵羊与山羊共多少只?

(3) 要在花圃的四周围上篱笆,需要多少米的篱笆? 花圃的面积是多少平方米?



开放探究

举一反三,应用创新,方能一显身手。

8. 星期六,张红和刘苗两人约定 8:35 同时从自己家去图书馆。两人沿同一个方向行走,9:00 同时到达图书馆。张红每分走 55 米,刘苗每分走 70 米。他们两家相距多少米?

整理与复习(一)

1. (1)56000600 五千六百万零六百
(2)396450 40
(3) $534200 < 3567000 < 3657000 < 21130010$
2. 略
3. (1)5304 3344 15540
(2)15000 35000 6000
4. 约 11200 元
5. (1)81 891 8991 (2)11 111 1111
(3) a 和 b a 和 l_1 (答案不唯一)
6. 略
7. (1)600 吨 (2) $175 \times 32 + 175 = 5775$ (只)
(3) $(48 + 125) \times 2 = 346$ (米)
 $48 \times 125 = 6000$ (平方米)
8. 375 米