



# 加 与 减



## 第1课时 捐书活动



### 课前自主梳理

开心预习新课,轻松搞定基础。

#### 1. 填空。

(1)在计算三位数连加时,可以从( )到( )依次计算,也可以用一个竖式计算,计算时,也要把相同的数位( ),从( )加起,哪一位上的数相加满( ),就向( )进几。

(2)估算。

$$106 + 398 + 203$$

106 接近( ), 398 接近( ), 203 接近( ), 三数的和估算结果是( )。

$$695 + 98 + 111$$

695 接近( ), 98 接近( ), 111 接近( ), 估算结果是( )。



### 课堂快乐提升

重难疑点,一网打尽。

#### 2. 用竖式计算。

$$285 + 165$$

$$425 + 297$$

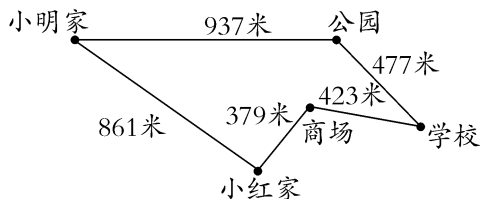
$$375 + 415 + 128$$

$$622 + 147 + 78$$

$$365 + 292 + 108$$

$$124 + 459 + 376$$

#### 3. 看图计算。


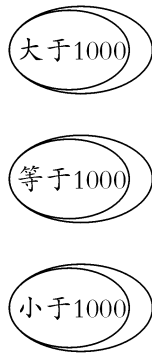



(1)小明家到学校有( )条路线。

(2)较近的那一条路线有多少米?

(3)请你提出一个用两步计算的加法问题,并解答。

4. 估一估,连一连。



### 课后拓展冲浪

源于教材,宽于教材,拓展探究显身手。

5.



69元



55元



138元



(皮靴)

109元

(1)妈妈想买一件上衣、一双皮靴,估计一下大概需要多少元钱?

(2)如果妈妈带 300 元钱,想买一件上衣、一双皮靴和一条裙子这三样东西,够吗? 如果不够,还差多少元钱?

(3)如果妈妈带 250 元钱,她最多能买哪几种商品?

6. 小明拍球 182 下,小军拍球 224 下,小丽拍球 198 下,小红拍球 241 下。

(1)哪 3 个人拍球次数合起来最多? 是多少下?

(2)哪 3 个人拍球次数合起来最少? 是多少下?

### 三 加 与 减

#### 第 1 课时

1. (1)左 右 对齐 个位 几十 前一位

(2)100 400 200 700

700 100 100 900

2. 450 722 918 847 765 959

3. (1)2 (2)1414 米 (3)略 4. 略

5. (1)250 元 (2)不够,差 16 元。 (3)略

6. (1) $224+198+241=663$ (下)

答:小军、小丽、小红合起来最多,是 663 下。

(2) $182+224+198=604$ (下)

答:小明、小军、小丽合起来最少,是 604 下。