

期末检测题(A卷)(江苏版)

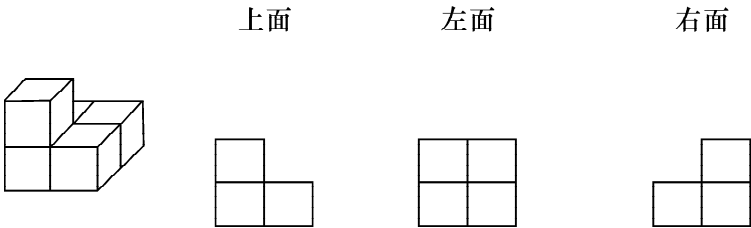
(时间:60分钟 满分:100分)

一、填一填(每空1分,共21分)

1. $348 \div 34$,把34看作()来试商,商是()位数。
2. $\square \div \triangle = 16 \cdots 16$, \triangle 最小是()。
3. 平角的2倍是()度,是()角,平角的一半是()度。
4. 在○里填上“>”、“<”或“=”。
- $80 \times 6 + 2$ ○ $80 \times (6 + 2)$ $480 \div 24$ ○ $480 \div 8 \div 3$
- $93 - 27 \div 3$ ○ $(93 - 27) \div 3$ $160 - (85 - 5)$ ○ $160 - (85 + 5)$

5. 在横线上写出每道算式所求的问题。
- 食堂运来40袋大米和30袋面粉,每袋大米和面粉是25千克。
- (1) 25×40 : _____?
- (2) $40 + 30$: _____?
- (3) $25 \times (40 + 30)$: _____?

6. 连一连。



7. 按照给定的运算顺序填括号。
- 除→加→乘 $290 + 168 \div 3 \times 15$
8. 选择“可能、一定、不可能”中的词填空。
- 明天()下雪 椅子()高2米
- 买彩票()会中奖 世界上每天()会有学生出生。

二、当回裁判(对的在括号里打“√”,错的打“×”每题1分,共7分)

1. 两条直线相交于一点,这点叫垂足。 ()
2. 被除数末尾有0,商的末尾也一定有0。 ()
3. $90 - (59 - 20) = 90 - 59 + 20$ 。 ()
4. 用一副三角尺可以拼出 135° 的角。 ()
5. 两条线段互相平行,它们也一定相等。 ()
6. 过直线外一点可以作无数条与这条直线垂直的直线。 ()
7. 3时30分,分针和时针成直角。 ()

三、择优录取(把正确答案的序号填在括号里)(每题2分,共10分)

1. $\square 35 \div 48$ 的商是两位数,被除数里的 \square 可以填的数有()种情况。
- A. 4 B. 5 C. 6
2. 两条直线相交,如果其中一个角是锐角,那么和它相邻的角是()。

A. 锐角

B. 直角

C. 钝角

3. 把“ $200 - 130 = 70$, $70 \times 12 = 840$ ”改写成综合算式是()。

A. $200 - 130 \times 12$

B. $(200 - 130) \times 12$


C. $130 \times 12 - 200$

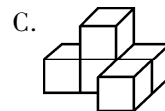
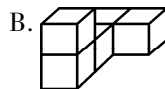

4. 角的两条边成一条(),这时所组成的角叫作平角。

A. 直线

B. 射线

C. 线段

5. 从右面看到的形状是 , 这个立体图形是()。



四、计算能手(32 分)

1. 直接写出得数。(每题 1 分,共 8 分)

$150 \div 30 =$

$14 \times 6 =$

$350 \div 5 =$

$8 \times 12 =$

$91 \div 7 =$

$400 \div 80 =$

$26 \times 3 =$

$90 \div 15 =$

2. 计算下面各题。(每题 3 分,共 18 分)

$60 + 40 \times 3$

$75 - 75 \div 5$

$720 \div 8 \times 9$

$19 \times (100 - 78)$

$(86 + 54) \div 28$

$207 - (47 - 29)$

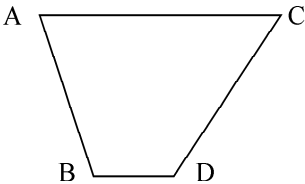
五、列综合算式计算(每题 3 分,共 6 分)

1. 165 减去 27 的差,再除以 6,商是多少?

2. 20 乘 9 除 720 的商,积是多少?

六、操作题(10 分)

- 1. 用三角尺画出 120° 和 15° 的角。(4 分)
- 2. 有一块梯形的草坪,如下图(6 分)。
 - (1)从 C 点走到对边 AD ,怎样走最近?(在图中画出来)(3 分)
 - (2)过 B 点画出 CD 边的平行线。(3 分)



七、走进生活,解决问题(每题 5 分,共 20 分)

1. 修一段 690 米长的公路,已经修了 150 米。剩下的准备 3 天修完,平均每天修多少米?

2. 6 个羽毛球装一筒,每 10 筒装一盒。720 个羽毛球要装多少盒?

3. 钵池山公园管理处计划植树 950 棵。已经栽了 4 天,每天栽 130 棵,剩下的打算用 2 天时间栽完,平均每天要栽多少棵?

4. 圆圆家去年四个季度用水情况如下表。

季度	一	二	三	四
用水量/立方米	123	178	196	163

圆圆家去年平均每月用水多少立方米?