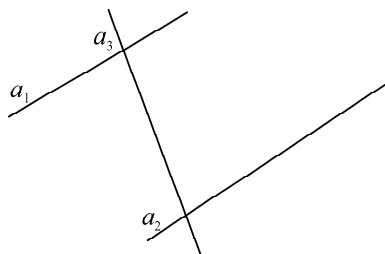


期中检测题(A卷)(青岛版)

(时间:80分钟 满分:100分)

一、填空小能手(每题2分,共24分)

- 我国在第五次人口普查时有十二亿九千五百三十三万人,写作:()人,省略“亿”后面的尾数约()亿人。
- 地球到太阳的平均距离是149600000千米,读作:()千米,改写成用“万”作单位的数是()千米。
- 最大的九位数是(),比它大1的数是()。
- 240的20倍是(),125个80是()。
- 在○里填“<”、“>”或“=”。
 $120 \times 20 \bigcirc 12 \times 200$ $500 \times 10 \bigcirc 10 \times 550$
 $16 \times 400 \bigcirc 170 \times 4$ $18 \times 24 \bigcirc 9 \times 48$
- 6公顷=()平方米 0.8平方千米=()公顷
70000平方米=()公顷 9000公顷=()平方千米
- 填上适当的单位名称。



互相平行的两条直线是()和();
互相垂直的直线是()和()。

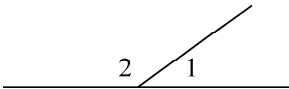
- 两个数相乘积是216,如果其中一个因数扩大10倍,积变成();如果两个因数都扩大10倍,积变成()。
- 根据 $18 \times 5 = 90$,写出下列算式的得数:
 $180 \times 5 =$ $180 \times 15 =$
 $360 \times 5 =$ $180 \times 50 =$
- 从一点引出两条(),组成的图形叫做角。用符号()表示。
- 周角是平角的(),直角是平角的()。
- 体校李老师买了102个训练用的小足球,每个48元;又买了15个比赛用的足球,每个160元。买训练用的小足球要()元,买比赛用的足球要()元。

二、选择我真行(每题2分,共16分)

- 在读40440、40044、40404、44004时只读出一个零有()个。
A. 1 B. 2 C. 3
- 一个数的近似数是45万,这个数最大是()。
A. 450000 B. 454999 C. 449999
- 4个亿、4个万、4个1组成的数是()。
A. 444 B. 400040004 C. 400040001

4. 如图, $\angle 1 = 40^\circ$, $\angle 2$ 是()。

- A. 40°
- B. 50°
- C. 140°



5. 在钟面上 3 时 30 分, 时针和分针的夹角是()。

- A. 锐角
- B. 直角
- C. 钝角

6. 250×40 的末尾有()个“0”。

- A. 2
- B. 3
- C. 4

7. 长方形互相平行的边是()。

- A. 邻边
- B. 对边
- C. 四边

8. 下面说法正确的是()。

- A. 读数时连续的几个 0 都不读
- B. 角的两条边叉开越大, 角就越大
- C. 一个乘数扩大 100 倍, 积也扩大 100 倍

三、计算小神童(每题 3 分, 共 18 分)


$325 \times 43 =$ $506 \times 21 =$ $560 \times 15 =$

$605 \times 29 =$ $213 \times 45 =$ $320 \times 30 =$

四、巧手欢乐园(第 1、2 题各 2 分, 其余每题 3 分, 共 13 分)

1. 用你喜欢的工具画出 135° 的角。

2. 量出点 A 到直线的距离。



3. 按要求填表。

原数	要求	
4879507	省略百后面的尾数	
	省略千后面的尾数	
	省略万后面的尾数	

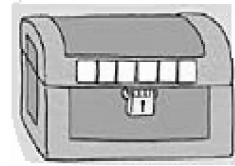
4. 把下面的各数从小到大连起来。

65000 610000 64999 605000 62 万

5. 你能根据以下线索找出密码箱的密码吗?

(1) 密码是六位数。

(2) 在 800000 ~ 900000 之间, 十位上的数是个位的 3 倍, 百位上的数是十位的 3 倍, 千位和万位上数是最小的自然数。



五、生活中的数学(第 1 题 5 分, 其余每题 6 分, 共 29 分)

1. 刘叔叔去买化肥。每袋化肥 32 元, 刘叔叔买了 106 袋, 刘叔叔带了 3400 元够吗?
2. 十月是学校环保月。四年级平均每天搜集了 120 节废电池, 四年级十月份一共搜集了多少节废电池?
3. 学校买来 140 盆百合花, 买的杜鹃花比百合花的 12 倍还多 25 盆。杜鹃花有多少盆?
4. 从北京到天津, 开小汽车每小时行 80 千米, 3 小时可以到达。开大货车要 5 小时才能到达, 大货车每小时行多少千米?
5. 有一批货物至少要 12 节车厢才能装走。这批货物至少有多少吨? (货物的重量是整吨数, 每节车厢一般装 60 吨)