

第八单元达标测试卷


说明：满分100分，考试时间60分钟。

题号	一	二	三	四	五	六	七	八	九	十	十一	总分
得分												


一、填一填。(14分)

- 钟面上有()个数,有()个大格。
- 钟面上较短的针是()针,较长的针是()针。
- 时针指在 1 和 2 中间,分针指向 6,这时是()。
- 现在 5 时,1 小时前是()时,2 小时后是()时。
- 奶奶每天中午 1 时开始午睡,3 时醒来,奶奶每天午睡()小时。
- 看图填一填。


(1)



(2)



(3)



- 现在是 5:00,1 小时前是(),1 小时后是()。
- 右边是同学们参观博物馆结束的时间,已知参观用了 2 小时,则他们是()时开始参观的。



【考点提示】

考查学生认识钟面的情况。

【解题思路】

1 • 钟面上要 12 个数有 12 个大格

2 • 钟面上较短的针是时针,较长的针是分针。

3 • 时针指在 1 和 2 中间分针指向 6,这时是 1 时半。

4 • 5 时的前面 1 小时是 4 时,5 时后面两小时是(5+2)是 7 小时。

5 • 时针走 1 大格是 1 小时,时针从 1 走到 3 走了两大格是几小时呢?

6 • (1) • 分针指着 6,时针走过几时就是几时 30 分。

(2) • 分针指着 12 时针指着几就是几时整。




(3) • 分针指着 6,时针走过几时就是几时 30 分。

7 • 按数的顺序来做此题,5 得前面是 4,5 后面是 6。

8 • 钟面上时间是 6 时整,按数的顺序推出 6 前面的第 2 个数是 4(也可以往前数两个大格)

【参考答案】详见本卷第 85 页

二、判一判。(对的画“√”,错的画“×”)(6 分)



【考点提示】

考查学生对钟表知识的掌握情况

【解题思路】

图 1 分针指者 6, 时针过了几时就是几时 30 分。

图 2、图 3 分针指着 12, 时针指着几就是几十整。

图 4 分针过了 12, 时针指着几就是刚过几时。

【参考答案】详见本卷第 85 页

三、在正确答案下面的()里画“√”。(6 分)


1. 谁起得最早?



()



()



()

2. 小明 12 时从家出发, 1 小时后到达奶奶家。找出到达奶奶家的时刻。



()



()



()



()

【考点提示】

考查学生用钟表的知识来解决生活当中的实际问题。

【解题思路】

1 • 看情景图根据钟表的知识并按数的顺序来判断。谁起得最早。

2 • $1 \text{ 时} = 60 \text{ 分}$ 时针走一大格是 1 小时。分针正好走一圈。

【参考答案】详见本卷第 85 页

四、下面是小明的活动情况,你知道分别是什么时间吗? 连一连。(6 分)



【考点提示】

考查学生的生活常识与数学联系的掌握情况。

【解题思路】

根据学生的日常作息来判断时间并连一连,可按是早上、中午、下午在干什么的时间来连线。

【参考答案】详见本卷第 85 页

五、在下面的钟面上画出时针或分针。(12 分)



10 时



12:00



6 时



9:00



3 时



1:00

【考点提示】

考查学生掌握钟表的情况。

【解题思路】

钟面上的短针是时针，长针是分针。长的分针指着 12，短的是时针指着几就是几时整。

【参考答案】详见本卷第 85 页

六、认一认，读一读。（8 分）



:



:



:



:

【考点提示】

考查学生掌握几时几分的读法、写法情况。

【解题思路】

观察钟面应先看时针再看分针，先判断是几时几分。写作是数字，读作是数字和汉字。例如图 1 写作:4:00 读作 4 时

【参考答案】详见本卷第 85 页

七、按要求填时间。（12 分）



1 小时前是()。



2 小时前是()。



3 小时前是()。



1 小时后是()。



2 小时后是()。



3 小时后是()。

【考点提示】

考查学生的逻辑思维能力。

【解题思路】

按数的顺序来判断出几时的前、后是什么时间或用数大格的方法来推出时间。例如：图 1 是 9 时，1 小时前的时间是 8 时

【参考答案】详见本卷第 85 页

八、学校组织同学们开展“敬老扶老”活动，4 个小队的同学 12 时同时从学校出发，下面是每个小队到达目的地的时间，请你根据他们到达的先后顺序给他们排序。（10 分）



第 1 小队



第 2 小队



第 3 小队



第 4 小队

【考点提示】


暂无提示

【解题思路】

按数的顺序，来判断时间的顺序，注意要先按照时针的顺序来排。

【参考答案】详见本卷第 85 页

九、观察钟面上的时针和分针的变化，你能画出最后一个钟面上的时针和分针吗？（5 分）



【考点提示】


考查学生的观察能力和思维逻辑能力。

【解题思路】

先说出每个钟面上的时间，再看每两个钟面时间相隔了几时几分，再推出最后一个钟面上的时间，最后再画出来。

【参考答案】详见本卷第 85 页

十、解决问题。(15 分)

1. 小红从家到学校要走半小时，她  上课，最迟什么时候从家出发才不会迟到？(5 分)

【考点提示】



考查学生用钟表的知识来解决生活当中遇到实际问题的能力。

【解题思路】

8 时上课从家到学校走 30 分钟，所以最迟要提前 30 分钟出发。那是几时几分出发呢？

【参考答案】详见本卷第 85 页

2. 小明从家里出发，走了 1 小时，到达外婆家是 4 时，在他出发的时间上画“√”。(5 分)





【考点提示】

暂无提示

【解题思路】

小明到达外婆家时 4 时,路上走了 1 小时,就想 4 时前面是几时?

【参考答案】详见本卷第 85 页

3. 有一天,爸爸要小军  到公园门口去等他,小军到公园门口时看了一
下表,正好是 。请问小军迟到了吗?(5 分)

【考点提示】


暂无提示


【解题思路】

看爸爸要小军几时几分到公园门口去等他,再看小军到的时间是几时几分,
再判断小军是否迟到。


【参考答案】详见本卷第 85 页

十一、小狗和小老鼠要来试试你的眼力如何?(6 分)





下面哪个钟是坏的,
在□里画“○”。



【考点提示】

考查学生是否认识钟表。

【解题思路】

分针指着 12 时,时针指着几就是几时整。当分针从 12 走到 6 走了 30 分钟。
时针也要走到两个数的中间是几时 30 分。

【参考答案】详见本卷第 85 页