

2017-2018 学年第一学期越秀区 二年级数学期末水平测试

(90 分钟, 满分 100 分)

学生姓名: _____ 完成时间: _____ 得分: _____

一、算一算

1. $4 \times 5 = 20$ $5 \times 8 = 40$ $7 \times 2 = 14$ $1 \times 6 = 6$
 $3 \times 3 = 9$ $2 \times 4 = 8$ $8 \times 1 = 8$ $6 \times 4 = 24$
 $9 \times 7 = 63$ $6 \times 8 = 48$ $4 \times 7 = 28$ $9 \times 2 = 18$
2. $3 \times 5 + 6 = 21$ $6 \times 7 - 4 = 38$ $5 \times 5 - 5 = 20$ $4 \times 7 + 7 = 35$

3. 用竖式计算下面各题。

- (1) $44 + 37 = 81$ (2) $62 - 57 = 5$ (3) $80 - 12 = 68$

$$\begin{array}{r} 44 \\ + 37 \\ \hline 81 \end{array}$$

$$\begin{array}{r} 62 \\ - 57 \\ \hline 5 \end{array}$$

$$\begin{array}{r} 80 \\ - 12 \\ \hline 68 \end{array}$$

- (4) $22 + 29 + 38 = 89$ (5) $74 - 16 - 25 = 33$ (6) $74 - 19 + 25 = 80$

$$\begin{array}{r} 22 \\ + 29 \\ \hline 51 \\ + 38 \\ \hline 89 \end{array}$$

$$\begin{array}{r} 74 \\ - 16 \\ \hline 58 \\ - 25 \\ \hline 33 \end{array}$$

$$\begin{array}{r} 74 \\ - 19 \\ \hline 55 \\ + 25 \\ \hline 80 \end{array}$$

$$\begin{array}{r} 51 \\ + 38 \\ \hline 89 \end{array}$$

$$\begin{array}{r} 58 \\ - 25 \\ \hline 33 \end{array}$$

$$\begin{array}{r} 55 \\ + 25 \\ \hline 80 \end{array}$$

4. 在○里填上“>”、“<”、“=”

$3 \times 4 \bigcirc 3 + 4$ $6 \times 1 \bigcirc 6 + 1$ $4 \times 5 + 5 \bigcirc 6 \times 5 - 5$ $7 \times 3 + 8 \bigcirc 8 \times 4 - 2$

【答案】>； <； =； <

【解析】 $3 \times 4 = 12, 3 + 4 = 7$; $6 \times 1 = 6, 6 + 1 = 7$; $4 \times 5 + 5 = 25, 6 \times 5 - 5 = 25$; $7 \times 3 + 8 = 29, 8 \times 4 - 2 = 30$.

二、填一填。

1. 两个加数分别是 5 和 9, 和是 (14); 两个乘数分别是 5 和 9, 积是 (45)。

【解析】 $5+9=14$ ； $5\times 9=45$ 。

2.



图中有（6）个（3）。

求一共有几根胡萝卜，用加法列式计算是（ $3+3+3+3+3+3=18$ ）。

用乘法列式计算是（ $6\times 3=18$ ）

3.用口诀“四九三十六”，可以写出乘法算式（ $4\times 9=36$ ）和（ $9\times 4=36$ ）

4.下面（ ）里的数最大能填几？

$$6\times (6)<40$$

$$(2)\times 9<27$$

$$44>7\times (6)$$

【解析】 $6\times 6=36, 6\times 7=42>40$ ，故答案是 6 $2\times 9=18, 3\times 9=27$ ，故答案是 2， $7\times 6=42, 7$

$\times 7=49>44$ ，故答案是 6

5.在（ ）里填上合适的长度单位。

学校跑道长 60（米）。

姐姐的辫子长 60（厘米）

6.写出下面钟面的时间



（1:20）



（5:35）



（7:05）

7. 一共有几朵？看图写算式。



$$5\times 4+4=24$$

或

$$5\times 5-1=24$$

【解析】5 朵花的有 4 束，4 朵花的有一束。那么则有： $5\times 4+4=24$

也可以把最后一束先当成 5 朵花计算之后再减去一朵，则有： $5\times 5-1=24$

8.有 3 个数 5、7、9，任意选取其中 2 个写乘法算式，能算出（3）个不同的积


【解析】枚举即可。分别有： 5×7 ； 5×9 ； 7×9 。

三、量一量，填一填。

1.量一量，下面的线段分别长几厘米。



() 厘米



() 厘米

【答案】略

【解析】直接用尺子测量即可

2. 下面的角只画了一半，请按要求将它们画完整。

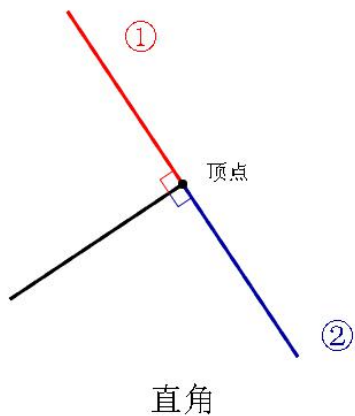


直角



钝角

【答案】



直角



钝角

【解析】1 题，两种方法，任意画出一种即可

2 题，两条线之间的夹角大于 90° 即可

四、想一想，辨一辨。

1. 三位小朋友看到的大象是怎样的，请连一连。(10 分)



【答案】



【解析】小红站在大象的右侧，可以看见大象大象的全身，小红的左手边是大象的尾部，右手边是大象的头部。

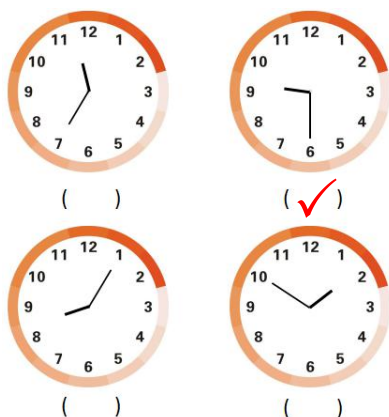
小宁站在大象的正前方，可以看见大象的头部和前腿。

小强站在大象的左侧，可以看见大象大象的全身，小强的左手边是大象的头部，右手边是大象的尾部。

2.钱包是什么时候不见的，请在下面画“✓”。



【答案】



【解析】根据员工的说法，钱包八点半的时候还在书架上，根据大侦探的说法，钱包在十一时十分之前就不见了，所以钱包不见的时间应该在八点半之后，十一时十分之前，结合四个选项，钱包应该是在九点三十分左右不见的，选第二个选项。

五、用一用。

1. 右边这种鸡蛋能装 6 枚鸡蛋，妈妈买来一些鸡蛋，刚好装满 7 盒，妈妈买来多少枚鸡蛋？

答：妈妈买来（ ）枚鸡蛋。

【答案】 $6 \times 7 = 42$ （枚） 答：妈妈买来 42 枚鸡蛋。

【解析】每盒装 6 枚，总共 7 盒，相当于 $6+6+6+6+6+6+6$ 也就是 6×7 ，总共 42 枚。

2. 池塘岸边有 18 只青蛙，水里的青蛙比岸上少 5 只，水里有几只青蛙？水里和岸上一共有几只青蛙？

答：水里有（ ）青蛙，水里和岸上一共有（ ）只青蛙。

【答案】 $18 - 5 = 13$ （只） $13 + 18 = 31$ （只）

答：水里有 13 只青蛙？水里和岸上一共有 31 只青蛙。

【解析】水里的青蛙比岸上少 5 只，少，应该用减法，也就是 $18 - 5 = 13$ （只），也就是说水里有 13 只青蛙，水里有 13 只，岸上有 18 只，一共就是求和，即 $18 + 13 = 31$ （只），一共有 31 只。

3. 二年（1）班有 39 人，二年（2）班有 36 人，他们在排队等候上车，一辆大巴来了，接走了 48 人，还剩下多少人在等车？

答：还剩下（ ）人在等车。

【答案】 $39+36=75$ （人） $75-48=27$ （人）

答：还剩下 27 人在等车。

【解析】可以先计算两个班一共有多少人，总共的人数减去拉走的，就是剩下的人数。

4. 小莹按照妈妈给的书单去书店买书，

她带了 50 元，够吗？

答：够 ☐ 不够 ☐

《成语故事》	8 元
《古代神话精选》	8 元
《故事会》	6 元
《新编儿童通话（上）》	8 元
《新编儿童通话（下）》	8 元
《葫芦兄弟（绘本）》	8 元

【答案】 $8+8+6+8+8+8=46$ （元） $50>46$ 即“够”

答：带了 50 元，够买书单上的书。

【解析】想要知道够不够，算出要买的书单上的书的总价即可，总价小于或者等于 50 时，小莹带的钱足够，总价大于 50 则小莹带的钱不够，经计算，书单上的总价是 46 元，小于 50，那么小莹带的钱足够买书单上的书。