

# 第三单元素质测评试卷

(总分:100分 时间:60分钟)

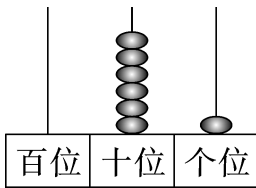
题号	一	二	三	四	五	六	七	八	九	附加题	总分
得分											



填空我最棒。(22分)

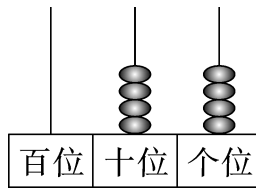
1. 9个十和6个一组成的数是( **96** )。
2. 3个十组成的数是( **30** )。
3. 38里面有( **3** )个十和( **8** )个一。
4. 44里面有( **4** )个十和( **4** )个一。
5. 75个位上的数字是( **5** ),表示( **5个一** );十位上的数字是( **7** ),表示( **7个十** )。
6. 50个位上的数字是( **0** ),十位上的数字是( **5** )。
7. 一个两位数,十位上的数字和2相邻,并且比2小,个位上的数字是最大的一位数,这个数是( **19** )。
8. 一个两位数,十位上的数字比个位上的数字大4,这个两位数是( **84** )。(答案不唯一)
9. 100里面有( **10** )个十,它是( **三** )位数。
10. 50前面的第二个数是( **48** )。
11. 68后面的第五个数是( **73** )。
12. 45在( **44** )和( **46** )的中间。
13. 从( **10** )到( **99** )都是两位数。

## 二、读一读，写一写。(12分)



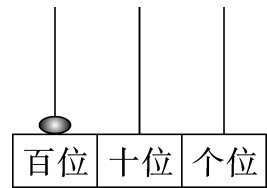
读作：六十一

写作：61



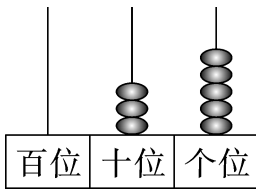
读作：四十四

写作：44



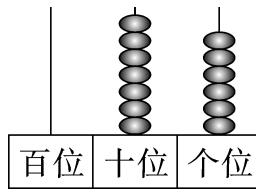
读作：一百

写作：100



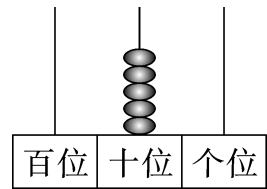
读作：三十五

写作：35



读作：七十六

写作：76



读作：五十

写作：50

## 三、我是小法官。(对的画“√”，错的画“×”)(8分)

- 84 读作八四。 ( × )
- 1 个十比 9 个一大。 ( √ )
- 个位上的 5 和十位上的 5 表示的意义相同。 ( × )
- 五十七写作 75。 ( × )

## 四、把数送回家。(12分)

29   16   35   24   26   36

56   21   18   45   86   64

16   26

36   56

86

个位上的数字是6的数。

29   16   24

26   21   18

小于30的数。

## 五、找规律,填一填。(10分)

1. 89, 90, 91, 92, 93, 94, 95, 96, 97。

2. 32, 42, 52, 62, 72, 82, 92。

3. 31, 33, 35, 37, 39, 41, 43。

4. 10, 20, 30, 40, 50, 60, 70。

5. 98, 88, 78, 68, 58, 48, 38。

## 六、写出与下面各数相邻的数。(12分)

33 34 35

59 60 61

70 71 72

87 88 89

28 29 30

62 63 64

77 78 79

10 11 12

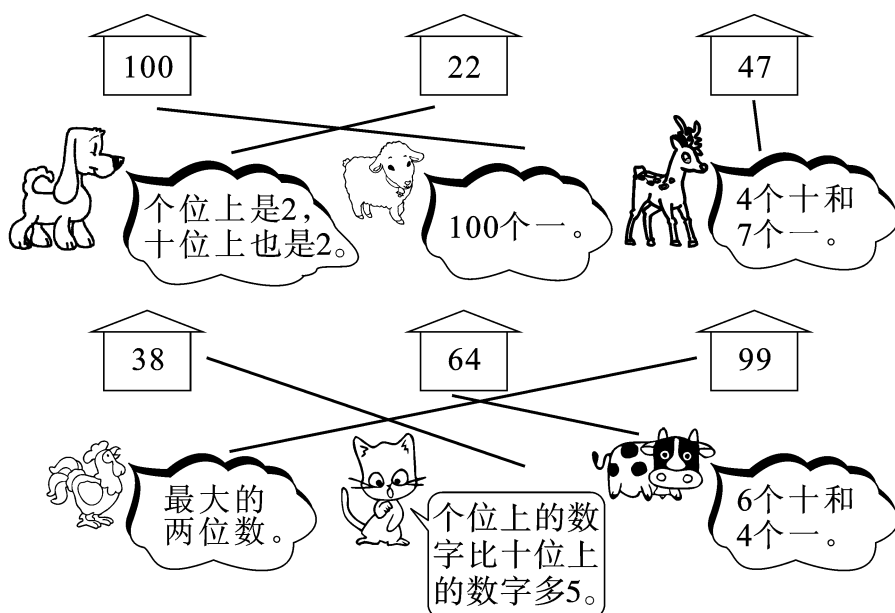
53 54 55

24 25 26

41 42 43

95 96 97

## 七、送小动物回家。(连一连)(12分)



## 八、将下列各数按从小到大的顺序排一排。(4分)

98 85 46 58 21 64 55 27

【答案】 $21 < 27 < 46 < 55 < 58 < 64 < 85 < 98$

## 九、解决问题。(8分)

### 1. 拔萝卜。(2分)



小灰兔可能拔了多少个萝卜?(画“○”)

23 个	29 个	62 个
		○

### 2. 学校举行拍球比赛,婷婷拍了68下。(6分)



乐乐可能拍了多少下?(画“△”)

超超可能拍了多少下?(画“○”)

74 下	21 下	100 下	60 下
△	○		

## 附加题。(10分)

用 

9
---

4
---

5
---

 三张数字卡片可以组成哪些两位数? 请你写出来。

【答案】可以组成 94, 95, 49, 45, 54, 59。