

第四单元素质测评试卷

(总分:100分 时间:60分钟)

题号	一	二	三	四	五	六	七	八	九	十	附加题	总分
得分												

一、算一算,填一填。(18分)

$\square 16-9=7$

$\square 15-9=6$

$\bigcirc 13-9=4$

$\triangle 7+4=11$

$\square 5+8=13$

$\square 6+7=13$

$\bigcirc 14-8=6$

$\triangle 17-8=9$

$\triangle 14-8=6$

$\bigcirc 17-7=10$

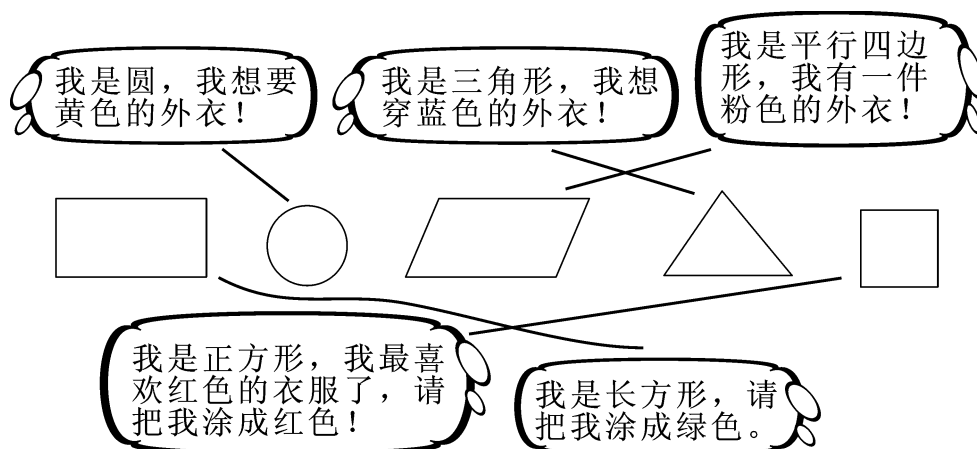
$\square 15-6=9$

$\square 13-3=10$

一共有()个图形,我得到了()个,其中,正方形有()个,三角形有()个,圆有()个,长方形有()个。

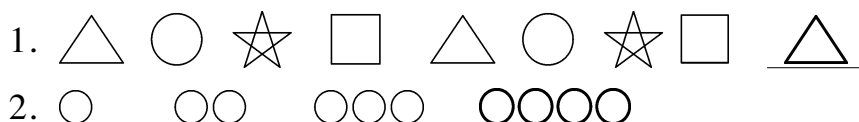
【答案】自己填一填。

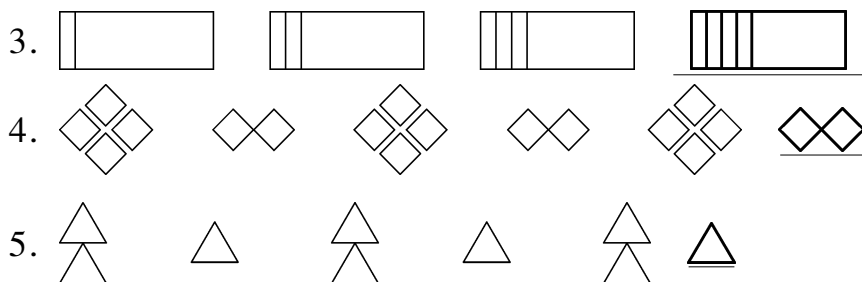
二、涂一涂,连一连。(5分)




【答案】自己涂一涂。

三、想一想,请你接着画下去。(15分)

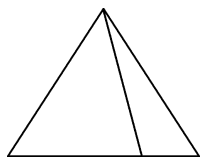




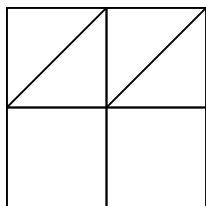
四、数一数。(10 分)



上图中有(**3**)个长方形。



上图中有(**3**)个三角形。

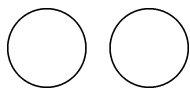


左图中正方形一共有(**5**)个；

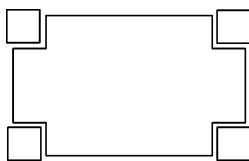
长方形一共有(**4**)个；

三角形一共有(**4**)个。

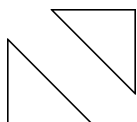
五、下面各组图中,(**B**)能直接组成一个长方形。(4 分)



A



B

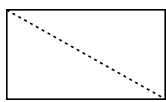


C

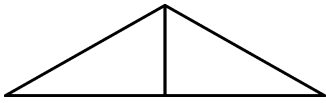
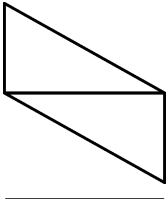


D

六、把一些同样大小的长方形纸剪成三角形,你能用这些三角形拼出哪些图形?试着画在下面。(10分)




我拼的图形:



(拼法不唯一)

七、数一数,填一填。(8分)

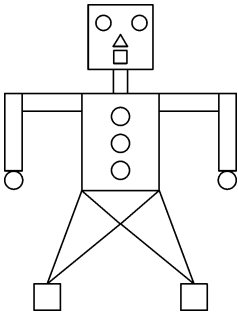


圆	正方形	长方形	三角形
(4)个	(2)个	(3)个	(2)个

八、先涂一涂,再填空。(11分)



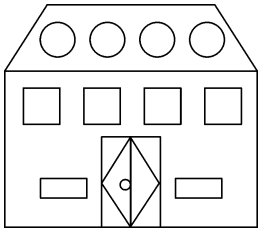
1.



(1)左图中长方形共有(6)个,正方形共有(4)个,三角形共有(6)个,圆共有(7)个。

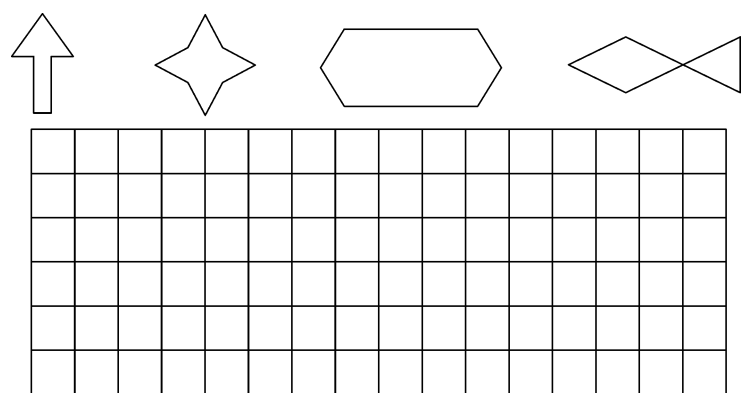
(2)长方形的数量和圆相比,(圆)比较多,多(1)个,正方形和三角形一共有(10)个。
(自己涂一涂)

2.



左图中正方形有(4)个;
长方形有(6)个;
三角形有(6)个;
圆有(5)个。

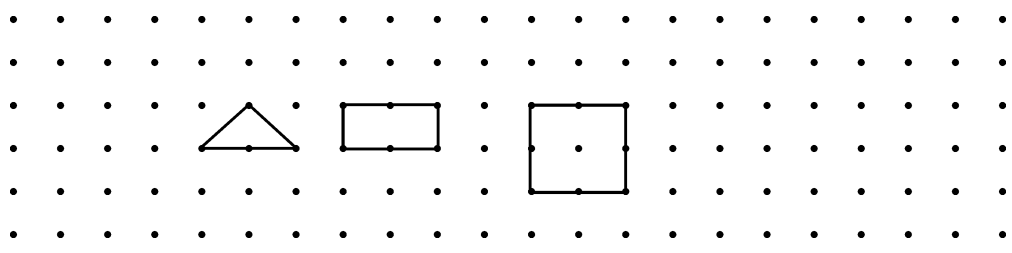
九、在方格纸上画出下面的图形。(8 分)



【答案】自己画一画。

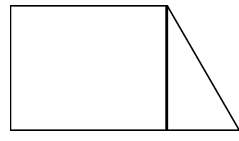
十、按要求完成下面各题。(11 分)

1. 在下面的点子图上画△、□和□。(6 分)



(画法不唯一)

2. 把下面的图形用一条线段分成一个长方形和一个三角形。(5 分)



附加题。(10 分)

把能拼成一个完整的圆的图形用线连起来。

