

第一单元《两位数乘两位数》检测题(A卷)(江苏版)

(时间:60分钟 总分:100分)

一、计算(共34分)

1. 直接写得数(每小题0.5分,共10分)

$32 \times 30 =$	$11 \times 50 =$	$20 \times 40 =$	$57 - 19 =$
$40 \times 5 =$	$37 + 8 =$	$40 \times 21 =$	$90 \div 3 =$
$120 \times 3 =$	$630 \div 3 =$	$25 \times 40 =$	$8 \times 50 =$
$30 \times 13 =$	$60 \times 50 =$	$62 \times 0 =$	$12 + 20 =$
$30 \times 23 =$	$40 \times 50 =$	$24 \div 2 =$	$400 \div 2 =$

2. 用竖式计算,带★要验算(计算并验算4分,其余每题3分,共20分)

$46 \times 38 =$	$65 \times 80 =$	★ $56 \times 29 =$
$60 \times 37 =$	$78 \times 65 =$	$820 \div 6 =$
$49 \times 78 =$	$52 \times 37 =$	$80 \times 45 =$

3. 估一估,并把得数比3000小的算式圈起来(4分)

46×62	39×62	71×42
82×68	99×18	78×53

二、填空(第6题4分,其余每题2分,共18分)

1. 49×28 的积是()位数,积大约是()。
2. 30个22是(), () $\div 6 = 10 \cdots 5$
3. 一张作文纸共21行,每行18个格子。这张纸一共大约有()个格子。
4. 李师傅平均每天加工10个零件,二月份工作22天能加工()个零件。
5. 50个20相加得();1乘360得()。

6. 在○里填上“>”、“<”或“=”。

43×24 ○ 18×39	79×11 ○ 23×68
76×12 ○ 12×76	22×15 ○ $22 \times 3 \times 4$

7. $28 \times 4 \times 4 = 28 \times ()$ 。

8. 41×59 的积大约是()。

三、选择(每题只有一个正确答案)(每题2分,共14分)

1. 一个正方形的边长是20厘米,周长是()。
A. 120厘米 B. 80厘米 C. 60厘米
2. 得数比1800大,比2800小的算式是()。

- A. 29×53

B. 76×49

C. 37×65
3. 最大的两位数与最小的两位数的积是(),差是()。

A. 99

B. 990

C. 100

D. 89
4. 估计 12×63 的答案可能是正确的是()。

A. 586

B. 756

C. 1536
5. 伟良钨业公司去年平均每月节约用电 20 度,照这样计算,一年共节约用电()度。

A. 240

B. 120

C. 420
6. 大华超市平均每天要用电 60 度,30 天一共要用电()度。

A. 180

B. 1800

C. 1860
7. 下面算式()的得数大约是 3000。

A. 39×92

B. 52×58

C. 26×85

四、连一连(4 分)

- 59×76

得数比 1200 小,比 600 大。
- 37×65

得数比 3500 大,比 4800 小。
- 75×43

得数比 2800 小,比 1800 大。
- 32×28

得数比 2800 大,比 4000 小。

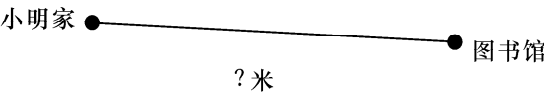
五、把下面表格填完整(每空 2 分,共 8 分)

商品名称	计数器	文具盒	书包	笔记本
单价		18 元	56 元	8 元
数量	9 只	54 个	72 个	
总价	288 元			256 元

六、解决问题(22 分)

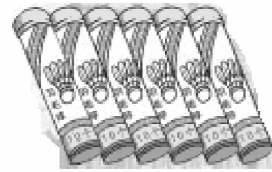
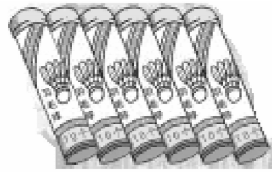
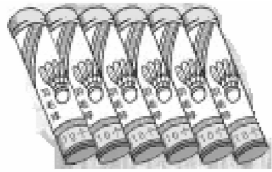
1. 抄一篇 850 字的作文,用每页 22 行,每行 21 个格子的作文纸抄,抄 2 页纸够吗?如果够,多几个格子? 如果不够,少几个格子? (3 分)

2. 小明从家去学校每分钟走 30 米,他去图书馆用了 12 分钟,小明家离图书馆有多远? (3 分)



3. 一共有 4 个工人组装电脑, 平均每人每天组装 7 台电脑, 他们 5 天一共能组装多少台? (用两种方法解答)(6 分)

4. 每筒羽毛球有 12 个, 每筒 28 元。



(1) 这些羽毛球一共有多少个? (3 分)

(2) 买这些羽毛球一共要多少钱? (3 分)

5. 24 位老师带 12 个班的同学去春游, 平均每班 36 人。一共租了 10 辆大客车, 每辆有 45 个座位。车上的座位够吗? (4 分)