


第三单元 达标测试卷

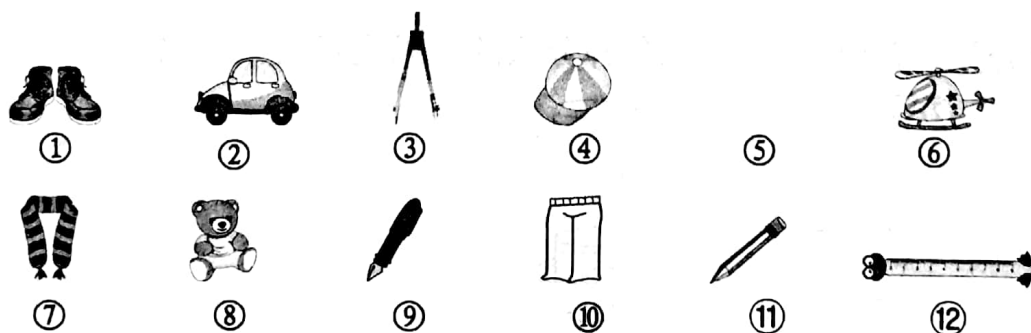
时间:90 分钟 满分:100 分

题号	一	二	三	四	五	六	七	总分	智慧园
得分									

xià miàn měi zǔ zhōng yǒu qí tā sān gè bù tóng de shì nǎ yí gè bǎ tā quān qǐ lái
一、下面每组中与其他三个不同的是哪一个? 把它圈起来。
(16 分)



gěi xià miàn de wù pǐn fēn lèi tián xù hào
二、给下面的物品分类。(填序号)(12 分)



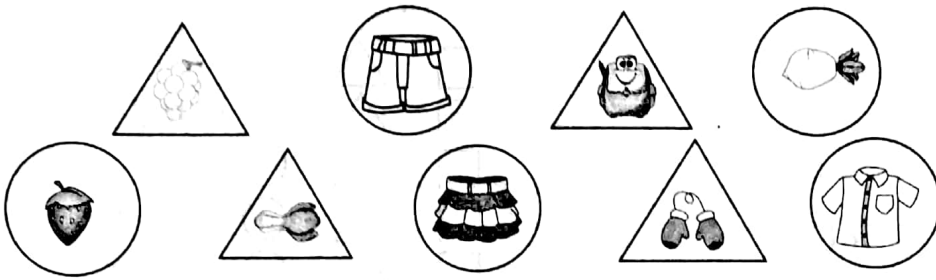
生活用品

玩具

学习用品

kàn tú fēn yī fēn tián yì tián

三、看图分一分，填一填。(16分)



按存放位置把分类的结果整理在表中。


个数		

按形状把结果整理在下表中。

个数		

fēn yī fēn

四、分一分。(16分)




我按动物的生活习性分类：
在空中飞的：_____
在陆地跑的：_____

我按腿的条数分类：
2条腿的：_____
4条腿的：_____

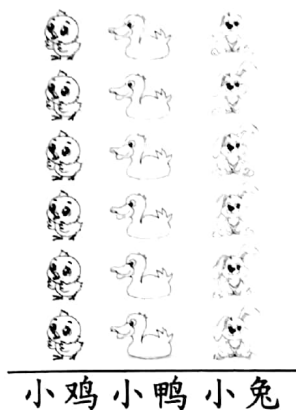


qǐng nǐ bāng míng míng bǎ wán jù xiāng zhōng de kǎ piàn fēn yī fēn

五、请你帮明明把玩具箱中的卡片分一分。(12分)



1. 按小动物的种类分一分，
在下面涂一涂，填一填。(6分)

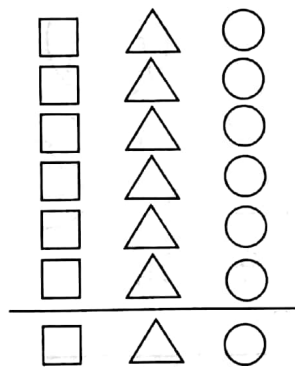


() 只

() 只

() 只

2. 按卡片的形状分一分，
在下面涂一涂，填一填。(6分)




() 个


() 个

() 个

bǎ xià miàn de pū kè pái àn yāo qiú fēn yī fēn tú yì tú tián yì tián
六、把下面的扑克牌按要求分一分，涂一涂，填一填。(12分)

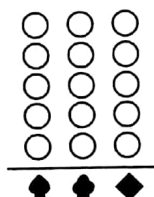


1. 按数字的大小分。(6分)



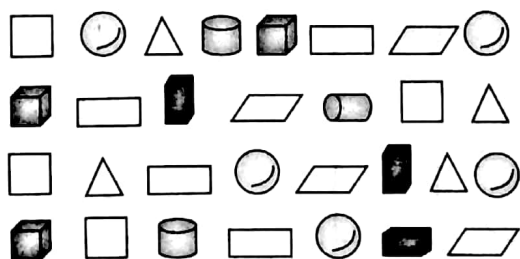
	A	2	3
张数			

2. 按花色分。(6分)

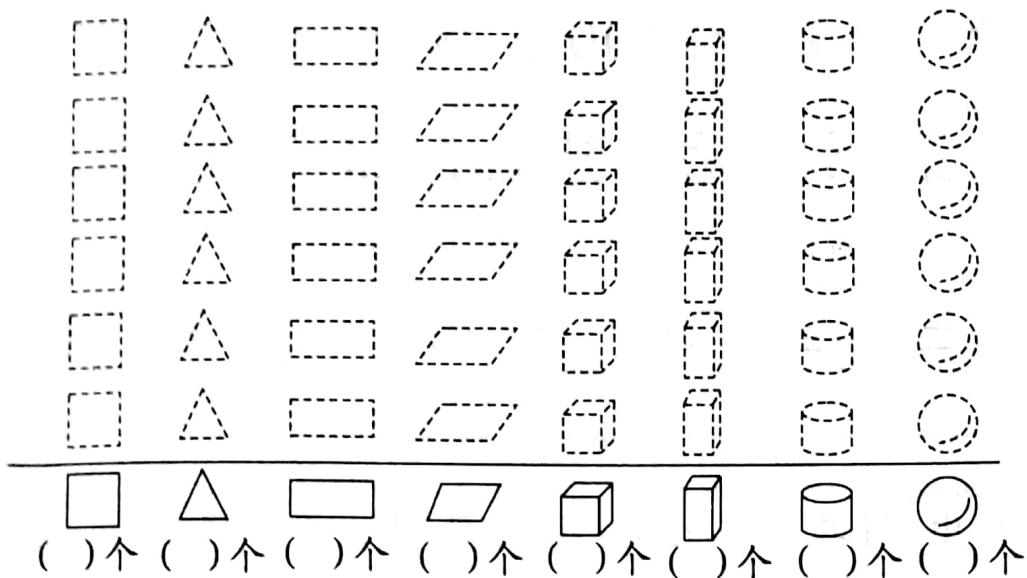


	♠	♣	♦
张数			

àn yāo qiú fēn lèi zhěng lǐ xià miàn de tú xíng
七、按要求分类整理下面的图形。(16分)



1. 按形状分一分,涂一涂,填一填每种图形各有几个。(8分)




2. 如果把这些图形分成两组,可以怎样分? 把分组的结果表示出来。(4分)

3. 请你再提出一个数学问题,并解答。(4分)

智慧园

将下面图形分类,有几种分法? 把各种分法的结果表示出来。(10分)



第三单元

一、略

二、生活用品：①④⑤⑦⑩

玩具：②⑥⑧

学习用品：③⑨⑪⑫

三、

	冰箱	柜子
个数	4	5

	○	△
个数	5	4

四、空中飞的：④⑤⑧

陆地跑的：①②③⑥⑦⑨⑩

2 条腿的：②④⑤⑦⑧

4 条腿的：①③⑥⑨⑩

五、1. 小鸡 5 只 小鸭 4 只 小兔 3 只

2. □6 个 △2 个 ○4 个

六、

	A	2	3
张数	4	3	2

	♠	♣	♦
张数	4	2	3

七、1. 4 4 4 4 3 3 3 5

2. 略 3. 略

智慧园：略