

# 第一单元 达标测试卷


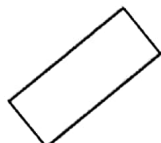
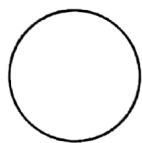
时间:90 分钟 满分:100 分

题号	一	二	三	四	五	六	七	总分	智慧园
得分									

lián yì lián

## 一、连一连。(16 分)

### 1. 认一认(5 分)



长方形


正方形

三角形


圆

平行四边形


### 2. 右边的图形是长方体的哪个面?(3 分)



下面



前面



左面

### 3. 小动物们需要哪组篱笆才能建好自己的院子? 请连一连。(8 分)



的院子



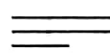

的院子



的院子



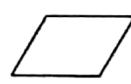
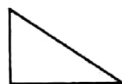

的院子




tián yì tián


## 二、填一填。(11 分)


1.




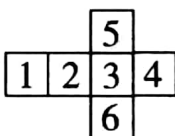

上面的图形中,从右数第( )个是三角形,从左数第 3 个是( )。

2. 一个  能剪成两个相同的( )形或( )形。

3.  是由( )个小三角形拼成的。

4.  树叶下可能是( )形或( )形。

5.  沿虚线对折, 折后的图形是( )形, 像这样的图形有( )个。

6. 用  做成一个正方体,  数字“1”的对面是数字( ), 数字“5”

的对面是数字( )。

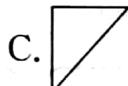
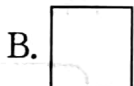
xiǎn yì xuǎn


### 三、选一选。(14分)

1. 至少用( )根火柴可以摆成一个正方形。

A. 3                      B. 4                      C. 5

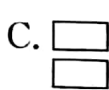
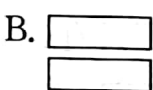

2. 把一个正方形的纸折一次, 可能折出图( )。



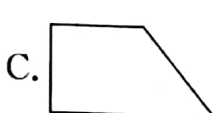
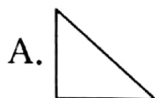
3. 用 2 个  能拼成一个( )。


A. 正方形              B. 长方形              C. 三角形

4. 下面能拼成正方形的是( )。



5. 用两个相同的三角形不能拼成的图形是( )。



6. 如图 , 这是由( )个三角形和( )个平行四边形拼成的。

A. 2                      B. 3                      C. 4

pàn yì pàn      duì de huà      cuò de huà  
四、判一判。(对的画“√”，错的画“×”)(10分)

1.  下边的面是○。( )

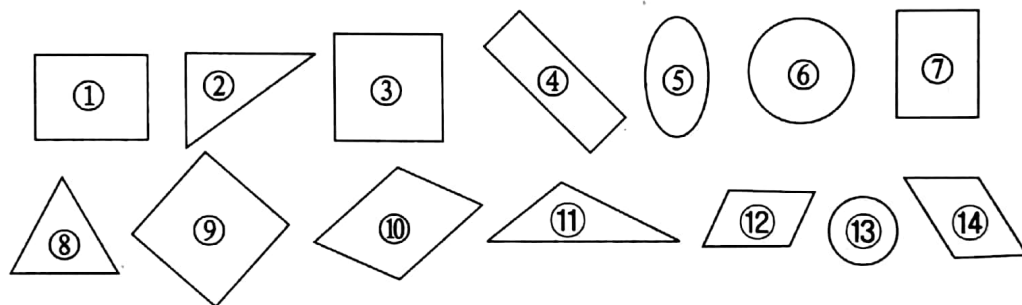
2. 两个三角形一定能拼成一个长方形。( )

3. 用  可以画出 。( )

4. 用4个  可以拼成一个 。( )

5. 两个完全一样的长方形一定能拼成一个大长方形。( )

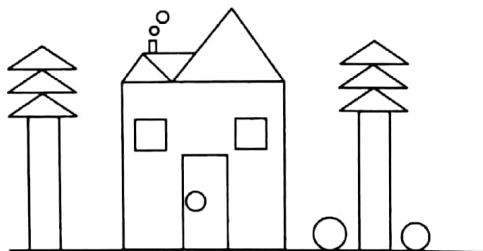
bǎ tú xíng de xù hào tián dào xiāng yìng de kuāng lǐ  
五、把图形的序号填到相应的框里。(14分)





长方形      正方形      圆      三角形      平行四边形


shǔ yì shǔ      xiǎng yì xiǎng      tián yì tián  
六、数一数，想一想，填一填。(25分)


1. (8分)



 有( )个

 有( )个


 有( )个

 有( )个

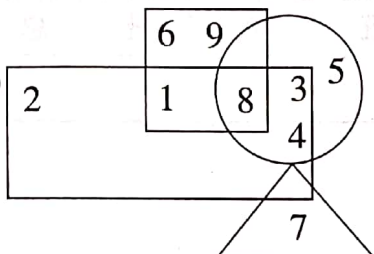
2. (5 分)



这面墙缺了( )块



3. (12 分)



在△内的数字有( )。

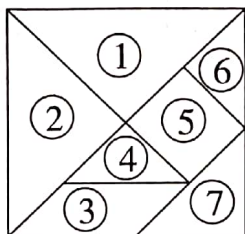
在□内的数字有( )。

在□内的数字有( )。

在○内的数字有( )。

wán zhuǎn qī qiǎo bǎn

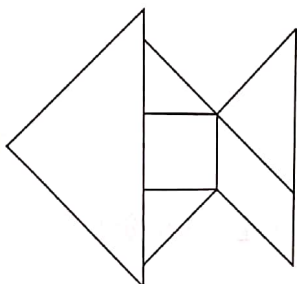
七、玩转七巧板。(10 分)



一副七巧板里有( )块□,  
( )块△,( )块□。



小芳




这是七巧板拼出的小鱼图案,  
请照样子把每块对应的序号  
在图中标出来。



明明

智慧园

在图中再画一个正方形,把 5 只兔子分开。(10 分)



## 第一单元

一、略

二、1. 6 圆 2. 长方 三角 3. 4  
4. 正方 长方 5. 三角 4  
6. 3 6

三、1. B 2. C 3. B 4. C 5. C 6. B A

四、1.  $\checkmark$  2.  $\times$  3.  $\times$  4.  $\times$  5.  $\checkmark$

五、长方形：①④⑦ 正方形：③⑨

圆：⑥⑬ 三角形：②⑧⑪

平行四边形：⑩⑫⑭

六、1. 4 3 9 5

2. 12

3.  $\triangle$ 内：7  $\square$ 内：2, 1, 8, 3, 4  $\square$

内：6, 9, 1, 8  $\bigcirc$ 内：8, 3, 5, 4

七、1 5 1 图略

智慧园：略