

第二周达标测评卷

(十几减9 十几减8、7、6)

时间:60分钟 满分:100分

题号	一	二	三	四	五	六	七	总分
得分								

tián yì tián

一、填一填。(每空1分,共17分)

1. $15 - 8 = ?$ 想:8加()得15,所以15减8等于()。

2. $16 - 7 = ?$ 想:7加()得16,所以16减7等于()。

3. $18 - 9 = ?$ 想:9加()得18,所以18减9等于()。

4. 圈一圈,填一填。



$$14 - 9 = \square$$



$$13 - 8 = \square$$

5. 在○里填上“>”“<”或“=”。

$$13 - 6 \bigcirc 7$$

$$14 - 9 \bigcirc 6$$

$$16 - 9 \bigcirc 8$$

$$18 - 9 \bigcirc 8$$

$$17 - 8 \bigcirc 9$$

$$16 - 8 \bigcirc 7$$

$$6 + 9 - 7 \bigcirc 5$$

$$2 + 6 \bigcirc 17 - 9$$

$$10 - 5 \bigcirc 13 - 8$$

sēn lín yī shēng

duì de dǎ

cuò de dǎ


bìng gǎi

二、森林医生。(对的打“√”,错的打“×”并改正)

zhèng

正)(8分)

1.




()

2.




()

3.




4.



lián yi lián

三、连一连。(14分)



bǐ yi bǐ pái yi pái

四、比一比，排一排。(8分)



从大到小: _____



从小到大: _____

suàn yi suàn

五、算一算。(18分)

1. 在()里填上合适的数。(9分)

$12 - () = 7$

$12 - () = 4$

$11 - () = 2$

$14 - () = 8$

$16 - () = 9$

$15 - () = 9$

$13 - () = 6$

$14 - () = 5$

$17 - () = 8$

2. 计算。(9分)

$13 - 7 =$

$15 - 7 =$

$17 - 8 =$

$18 - 9 =$

$4 + 9 =$

$16 - 8 =$

$11 - 9 =$

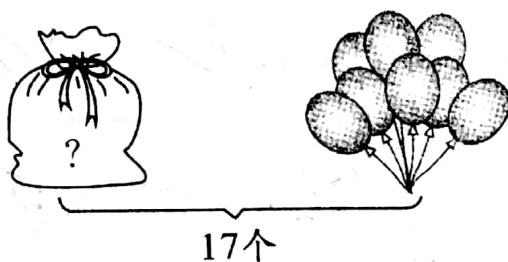
$14 - 6 =$

$15 - 6 =$

kàn tú liè shì jì suàn

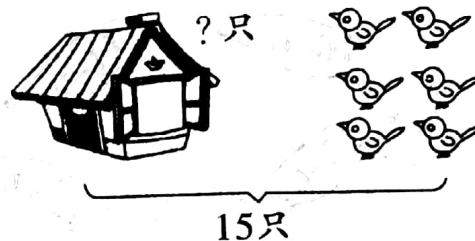
六、看图列式计算。(14分)

1.



$\square \bigcirc \square = \square (\text{个})$

2.



$\square \bigcirc \square = \square (\text{只})$

3. 送给奶奶几个桃子?



$\square \bigcirc \square = \square (\text{个})$

4. 小兔还剩多少个萝卜?



$\square \bigcirc \square \bigcirc \square = \square (\text{个})$

七、生活中的数学。(21分)

1. 还要浇多少盆花?(4分)



$$16 - \square = \square (\text{盆})$$

2. (4分)



丽丽

我有17枚硬币。

丽丽比我多8枚硬币, 那么我有多少枚硬币。




明明

$$\square \bigcirc \square = \square (\text{枚})$$

3. 小华的妈妈给她买回 18 支铅笔, 她送给好朋友丽丽、贝贝各 6 支。问: 小华现在有多少支铅笔?(5分)

$$\square \bigcirc \square \bigcirc \square = \square (\text{支})$$

4. 一共有 15 人买了火车票。(8分)



男生有9人。



已经有8人上车啦!



(1) 还有几人没上火车?

$$\square \bigcirc \square = \square (\text{人})$$

(2) 女生有多少人?

$$\square \bigcirc \square = \square (\text{人})$$

第二周达标测评卷

一、1. 7 7 2. 9 9 3. 9 9

4. (1)5 (2)5

5. = < < > = > > =
=

二、1. \times 3 2. \checkmark 3. \times 15 4. \times 12

四、 $15 - 9 > 11 - 6 > 11 - 7 > 11 - 8$

$12 - 9 < 13 - 8 < 13 - 6 < 17 - 7$

五、1. 5 8 9 6 7 6 7 9 9

2. 6 8 9 9 13 8 2 8 9

六、1. $17 - 8 = 9$ 2. $15 - 6 = 9$

3. $18 - 9 = 9$ 4. $12 - 6 - 4 = 2$

七、1. $16 - 9 = 7$ 2. $17 - 8 = 9$

3. $18 - 6 - 6 = 6$

4. (1) $15 - 8 = 7$ (2) $15 - 9 = 6$