

第三周达标测评卷


(十几减5、4、3、2 整理和复习)

时间:60分钟 满分:100分

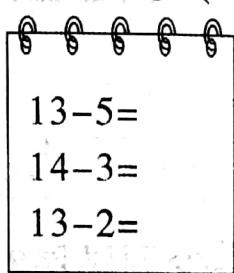
题号	一	二	三	四	五	六	七	八	总分
得分									

kàn shuí suàn de yòu duì yòu kuài

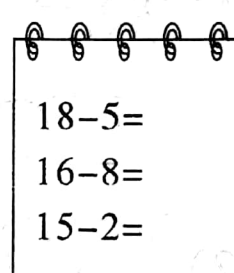
一、看谁算得又对又快。(9分)



$$\begin{array}{l} 12-6= \\ 15-5= \\ 16-4= \end{array}$$



$$\begin{array}{l} 13-5= \\ 14-3= \\ 13-2= \end{array}$$



$$\begin{array}{l} 18-5= \\ 16-8= \\ 15-2= \end{array}$$

xuǎn yì xuǎn

二、选一选。(10分)

1. 从15里减去9,还剩下()。

①6

②7

2. 妈妈买回来14个苹果,比梨多5个,那么梨有()个。

①8

②9

3. () - 6 = 7, ()里应该填()。

①14

②13

4. 12 - () = 4, ()里应该填()。

①9

②8

5. 动物园有8种鸟,后又引进了5种鸟,现在动物园里共有()种鸟。

①12

②13

zài lǐ tián shàng

huò

三、在○里填上“>”“<”或“=”。(8分)

$15-5 \bigcirc 18$

$17-4 \bigcirc 10$

$9+4 \bigcirc 12$

$13 \bigcirc 11-2$

$15-3 \bigcirc 6$


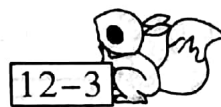

$14-5 \bigcirc 5$

$16-3 \bigcirc 13$

$15 \bigcirc 8+8$

lián yì lián

四、连一连。(8分)



xiān suàn yì suàn zài bǎ suàn shì àn de shù de duō shǎo tián zài xiāng

五、先算一算，再把算式按得数的多少填在相

yīng de fāng kuāng lǐ

应的方框里。(16分)

$11 - 5 =$	$11 - 4 =$	$12 - 5 =$	$13 - 8 =$
$14 - 5 =$	$13 - 7 =$	$12 - 6 =$	$14 - 7 =$
$5 + 8 - 4 =$	$13 - 2 - 5 =$	$12 - 5 - 2 =$	$19 - 7 - 3 =$



得数是5



得数是6



得数是7



得数是9

cāi cāi wǒ shì shuí

六、猜猜我是谁。(9分)



我是




我是




我是

kàn tú jì suàn

七、看图计算。(18分)



一共有多少朵蘑菇? $\square \bigcirc \square = \square$ (朵)



小猫吃掉了几条鱼? $\square \bigcirc \square = \square$ (条)



熊猫和猴子一共有几只?

$$\square \bigcirc \square = \square \text{ (只)}$$

兔子比熊猫多几只?

$$\square \bigcirc \square = \square \text{ (只)}$$

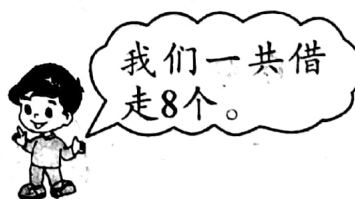
猴子比兔子少几只?

$$\square \bigcirc \square = \square \text{ (只)}$$

shēng huó zhōng de shù xué

八、生活中的数学。(22分)

1. 还剩多少个?(5分)



$$\square \bigcirc \square = \square$$

2. 小山羊拔了多少根萝卜? (5 分)



$$\square \bigcirc \square = \square$$

3. 数星星。(6 分)

(1)  多数了多少颗星星?


$$\square \bigcirc \square = \square$$

(2)  少数了多少颗星星?

$$\square \bigcirc \square = \square$$



4. 草地上,有 12 头老牛和 5 头小牛在吃草。(6 分)



(1) 一共有多少头牛?

$$\square \bigcirc \square = \square (\text{头})$$

(2) 老牛比小牛多几头?

$$\square \bigcirc \square = \square (\text{头})$$

第三周达标测评卷

二、1. ① 2. ② 3. ② 4. ② 5. ②

三、< > > > > > = <

六、9 6 6

七、1. $6 + 8 = 14$ 2. $15 - 9 = 6$

3. $5 + 4 = 9$ $12 - 5 = 7$ $12 - 4 = 8$

八、1. $17 - 8 = 9$ (个) 2. $14 - 5 = 9$ (根)

3. (1) $11 - 5 = 6$ (颗) (2) $11 - 4 = 7$ (颗)

4. (1) $12 + 5 = 17$ (2) $12 - 5 = 7$