

第一周(第一单元)达标测评卷

(认识图形(二))


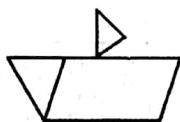

时间:60 分钟

满分:100 分

题号	一	二	三	四	五	六	七	八	总分
得分									

wǒ huì tú


一、我会涂。(6 分)



tián kòng

二、填空。(每空 1 分,共 18 分)

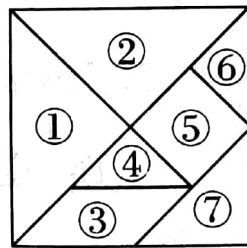
- 长方形有()条边,正方形有()条边,三角形有()条边,平行四边形有()条边。
- 在我们学习的图形中,硬币是()形的,黑板是()形的。
- 有若干根相同长度的小木棒,最少用()根可以摆成一个正方形,最少用()根可以摆成长方形。
- 看图填序号。



□()个, △()个, □()个, ▱()个,

5. (1) 一套七巧板有()块,()个□,()个▢,
()个△。

(2) 用右边七巧板中的 4 号和 6 号可以拼成一个正方形,也可以拼成一个()形,还可以拼成一个()形。



jiāng zhèng què dá àn de xù hào tián rù kuò hào lǐ

三、将 正 确 答 案 的 序 号 填 入 括 号 里。(15 分)

1. 下面图形是正方形的是()。




①



②




③




④


2. 下面图形是长方形的是()。



①



②



③



④

3. 下面图形是三角形的是()。



①



②

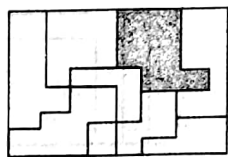


③



④

4. 拼块()和拼图中的阴影部分完全相同。



①



②

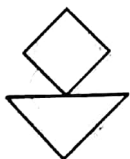


③

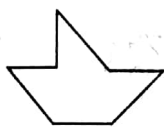


④

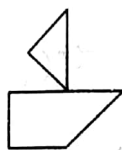
5. 下面图形()不能看成是由 4 个完全相同的三角形拼成的。



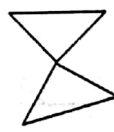
①



②



③



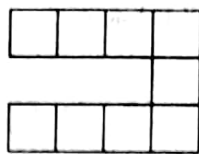
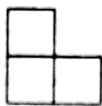
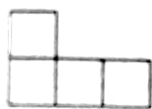


④

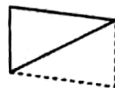
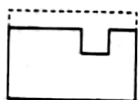
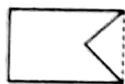
lián yì lián

四、连一连。(12分)

1. 上面的图形能和下面的哪个图形拼成长方形或正方形？用线连一连。



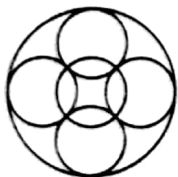
2. 上面的图形是从下面哪个图形上剪下来的？用线连一连。



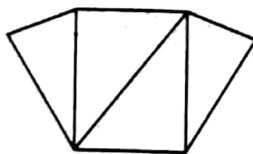
shǔ yì shǔ

五、数一数。(12分)

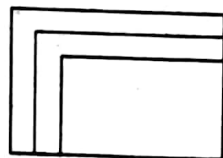
1.



有()个圆

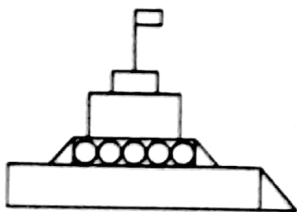


有()个三角形



有()个长方形

2.

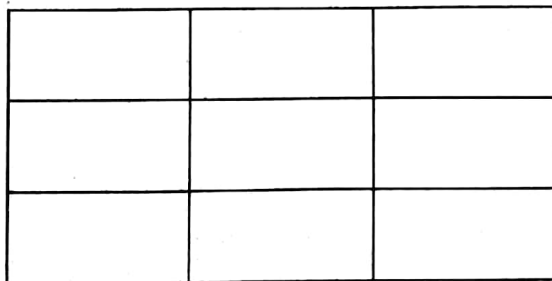
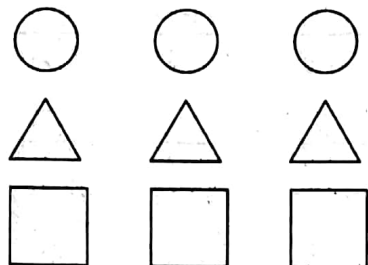


有()个□,有()个△,有()个○。

dòng nǎo jīn bǎ měi gè tú xíng huà zài fāng gé lǐ shǐ héng shù
六、动脑筋，把每个图形画在方格里，使横、竖


háng dōu yǒu sān zhǒng tú xíng

行都有三种图形。(12分)



wǒ huì fēn


七、我会分。(18分)




分成
两个三角形



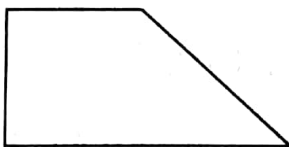
分成
两个平行四边形



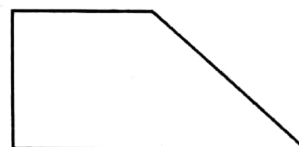
分成
两个正方形



分成
两个长方形



分成一个正方形
和一个三角形




分成
两个三角形

xià tú quē le

kuài

八、下图缺了()块 。(7分)



第一周(第一单元)达标测评卷

二、1. 4 4 3 4 2. 圆 长方

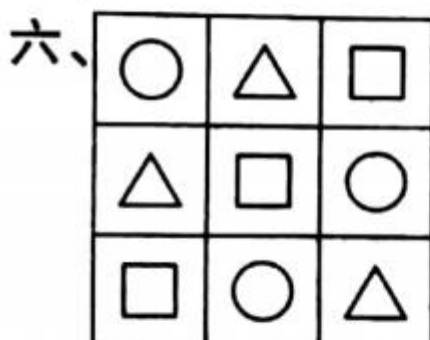
3. 4 6 4. 1 2 2 2

5. (1) 7 1 1 5


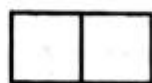

(2) 三角 平行四边

三、1. ① 2. ② 3. ① 4. ③ 5. ②

五、1. 6 4 3 2. 5 3 5



七、(答案不唯一)



八、12