

第一单元《逛公园——20 以内的退位减法》 检测题(A 卷)(青岛版)

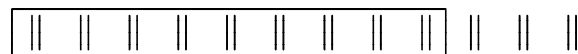
(时间:60 分钟 满分:100 分)

一、口算下面各题直接写出得数。(15 分)

$$\begin{array}{lllll} 5+11= & 4+9= & 6+8= & 8+9= & 4+7= \\ 14-6= & 16-7= & 15-9= & 12-4+5= & 11+3+3= \\ 11-4-3= & 16-8+5= & 12+7-1= & 3+9-6= & 12-3+3= \end{array}$$

二、照样子圈圈,算算。(15 分)

例:



$$12-9=3$$

1. ○○○○○○○○○○○○○○

$$14-8=$$

2. □□□□□□□□□□□□□□


$$17-8=$$



$$11-6=$$



$$13-7=$$

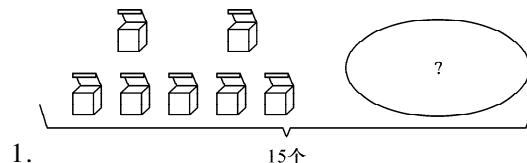


$$16-8=$$


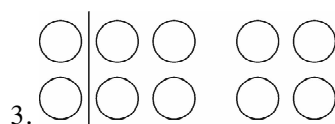

三、动脑筋算一算。(8 分)

$$8+()=11 \quad 8+()=13 \quad 6+()=15 \quad ()+8=14$$

四、看图列式计算(32 分)



$$\square \bigcirc \square = \square (\text{个})$$



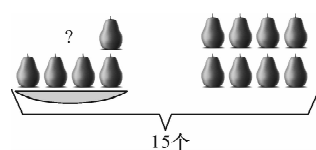
$$12-\square=\square$$

$$12-\square=\square$$

$$12-\square=\square$$

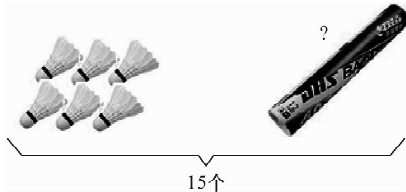
$$12-\square=\square$$

4.



$$\square \bigcirc \square = \square$$

5.



$\square \bigcirc \square = \square$

五、解决问题。(30 分)

1. 黑兔和白兔一共有萝卜 16 个,分给白兔 9 个,黑兔有多少个?

2. 鱼缸里一共有 13 条,其中金鱼 8 条,花鱼有多少条?

3. 乐乐家有白兔、灰兔一共 15 只,其中灰兔有 9 只,白兔有几只?

4. 小白兔采了 15 朵蘑菇,送给小松鼠一些,还剩 6 朵,小白兔送给小松鼠几朵?

5. 欢欢买了 13 块糖,给了姐姐 4 块,现在姐姐比欢欢多 1 块,姐姐现在有多少块糖?

6. 草地上有 17 只蝴蝶,飞走 9 只,还剩下几只?