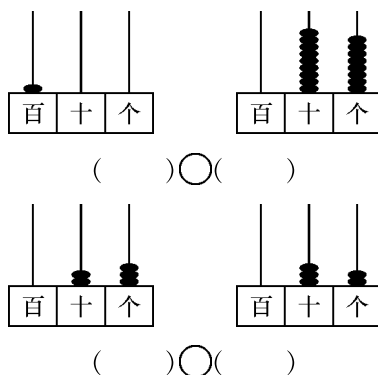


## 第二单元评估检测题(B卷)

(时间:60分钟 满分:100分)

一、想一想,填一填(每空1分,共28分)

1. 数一数,比一比。



2. 在○里填上“>”“<”或“=”。

$37 \bigcirc 42$

$58 \bigcirc 55$

$30 + 40 \bigcirc 60$

$90 - 20 \bigcirc 70$

$84 - 80 \bigcirc 5$

$95 - 5 \bigcirc 90$

$83 - 30 \bigcirc 46$

$65 - 5 \bigcirc 24$

3. 我会填。

88 是( )位数,左边的 8 在( )位上,表示( )个( ),右边的 8 在( )位上,表示( )个( )。

4. 排一排。

把 41、78、92、57、71、19、60 按从小到大的顺序填入下面的( )里。

( ) < ( ) < ( ) < ( ) < ( ) < ( ) < ( )

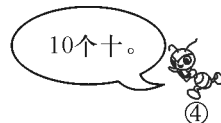

二、下雨了,小蚂蚁要到哪片树叶下躲雨呢(连一连)(8分)

22

86

100

92



三、口算(8分)

$30 + 20 =$

$49 - 9 =$

$20 + 80 =$

$100 - 60 =$

$39 - 9 =$

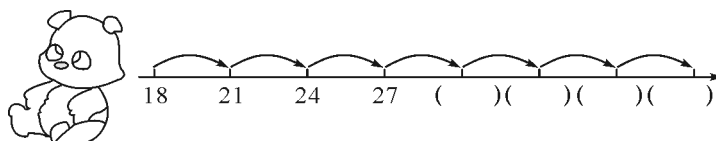
$80 - 10 =$

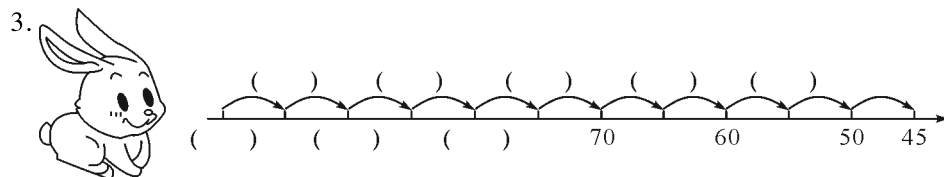
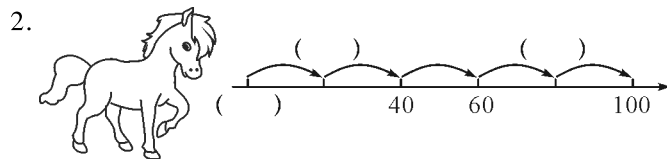
$80 + 8 =$

$3 + 30 =$

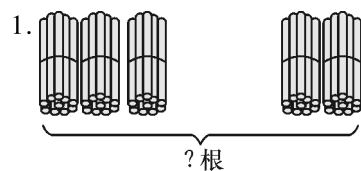
四、找规律填空(每空1分,共15分)

1.

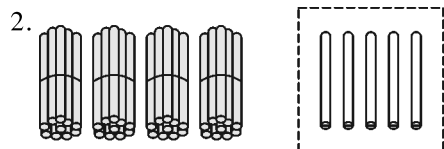




五、看图列式计算(每题3分,共6分)

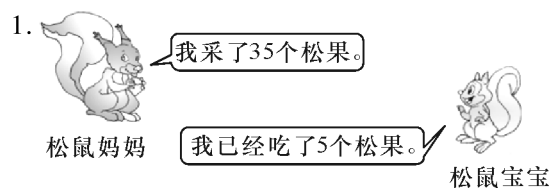


$$\square \bigcirc \square = \square \text{ (根)}$$



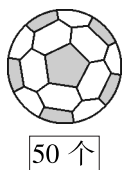
$$\square \bigcirc \square = \square \text{ (根)}$$

六、生活中的数学(1题4分,2题3分,3题5分,共12分)




松鼠妈妈还有多少个松果?

2. 体育用品商店购进一些足球和排球。两种球一共有多少个?



3. 秋游。

有 40 名同学,3 位老师。一辆车能坐下吗?



限乘 50 人

○  =  (人)

>  能  不能  ( 选择合适的答案画“√” )


七、按要求做题(5 分)



你知道数学书有多少本吗? 在你认为合适的答案下面画“√”。

85	45	30	77
<input type="text"/>	<input type="text"/>	<input type="text"/>	<input type="text"/>

八、美丽的学校( 每题 4 分 , 共 12 分 )



1. 柳树和杨树一共有多少棵?

2. 再栽多少棵杨树就和松树一样多了?

3. 你还能解决哪些问题?

九、分苹果。(6 分)

把 11 个苹果放到两个相同的篮子里 , 一共有哪几种放法?

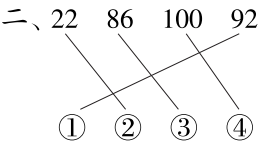
B 卷评估标准及参考答案

评估标准：

B 卷在设计上更注重学生能力的培养与提升,七难度较 A 卷有一定的增加,题量要多于 A 卷。通过练习能够深化学生对本单元知识点的识记,有利于形成单元的知识结构体系。在难易程度上基础题占 85%,稍提升题占 15%,主要体现在一些填空题和计算题中,既照顾全体夯实基础,又能为学生提高计算能力提供保障。

参考答案：

- 一、1.  $100 > 98$      $23 < 32$   
2.  $<$     $>$     $>$     $=$     $<$     $=$     $>$     $>$   
3. 两   十   8   十   个   8   一  
4. 19   41   57   60   71   78   92



- 三、50   40   100   40   30   70   88   33  
四、1. 30   33   36   39  
2. 0   20   80  
3. 100   95   90   85   80   75   65   55

- 五、1.  $30 + 20 = 50$   
2.  $55 - 5 = 50$   
六、1.  $35 - 5 = 30$   
2.  $50 + 40 = 90$   
3.  $40 + 3 = 43$ (人)     $50 > 43$

能 ☒    不能 ☐

七、

85	45	30	77
			✓

- 八、1.  $8 + 30 = 38$   
2.  $38 - 30 = 8$   
3. 松树和杨树一共有多少棵?  
 $38 + 30 = 68$ (棵)  
答:松树和杨树一共有 68 棵。

九、一共有 5 种放法,分别是一个篮子放 1 个,另一个篮子放 10 个;一个篮子放 2 个,另一个篮子放 9 个;一个篮子放 3 个,另一个篮子放 8 个;一个篮子放 4 个,另一个篮子放 7 个;一个篮子放 5 个,另一个篮子放 6 个。