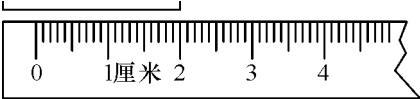


第八单元评估检测题(B 卷)

(时间 :60 分钟 满分:100 分)

一、判断题(每题 2 分,共 10 分)

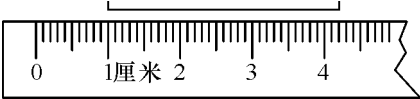
1.



()

2厘米

2.



()

4厘米 ()

3. 数学书长 26 米。()

4. 一条直线长 7 厘米。()

5. 300 厘米 = 100 厘米 + 200 厘米。()

二、填空题(每空 2 分,共 36 分)

1. 在括号里填上合适的长度单位。

- (1)一棵大树高 10 ()。
- (2)曲别针长 3 ()。
- (3)跳绳长 2 ()。
- (4)100 张纸厚 1 ()。
- (5)小兔子的尾巴约长 7 ()。
- (6)小明身高 138 (),他的大拇指宽约 1 (),手腕一圈长约 12 ()。

2. 在○里填“>”“<”或“=”。

- (1)25 厘米○2 米

(2)100 厘米○1 米

(3)51 厘米○49 厘米

(4)98 米○89 米

(5)50 厘米○5 米

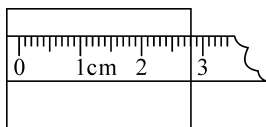
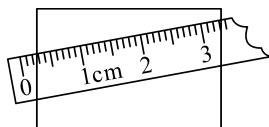
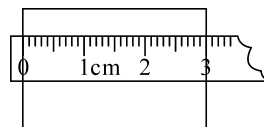
(6)33 厘米○3 米

3. 将下面各数从大到小排列。

90 厘米 3 米 15 米 1 米

() () () ()

三、哪种量法对,就在 ☐ 里画“√”,不对的画“×”(9分)


☐

☐

☐

四、生活中的数学(每题5分,共35分)

1.  比 矮多少厘米?



2. 两条绳子一共长 38 米,其中一条长 18 米,另一条长多少米?

3. 两棵小树,一棵高 1 米 28 厘米,一棵高 1 米 35 厘米。高的高出矮的多少厘米?

4. 工人叔叔修一条长 60 米的路,已经修了 40 米,还差多少米没有修?

5. 小华和小明从一条路的两头面对面走来,两人相遇时,小华走了 45 米,小明走了 42 米。这条路长多少米?

6. 一根彩带长 1 米,做蝴蝶结用去 80 厘米。还剩下多少厘米?

7. 一根电线减去 28 厘米,还剩 70 厘米。这根电线原来有 1 米长吗?

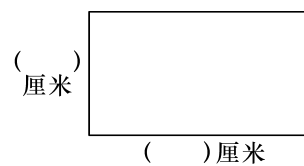
五、动手操作(10 分)

1. 动手画一画。(6 分)

(1)画一条 5 厘米的线段。

(2)画一条比 6 厘米短 2 厘米的线段。

2. 量出下面图形每边的长度。(4 分)



B 卷评分标准及参考答案

评估标准:

本套试卷以填空、判断、操作、应用等类型的题目,主要考查学生对厘米、米的认识。本试卷基础题占 80%,余下的 20% 是稍微综合一些的题目,考查的是学生综合运用能力。考查结束后,对于部分学生对厘米和米的不够理解,可针对性地进行讲解。

参考答案:

一、1. \times 2. \times 3. \times 4. \times 5. \checkmark

二、1. 米 厘米 米 厘米 厘米 厘米 厘米 厘米

2. (1) $<$ (2) $=$ (3) $>$ (4) $>$ (5) $<$ (6) $<$

3. 15 米 3 米 1 米 90 厘米

三、第三幅图对的

四、1. $70 - 52 = 18$ (厘米)

2. $38 - 18 = 20$ (米)

3. $35 - 28 = 7$ (厘米)

4. $60 - 40 = 20$ (米)

5. $45 + 42 = 87$ (米)

6. 1 米 $= 100$ 厘米 $100 - 80 = 20$ (厘米)

7. $28 + 70 = 98$ (厘米) 没有 1 米长

五、略