

第八单元《阿福的新衣——厘米、米的认识》

检测题(青岛版)

(时间:60分钟 满分:100分)

一、填空题。(每空1分,计21分)

1. 在()里填上适当的单位。

- (1) 铅笔长 18()
- (2) 手掌宽 7()
- (3) 楼房高 40()
- (4) 妹妹身高 98()
- (5) 小红身高 1()25 厘米









2. 填一填。

- (1) 24 厘米 + 17 厘米 = () 厘米
- (2) 72 厘米 - 27 厘米 = () 厘米
- (3) 1 米 = () 厘米
- (4) 45 米 + 36 米 = () 米
- (5) 2 米 + 50 厘米 = () 米 () 厘米
- (6) 量比较短的物体,可以用()做单位,量比较长的物体或距离,通常用()做单位,量教室的长和宽用()做单位,量书本的长和宽用()做单位。
- (7) 我国著名篮球运动员姚明身高 2()26()。

3. 有三条线段,第一条线段长 9 厘米,第二条线段长 7 厘米,第三条线段长 14 厘米。

- (1) 第一条线段比第三条线段短()厘米。
- (2) 第三条线段比第二条线段长()厘米。
- (3) 第一条和第二条线段共长()厘米。
- (4) 三条线段一共长()厘米。

二、连线。(16分)

			
高10	长5	长12	高3
<div style="display: inline-block; border: 1px solid black; padding: 2px 5px;">厘米</div> <div style="display: inline-block; border: 1px solid black; padding: 2px 5px;">米</div>			
			
高165	长2	高25	高80

三、在○里填上“>”“<”或“=”。(12分)

- (1) 85 厘米 ○ 2 米
- (2) 100 厘米 ○ 1 米
- (3) 45 厘米 ○ 72 厘米 - 20 厘米
- (4) 95 米 ○ 89 米
- (5) 500 厘米 ○ 5 米

(6)80 米○24 米+50 米

四、解决问题。(30 分)

1. 工人叔叔修一条 95 米长的公路,修了一天还剩 36 米,这一天修了多少米?

2. 服装厂运来白布 46 米,花布 39 米,花布和白布一共多少米?

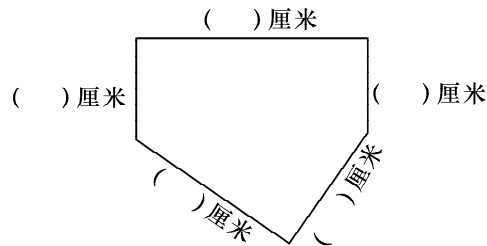
3. 一根绳子,原来长 53 米,我第一次剪去 19 米,第二次剪去 23 米。这根绳子还剩下多少米?

4. 一捆绳子长 50 米,第一次剪下 6 米,第二次剪下 8 米。这捆绳子短了多少米? 还剩多少米?

5. 一根铁丝可以围成 4 个正方形,每个正方形用铁丝 4 米,这根铁丝长多少米?

五、动手题。(21 分)

1. 量一量下面各条线段的长度。(15 分)



2. 画一画。(6 分)

(1)画一条长 4 厘米的线段。

(2)再画一条比它长 2 厘米的线段。