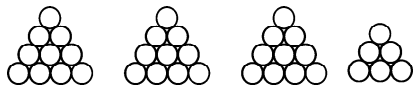


第五单元《绿色行动——100 以内的加减法(一)》
检测题(B 卷)(青岛版)

(时间:60 分钟 满分:100 分)

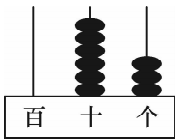
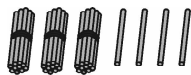
一、填空。(30 分)

1. 看图写数。



图中有()个十和()个一,组成的数读作(),写作()。

2.



()个十,()个一,写作() 写作(),由()个十,()个一组成。

3. 在○里填上“>”、“<”或“=”。

$37 - 7 \bigcirc 30$ $45 + 9 \bigcirc 53$ $5 + 67 \bigcirc 72$ $35 + 8 \bigcirc 46 - 7$
 $75 - 50 \bigcirc 25$ $38 \bigcirc 30 + 7$ $32 - 8 \bigcirc 40 - 9$ $55 - 40 \bigcirc 8 + 7$

4. 请想一想,填一填。

9 比 59 小 _____。78 比 70 大 _____。
58 比 9 大 _____。9 比 80 小 _____。

5. 在括号里填上合适的数。

$85 - 7 = 70 + ()$ $64 - () = 44$ $38 + 5 = 48 - ()$
 $29 + 6 = 35 + ()$ $75 = 25 + ()$ $15 + () = 25 - ()$

6. 最大的两位数与最大的一位的差是()。

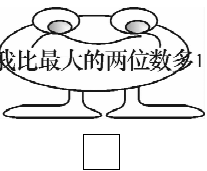
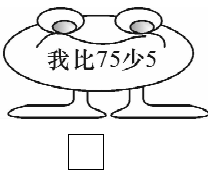
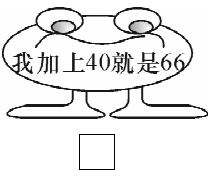
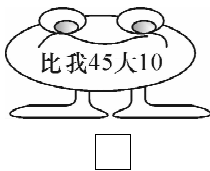
二、看谁的口算最好!(15 分)

$59 - 9 =$ $16 + 70 =$ $67 - 8 =$ $70 - 7 =$ $53 - 8 =$
 $3 + 48 =$ $81 - 6 =$ $3 + 73 =$ $50 + 40 =$ $99 - 9 =$
 $46 + 6 =$ $91 - 50 =$ $65 + 7 =$ $20 + 49 =$ $45 - 30 =$
 $43 + 9 =$ $52 - 8 =$ $69 - 8 =$ $50 - 8 =$ $29 + 5 =$
 $79 + 3 =$ $53 - 7 =$ $40 + 55 =$ $17 + 7 =$ $40 - 6 =$
 $5 + 38 =$ $92 - 7 =$ $74 - 5 =$ $4 + 79 =$ $42 + 8 =$

三、填一填。(10 分)

商品					
原价	20 元	() 元	56 元	18 元	86 元
现价	9 元	20 元	() 元	() 元	() 元
降价	() 元	12 元	16 元	10 元	9 元

四、猜猜我是谁。(8 分)



Two cartoon cats are running. The cat on the left is carrying a bag with 9 fish. The cat on the right is carrying a bag with 38 fish. A bracket below them is labeled "?条". Below the bracket is a blank equation: $\square \bigcirc \square = \square$.

- 七、我会买。(17 分)

1. 笑笑想买一个蛋糕和一份礼物需要花多少钱？(5 分)



2. 如果给你 40 元钱买上面的东西,你会怎么买呢?

我会买_____ (3 分)

需要多少钱算一算： (3 分)

3. 请你提出一个数学问题并解答。

问题: _____ (3 分)

列式: _____ (3 分)