

第九单元《我换牙了——统计》检测题(青岛版)

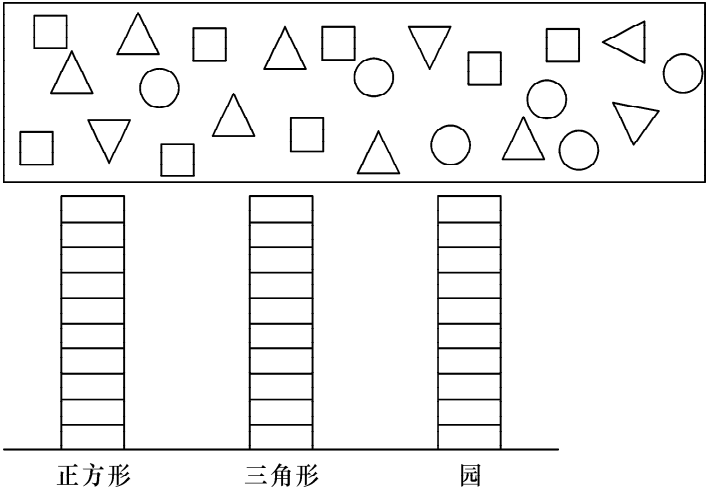
(时间: 60 分钟 满分:100 分)

一、用竖式计算。(20 分)

$28 - 15 =$ $32 + 50 =$ $37 + 3 =$ $25 + 9 =$ $15 + 26 - 35 =$

$35 + 15 =$ $70 - 26 =$ $53 - 7 =$ $80 - 30 =$ $75 - 38 - 24 =$

二、数一数,涂一涂,填一填。(18 分)

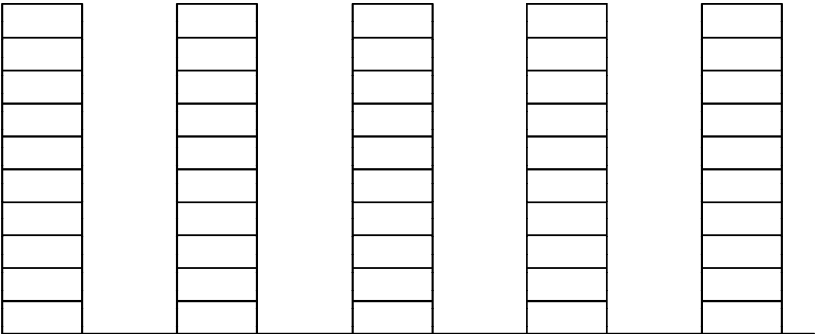


1. 三种图形一共有()个。
2. ()个数最多,()的个数最少,它们相差()个。
3. ()增加 4 个就和()同样多。
4. 在图上的格子涂色表示图形的数量。

三、下表是一年一班学生喜欢看的动画片统计情况。(14 分)

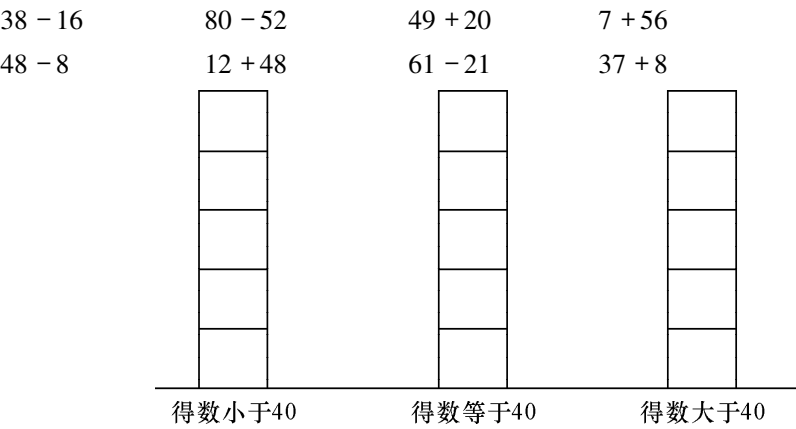
节目	《西游记》	《喜羊羊与灰太狼》	《加菲猫》	《葫芦娃》	《蓝猫》
人数	6	10	3	7	9

1. 在下面的格子里涂色表示看各种动画片的人数。



- 《西游记》 《喜羊羊与灰太狼》 《加菲猫》 《葫芦娃》 《蓝猫》
2. 一共调查了()人,喜欢看()的人数最多,喜欢()的人数最少。
 3. 喜欢看《西游记》和《喜羊羊与灰太狼》的一共()人。

四、根据下列算式的得数完成统计图。(涂一涂)(12 分)



五、跳绳比赛。(15 分)

姓名	笑笑	淘气	小红	小明	月月	欢欢
成绩	74	98	88	100	83	95
名次						

1. 把他们名次排出来,填在表格里。
2. 最多的跳了()下,最少的跳了()下,相差()下。
3. 第一名比第五名多跳了()下。
4. 第五名再跳()下和第四名同样多。

六、解决问题。(21 分)

1. 车上原有乘客 54 人,到站后下去 28 人,又上来 17 人,现在车上有多少人?

2. 星期天,小明和妈妈去超市买东西,买鸡蛋花了 23 元,买肉花了 41 元,付给售货员一张 50 元的和一张 20 元的,应找回多少元钱?

3. 一座桥第一天修了 15 米,第二天修了 18 米,还剩 54 米没修,这座桥长多少米?