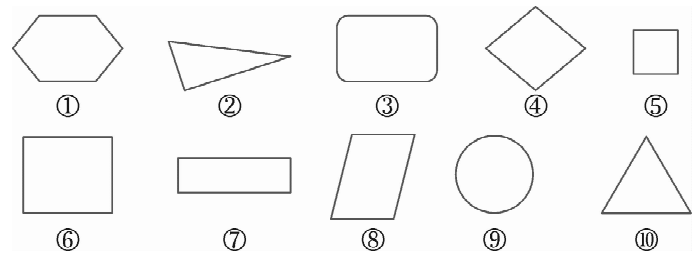


第四单元《牧童——认识图形》检测题(青岛版)

(时间:60 分钟 满分:100 分)

一、将适合的序号填写在横线上。(10 分)

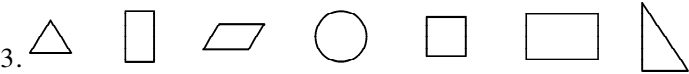


\_\_\_\_\_是长方形,\_\_\_\_\_是正方形,\_\_\_\_\_是圆,\_\_\_\_\_是三角形,\_\_\_\_\_是平行四边形。

二、填空题。(1~5 题每空 1 分,6 题 2 分,计 12 分)

1. 用( )根小棒可以摆一个长方形;用( )根小棒可以摆一个三角形。

2. 硬币是( )形;红领巾是( )形;课桌面是( )形。



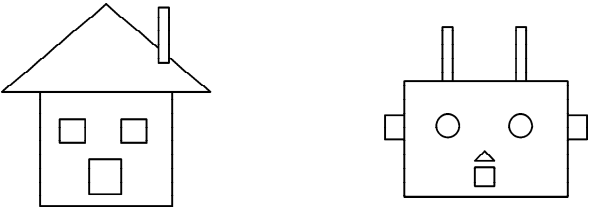
① 从左往右数第( )个是圆形,第( )个是正方形;

② 一共有( )个长方形。

4. 用手摸一摸,圆柱上下两个面,它们的大小( )。

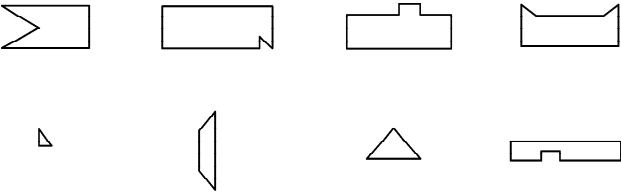
5. 用 2 块完全一样的正方形可以拼成一个( )。

6. 我来涂一涂。(给正方形涂上你喜欢的颜色)

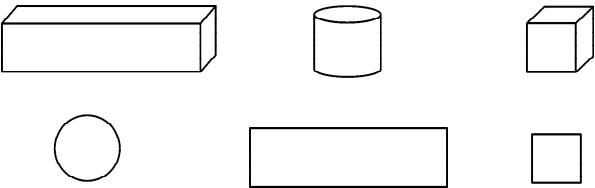


三、我会连线。(20 分)

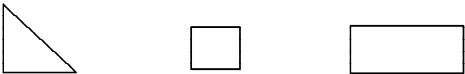
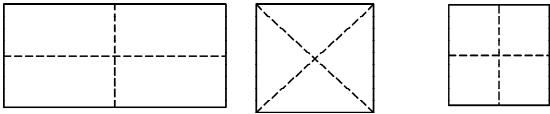
1. 下面的一块是从上面哪一块中剪下来的,用线连一连。



2. 用下面的长方体、正方体和圆柱可以画出哪些图形? 连一连。

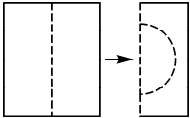


3. 它们折出来是什么样子？连一连。



四、选择正确的答案。(6 分)

1. 像这样先折后剪会得到一个( )图形。



- A. 正方形                      B 长方形                      C 平行四边形                      D 圆形

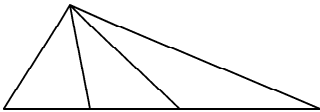
2. 下图是小男孩用手中的长方体铅笔盒,最多可以画出( )个不同的长方形。



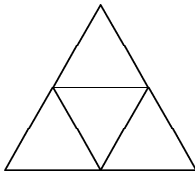
- A. 6 个                      B 4 个                      C 3 个

五、数一数。(8 分)

1.

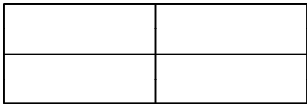


( )个三角形

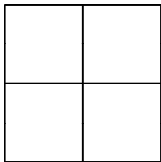


( )个三角形

2.



( )个长方形

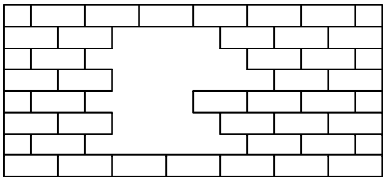


( )个正方形

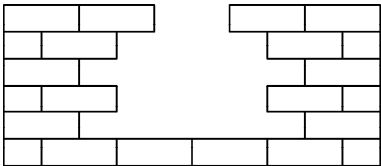
六、圈一圈。(请你找出用右侧哪一个物体可以画出左侧的图形,用笔圈出来。)(8

分)


七、画一画,数一数,每堵墙各缺了多少块砖?(10 分)

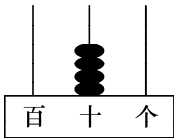


缺( )块砖

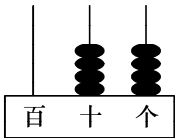


缺( )块砖

八、先写出读数,再进行计算。(8 分)



( )



( )

+  =



( )

-  =

九、解决问题。(18 分)

1. 欢欢做贴画用了 40 块长方形,乐乐用了 25 块,他们俩一共用了多少块长方形?

2. 晶晶有 14 个三角形,芳芳有 8 个三角形,晶晶比芳芳多多少个三角形?

3. 欢欢的贴画用了 58 块三角形,其中红色的有 6 块,除了红色以外的还有多少块三角形?