

数学好玩单元检测题(B 卷)(北师版)

(时间:60 分钟 总分:100 分)

一、算一算。(16 分)

1. 直接写出得数。(8 分)

$760 + 180 =$ $120 + 340 =$ $830 - 400 =$ $650 - 150 =$
 $398 + 207 \approx$ $906 - 495 \approx$ $1000 - 312 \approx$ $599 + 305 \approx$

2. 竖式计算。(8 分)

$53 \div 7 =$ $412 - 89 =$ $391 + 523 =$ $289 + 517 =$

二、填一填。(每空 1 分,共 18 分)

1. 一个数除以 7 有余数,余数最大是(),最小是()。
2. 如果乐乐在洋洋的东北方向,那么洋洋在乐乐的()方向。
3. 与 3985 相邻的两个数是()和()。
4. 选择适当的单位填空。
(1)教室的门高约 2 ()
(2)跳绳 100 下大约用 1 ()
(3)每天体锻 1 ()
(4)一本书厚约 4 ()
(5)汽车每时行驶约 80 ()

5. 单位换算。




$1 \text{ 时 } 12 \text{ 分} = () \text{ 分}$ $3020 \text{ 米} = () \text{ 千米} () \text{ 米}$
 $7 \text{ m} = () \text{ cm}$ $170 \text{ 秒} = () \text{ 分} () \text{ 秒}$
 $3 \text{ 厘米 } 5 \text{ 毫米} = () \text{ 毫米}$ $2 \text{ 分 } 5 \text{ 秒} = () \text{ 秒}$




三、()里最大能填几?(8 分)

() $\times 4 < 30$ () $\times 6 < 52$
() $\times 8 < 60$ () $\times 9 < 43$

四、先写出钟面所表示的时间,再完成填空。(8 分)

(1) (2) (3)

吃早饭 上课 睡觉

() () ()

第一个钟面上的时间到第二个钟面上的时间经过了()时()分。

五、数一数,完成填空。(12 分)

(1)  有()个长方形,有()个直角;

(2)  有()个正方形

六、用 12、13、14、15 这四个数编两道加、减混合算式。(10 分)

() + () - () = ()

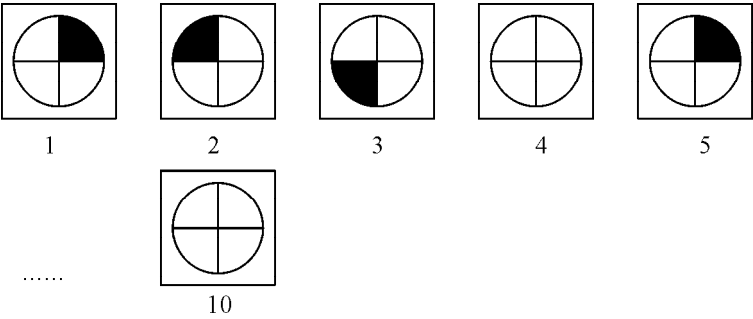
() - () + () = ()

七、解决问题。(28 分)

1. 观察下面的点组成的图形,接着往下画。(8 分)



2. 按照下面的图形发展趋势,第 4 个图中应该如何填涂? 第 10 个图又是什么样子的呢? 涂一涂。(10 分)



3. 把“1~9”这九个数字填到方格中,使得每行每列和每条对角线的三个数字的和都相等。(10 分)

